

รายวิชาภาษาไทย


รหัสวิชา ท๑๓๑๐๑

ชั้นประถมศึกษาปีที่ ๓

เรื่อง การอ่านข้อมูลจากแผนที่

ครูผู้สอน ครูอนุชา อินทร์พ่วง





เรื่อง

การอ่านข้อมูล

จากแผนที่



สะพานไม้เคี่ยม จังหวัดชุมพร



ดอยอินทนนท์ จังหวัดเชียงใหม่



ผาชมหมอก จังหวัดหนองคาย

วัดพระแก้ว จังหวัดกรุงเทพมหานคร

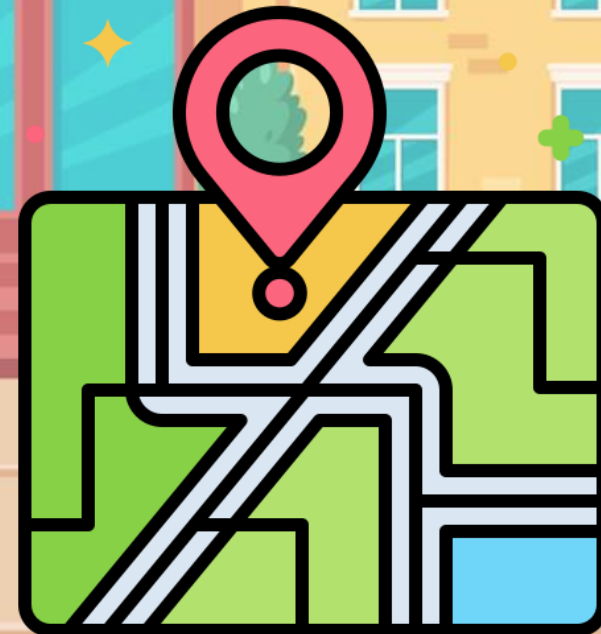


น้ำตกปางสีดา จังหวัดสระแก้ว

ทางรถไฟสายมรณะ จังหวัดกาญจนบุรี



ถ้านักเรียนอยากจะไปเที่ยวสถานที่เหล่านี้
แต่ไม่รู้เส้นทางและตำแหน่งที่ตั้ง
เราจะหาข้อมูลได้จากที่ใด



เมื่อขับรถตาม GPS





จับตาม GPS เก่งตกขอบสะพาน

จุดประสงค์การเรียนรู้

- ๑) บอกความหมายของแผนที่ได้
- ๒) อ่านข้อมูลจากแผนที่ได้
- ๓) มีมารยาทในการพูดและการอ่าน



การอ่านข้อมูลจากแผนที่

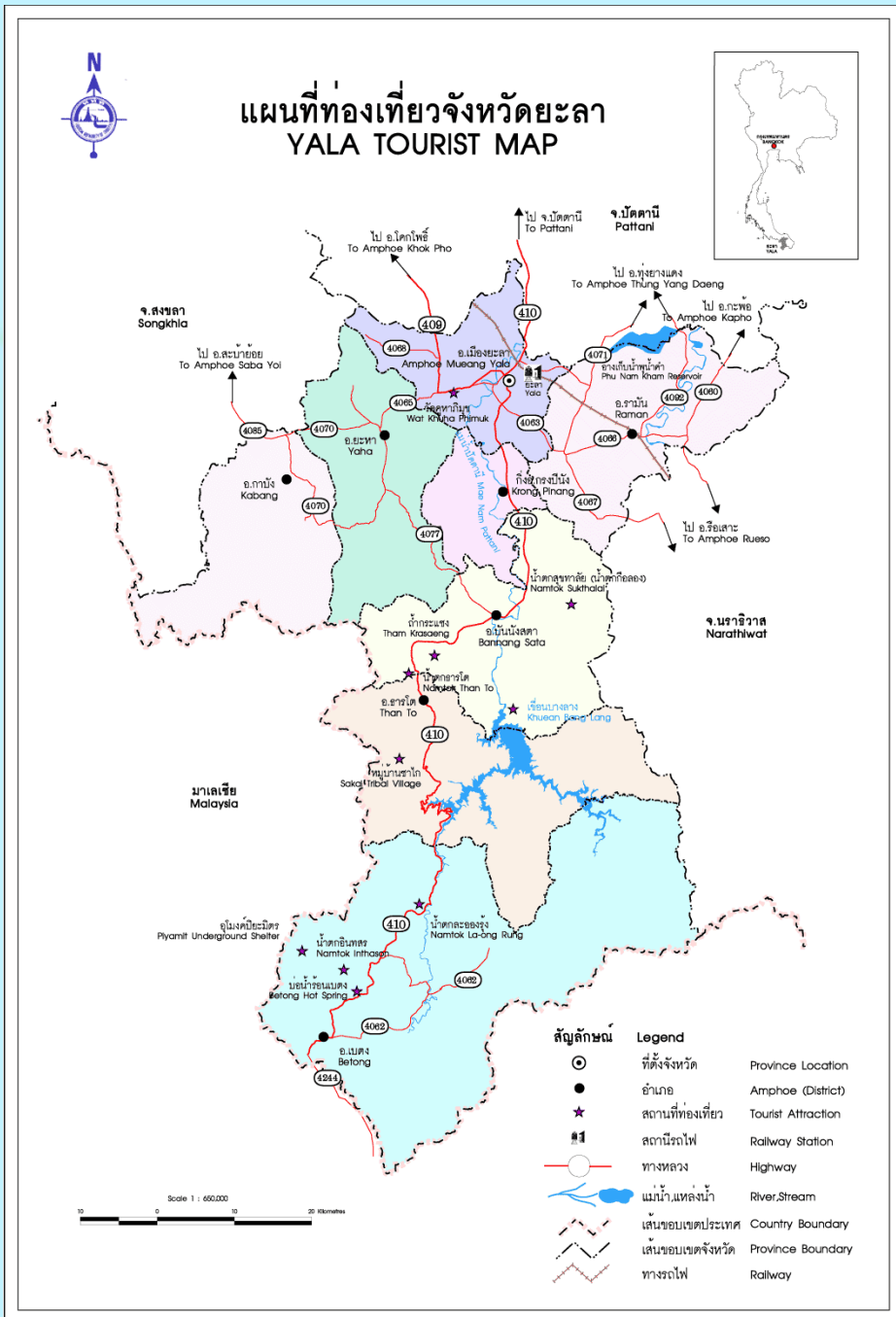
แผนที่ คือ แบบที่เขียนย่อจากพื้นดิน บอกแม่น้ำ
ฝั่งทะเล และอื่น ๆ

แผนที่ที่นักเรียนมักพบและใช้ข้อมูลให้เป็น
ประโยชน์ ได้แก่ แผนที่ประเทศไทย แผนที่
การเดินทาง เป็นต้น



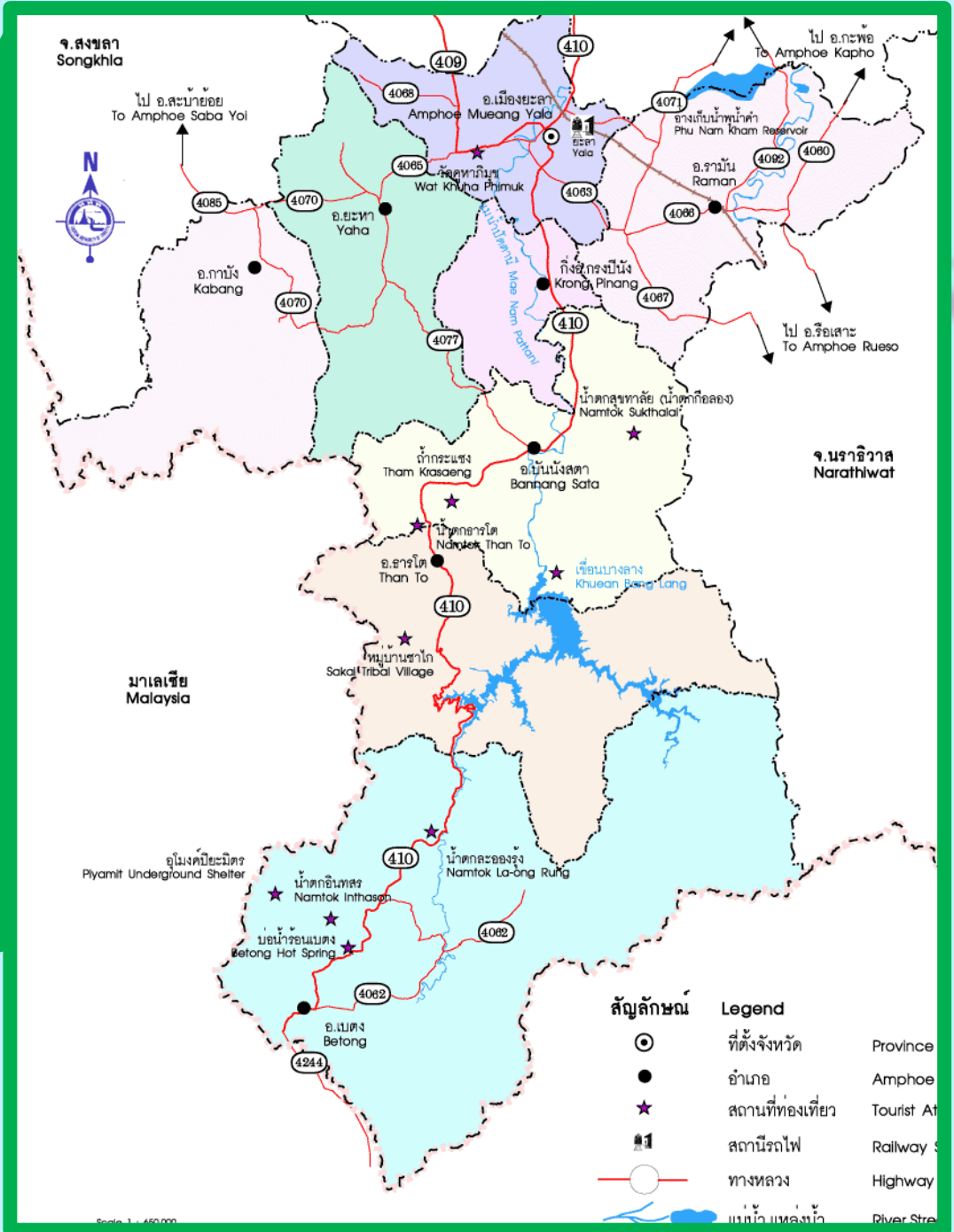
แผนที่ ประเทศไทย





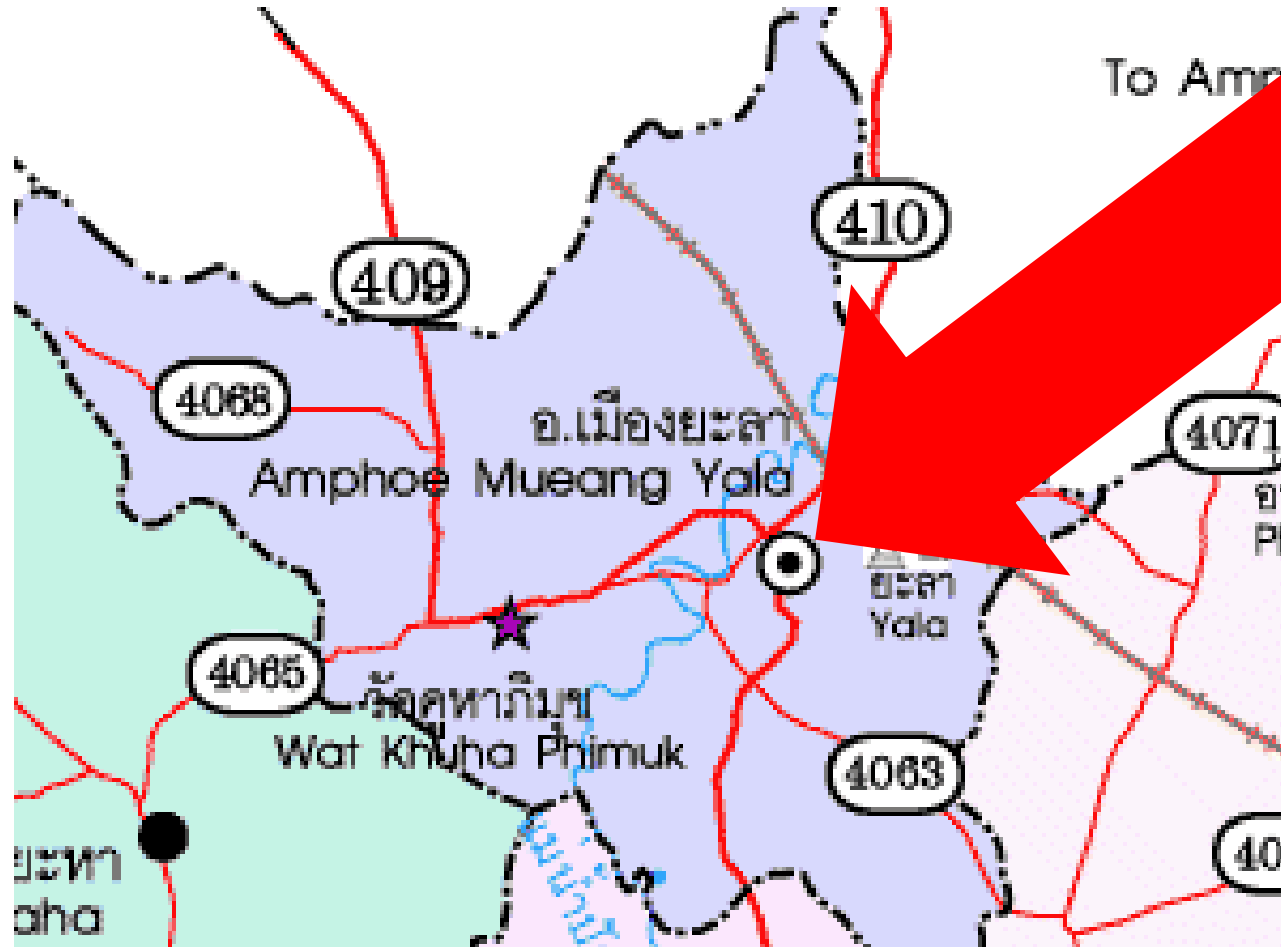
<p>สัญลักษณ์</p> <ul style="list-style-type: none"> ● ● ★ 🚂 —○— แม่น้ำ, แหล่งน้ำ --- ประเทศ --- จังหวัด --- ทางรถไฟ 	<p>Legend</p> <ul style="list-style-type: none"> ที่ตั้งจังหวัด อำเภอ สถานที่ท่องเที่ยว สถานีรถไฟ ทางหลวง แม่น้ำ, แหล่งน้ำ เส้นขอบเขตประเทศ เส้นขอบเขตจังหวัด ทางรถไฟ 	<p>Province Location</p> <p>Amphoe (District)</p> <p>Tourist Attraction</p> <p>Railway Station</p> <p>Highway</p> <p>River, Stream</p> <p>Country Boundary</p> <p>Province Boundary</p> <p>Railway</p>
---	---	---

ขอบคุณภาพจาก <https://pheeraya.wordpress.com/แหล่งท่องเที่ยว/แผนที่ท่องเที่ยวจังหวัด/>

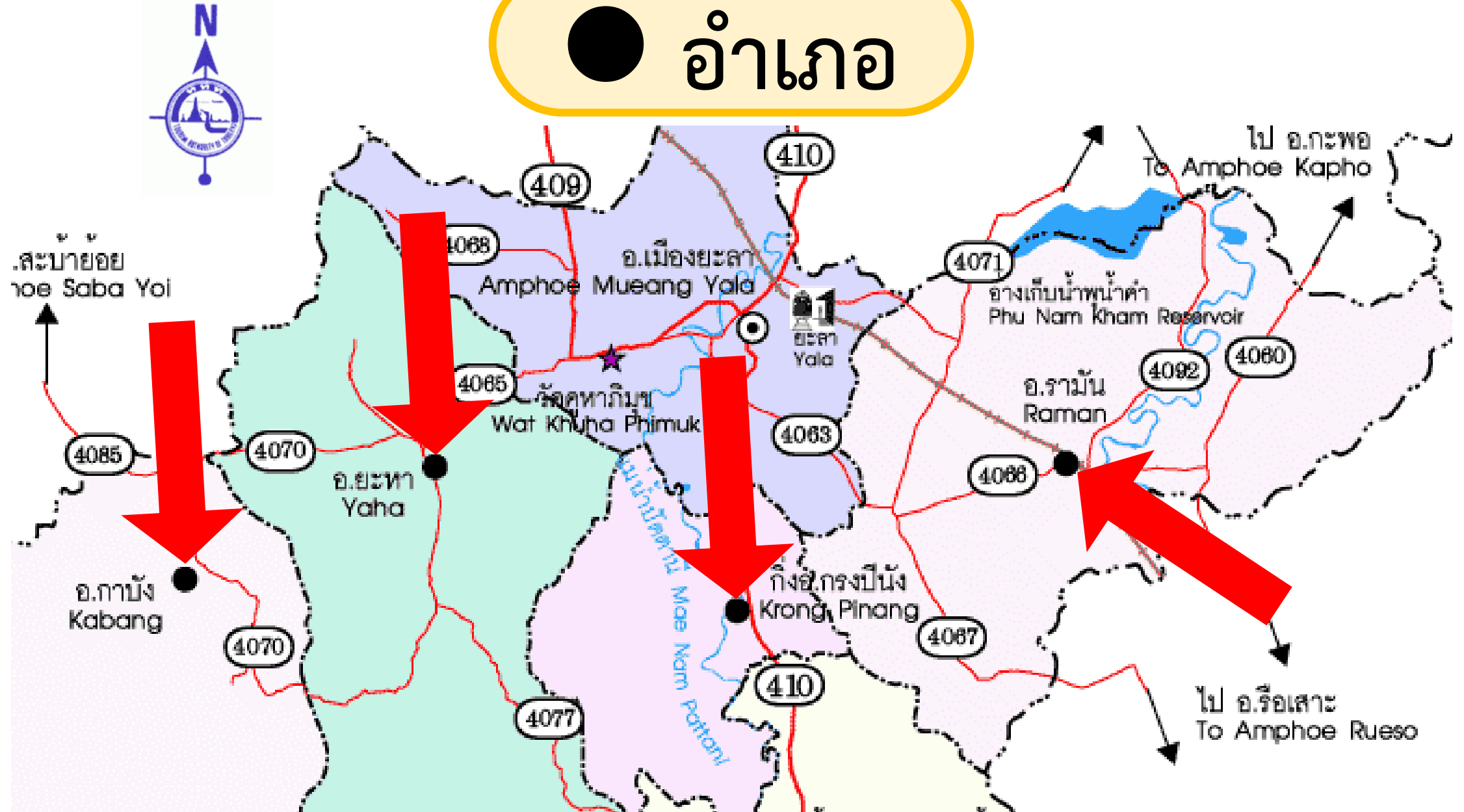




ที่ตั้งจังหวัด



● อำเภอ



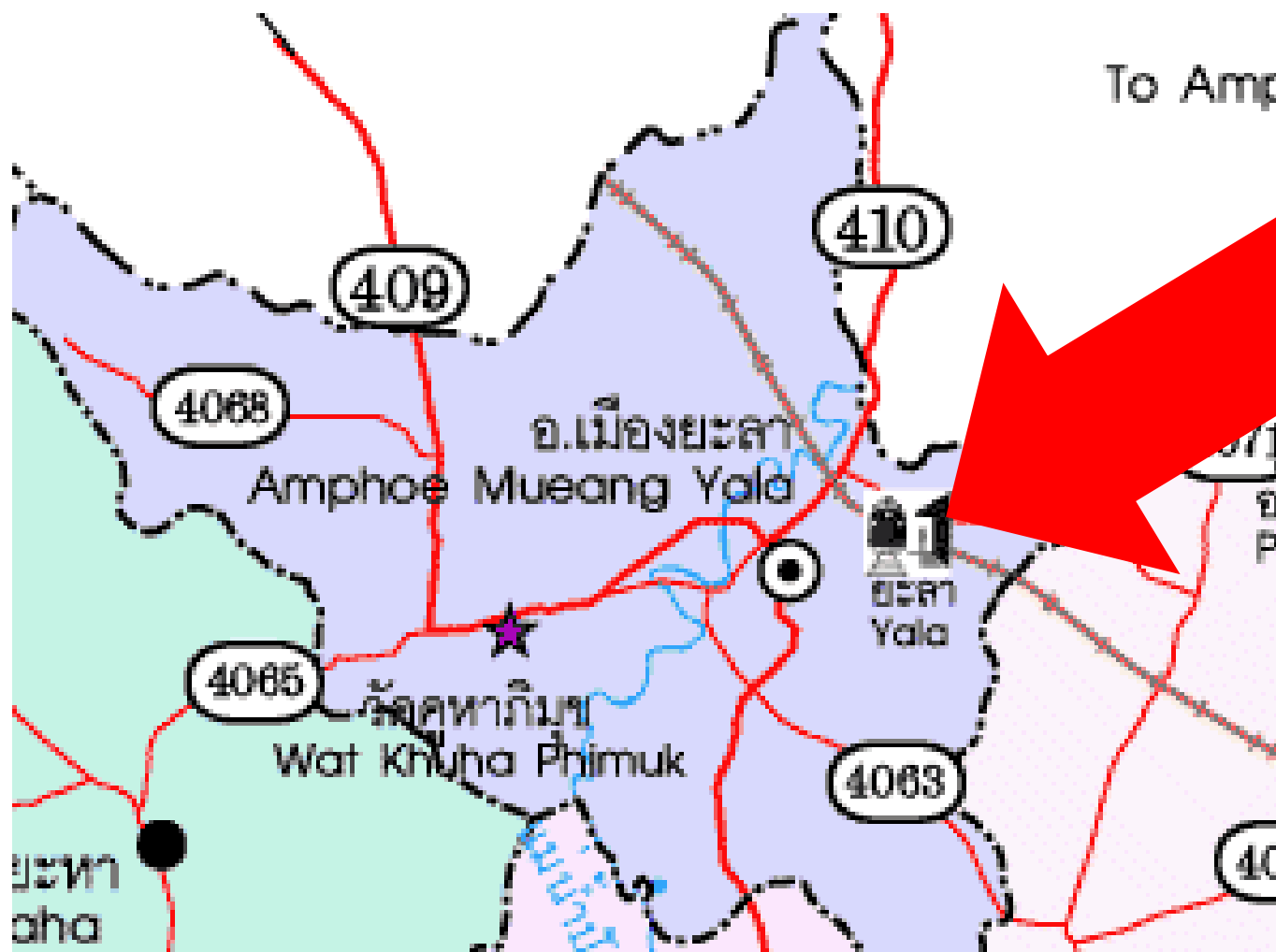
★ สถานที่ท่องเที่ยว



จ.นราธิวาส
Narathiwat



สถานีรถไฟ





แม่น้ำ และแหล่งน้ำ







เส้นขอบเขตประเทศ



มาเลเซีย
Malaysia

อุโมงค์ปิยะมิตร
yamit Underground Shelter


น้ำตกอินทสร
Namtok Inthasorn

บ่อน้ำร้อนเบตง
Betong Hot Spring

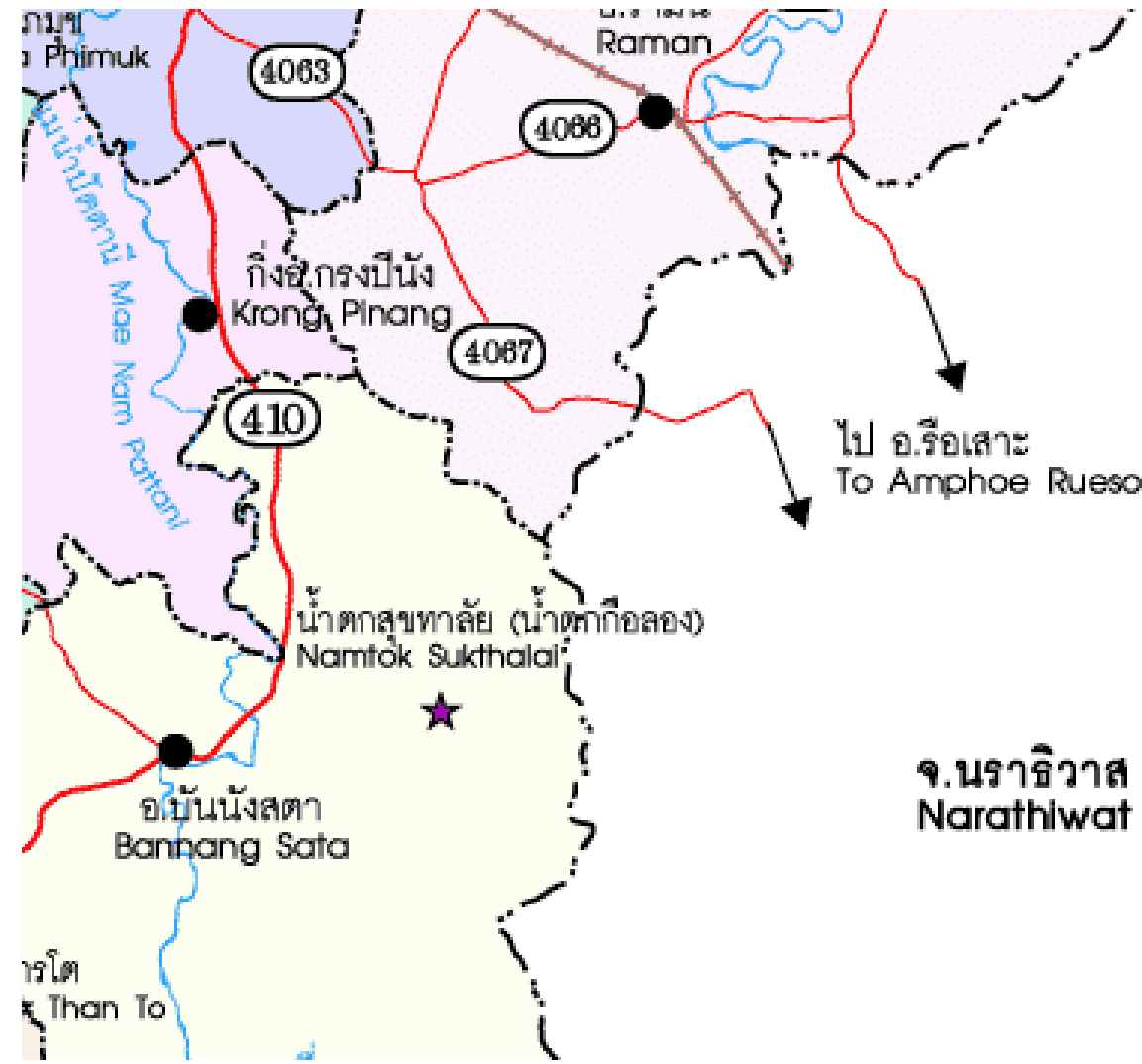
410


4082



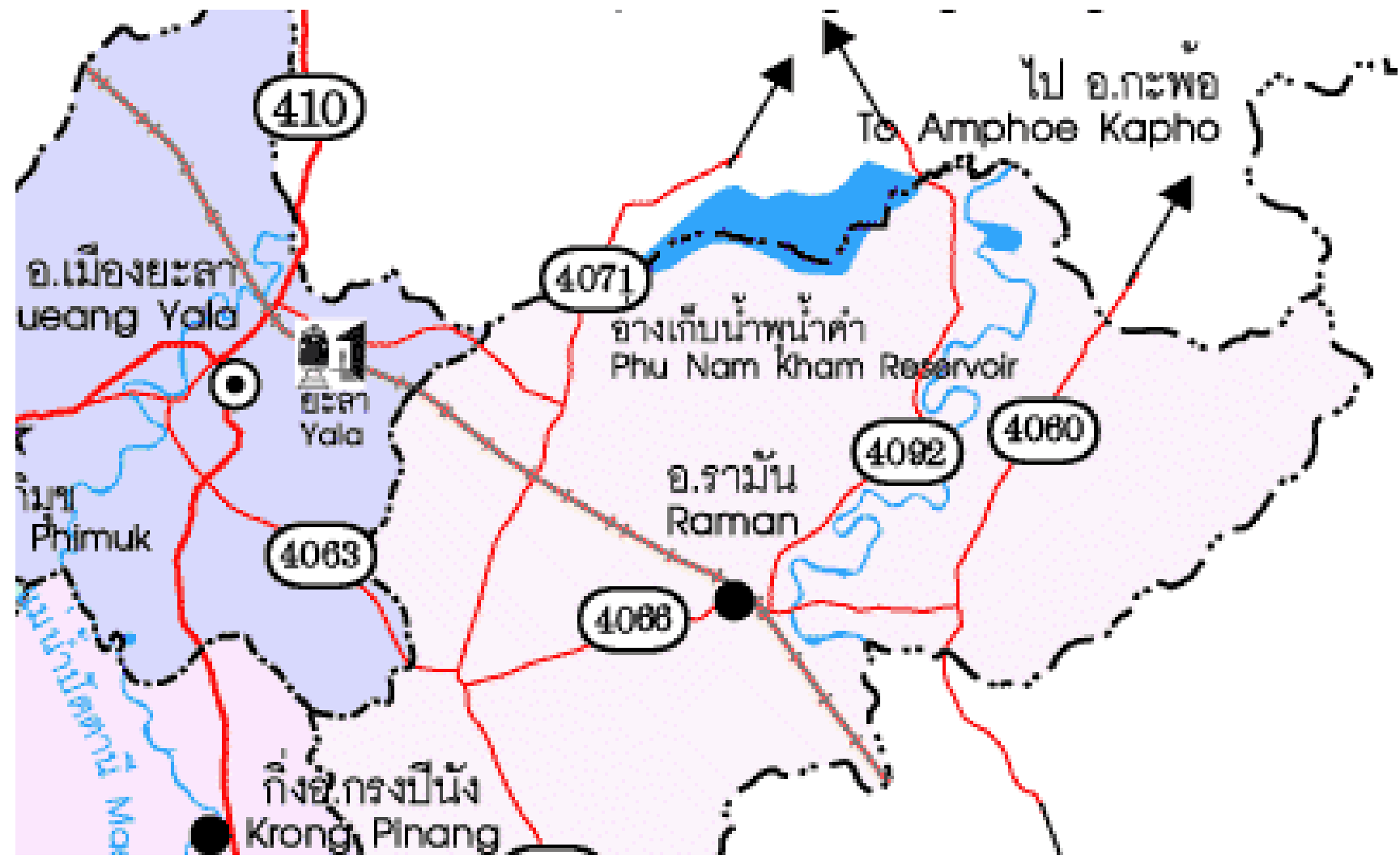


เส้นขอบเขตจังหวัด





ทางรถไฟ



ใบงานที่ ๔ เรื่อง การอ่านข้อมูลจากแผนที่

ใบงานที่ ๔ เรื่อง การอ่านข้อมูลจากแผนที่
หน่วยการเรียนรู้ที่ ๕ เรื่อง วาจาไพเราะ เสนาะเสียงอักษรสูง กลาง ต่ำ
แผนการจัดการเรียนรู้ที่ ๔ เรื่อง เรื่อง การอ่านข้อมูลจากแผนที่
รายวิชาภาษาไทย รหัสวิชา ท๑๓๑๐๑ ภาคเรียนที่ ๑ ชั้นประถมศึกษาปีที่ ๓

คำชี้แจง ให้อ่านข้อมูลจากแผนที่ประเทศไทย แล้วตอบคำถาม

๑. บอกอาณาเขตติดต่อของจังหวัดศรีสะเกษ

ทิศเหนือ ติดต่อกับ.....

ทิศใต้ ติดต่อกับ.....

ทิศตะวันออก ติดต่อกับ.....

ทิศตะวันตก ติดต่อกับ.....

๒. จังหวัดน่านอยู่ภาคใดของประเทศไทย

ตอบ.....

๓. จงบอกชื่อจังหวัดที่อยู่เหนือสุดและใต้สุดของประเทศไทย

จังหวัดที่อยู่เหนือสุดของประเทศไทย

ตอบ.....

จังหวัดที่อยู่ใต้สุดของประเทศไทย

ตอบ.....

๔. จงบอกชื่อจังหวัดที่ตั้งอยู่ชายฝั่งทะเล ๕ จังหวัด

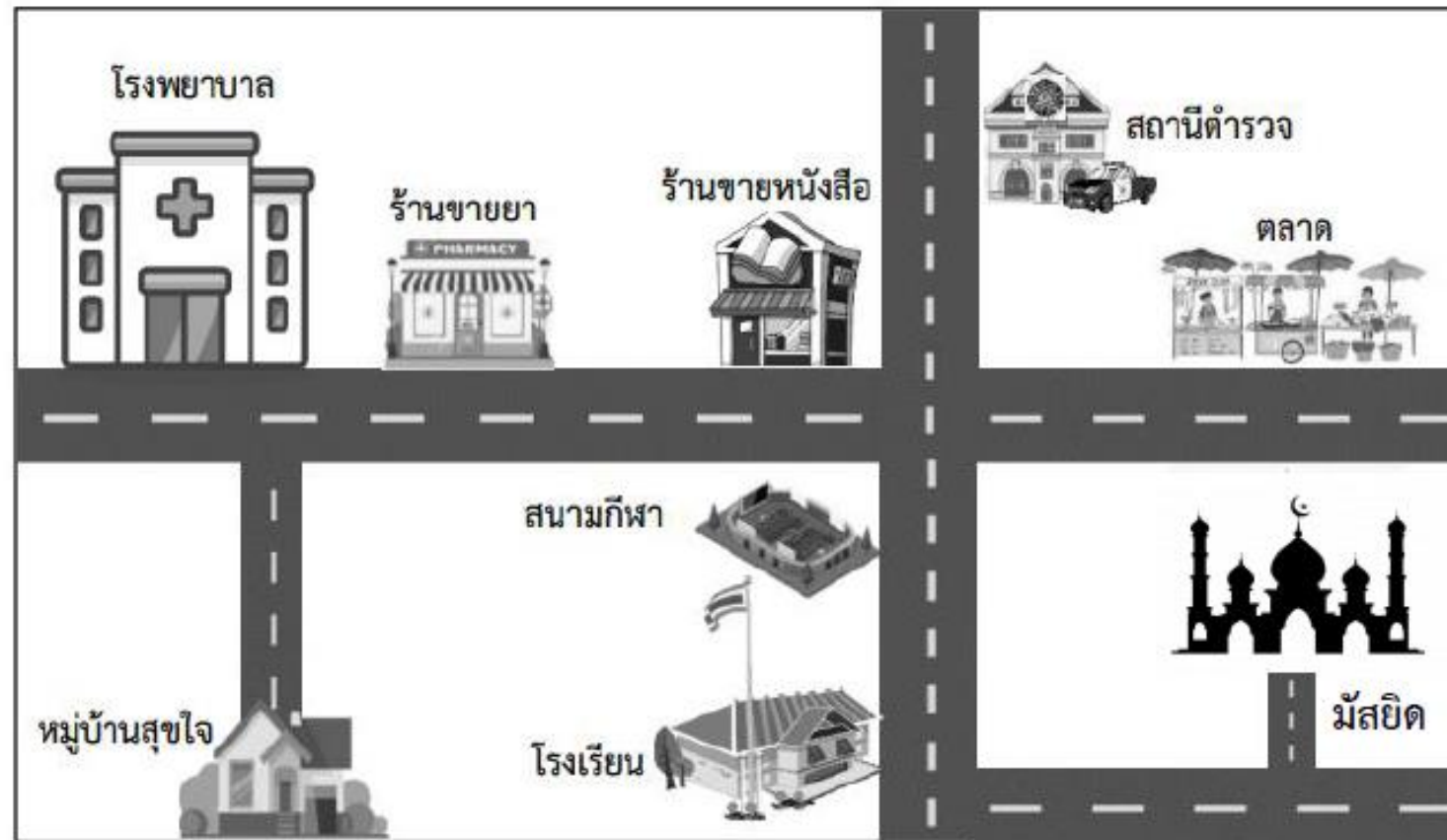
ตอบ.....

ตอนที่ ๒ ให้นักเรียนเขียนแผนที่จากโรงเรียนไปบ้านของนักเรียน



ใบงานที่ ๔ เรื่อง การอ่านข้อมูลจากแผนที่

ตอนที่ ๓ ให้นักเรียนพิจารณาแผนที่ต่อไปนี้ แล้วตอบคำถาม



ใบงานที่ ๔ เรื่อง การอ่านข้อมูลจากแผนที่

คำถาม จากแผนที่ เพื่อน ๆ นัดเจอกันที่มัสยิด เพื่อทำกิจกรรมจิตอาสาเวลาเที่ยงตรง ถ้าต้องเดินไปตามถนน คิดว่าใครต้องใช้เวลาเดินทางนานที่สุด

- ๑) ปรียาอยู่หมู่บ้านสุขใจ
- ๒) สมศรีอยู่สถานีตำรวจ
- ๓) เจนภพอยู่โรงพยาบาล
- ๔) นิสายู่ร้านขายหนังสือ





[https://www.google.com/maps/place/ประเทศไทย](https://www.google.com/maps/place/ประเทศไทย/@14.2987578,101.7425746,6.38z/data=!4m6!3m5!1s0x304d8df747424db1:0x9ed72c880757e802!8m2!3d15.870032!4d100.992541!16zL20vMDdmMXg?entry=tu)

@14.2987578,101.7425746,6.38z/data=!4m6!3m5!1s0x304d8df747424db1:0x9ed72c880757e802!8m2!3d15.870032!4d100.992541!16zL20vMDdmMXg?entry=tu

บทบาทครู

๑. คุณครูแนะนำ และอธิบายเพิ่มเติม เมื่อนักเรียนเกิดความสงสัยหรือไม่เข้าใจ
๒. ครูให้นักเรียนทำใบงานที่ ๔ เรื่อง การอ่านข้อมูลจากแผนที่

บทบาทนักเรียน

๑. เมื่อนักเรียนสงสัยหรือไม่เข้าใจ ให้ยกมือสอบถามคุณครู ด้วยถ้อยคำที่สุภาพ
๒. นักเรียนทำใบงานที่ ๔ เรื่อง การอ่านข้อมูลจากแผนที่
๓. นักเรียนมีมารยาทในการเขียน



คำชี้แจงให้อ่านข้อมูลจากแผนที่ประเทศไทย แล้วตอบคำถาม

๑. บอกอาณาเขตติดต่อของจังหวัดศรีสะเกษ

ทิศเหนือ ติดต่อกับ.....**จังหวัดยโสธร และจังหวัดร้อยเอ็ด**

ทิศใต้ ติดต่อกับ.....

ทิศตะวันออก ติดต่อกับ.....

ทิศตะวันตก ติดต่อกับ.....

คำชี้แจงให้อ่านข้อมูลจากแผนที่ประเทศไทย แล้วตอบคำถาม

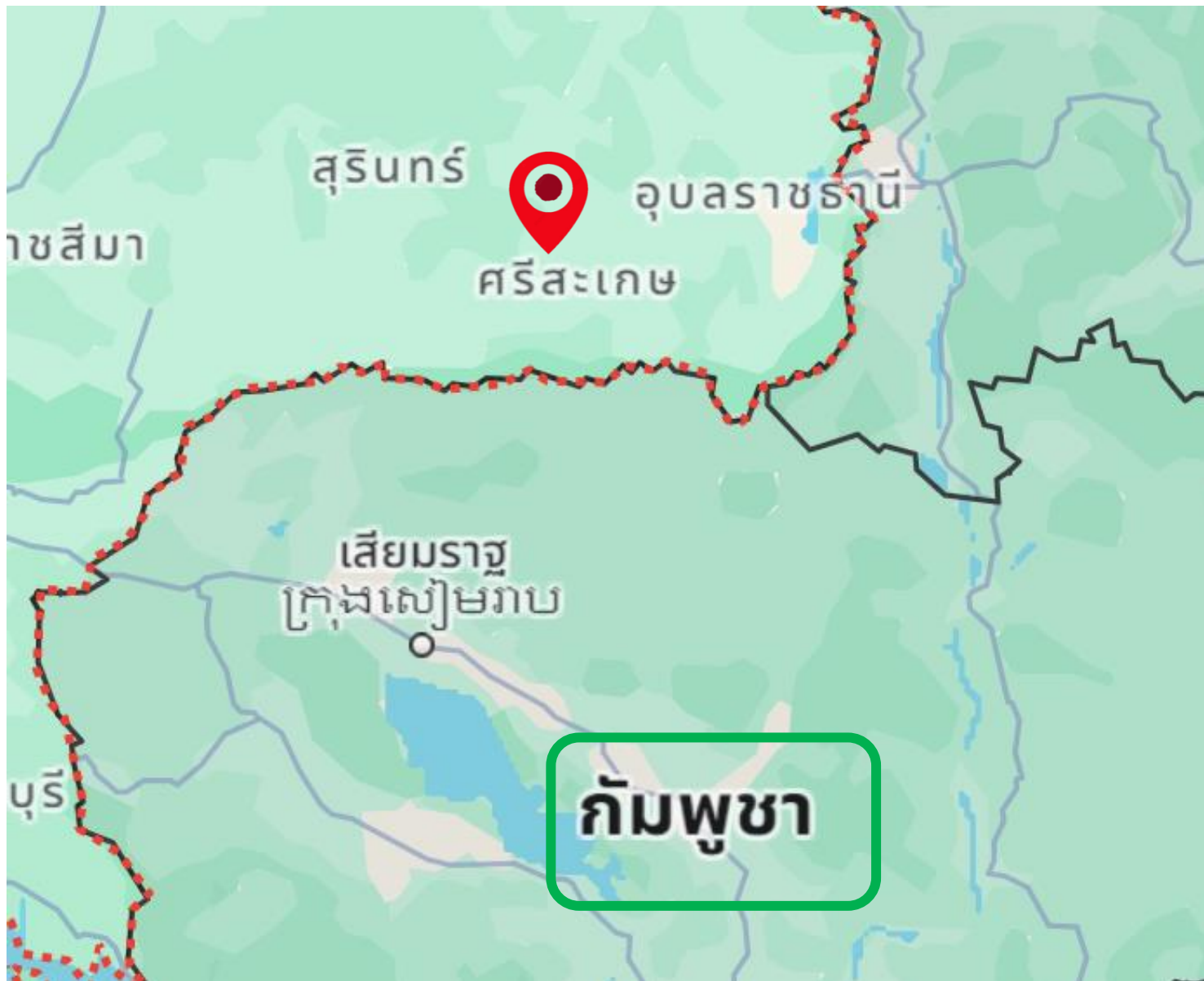
๑. บอกอาณาเขตติดต่อของจังหวัดศรีสะเกษ

ทิศเหนือ ติดต่อกับ.....**จังหวัดยโสธร และจังหวัดร้อยเอ็ด**.....

ทิศใต้ ติดต่อกับ.....**ประเทศกัมพูชา**.....

ทิศตะวันออก ติดต่อกับ.....

ทิศตะวันตก ติดต่อกับ.....



คำชี้แจงให้อ่านข้อมูลจากแผนที่ประเทศไทย แล้วตอบคำถาม

๑. บอกอาณาเขตติดต่อของจังหวัดศรีสะเกษ

ทิศเหนือ ติดต่อกับ...**จังหวัดยโสธร และจังหวัดร้อยเอ็ด**.....

ทิศใต้ ติดต่อกับ...**ประเทศกัมพูชา**.....

ทิศตะวันออก ติดต่อกับ...**จังหวัดอุบลราชธานี**.....

ทิศตะวันตก ติดต่อกับ.....

คำชี้แจงให้อ่านข้อมูลจากแผนที่ประเทศไทย แล้วตอบคำถาม

๑. บอกอาณาเขตติดต่อของจังหวัดศรีสะเกษ

ทิศเหนือ ติดต่อกับ... **จังหวัดยโสธร และจังหวัดร้อยเอ็ด**

ทิศใต้ ติดต่อกับ... **ประเทศกัมพูชา**

ทิศตะวันออก ติดต่อกับ... **จังหวัดอุบลราชธานี**

ทิศตะวันตก ติดต่อกับ... **จังหวัดสุรินทร์**



๒. จังหวัดน่านอยู่ภาคใดของประเทศใด

ตอบ. **ภาคเหนือ**

๓. จงบอกชื่อจังหวัดที่อยู่เหนือสุดและใต้สุดของประเทศไทย

จังหวัดที่อยู่เหนือสุดของประเทศไทย

ตอบ. **จังหวัดเชียงราย**

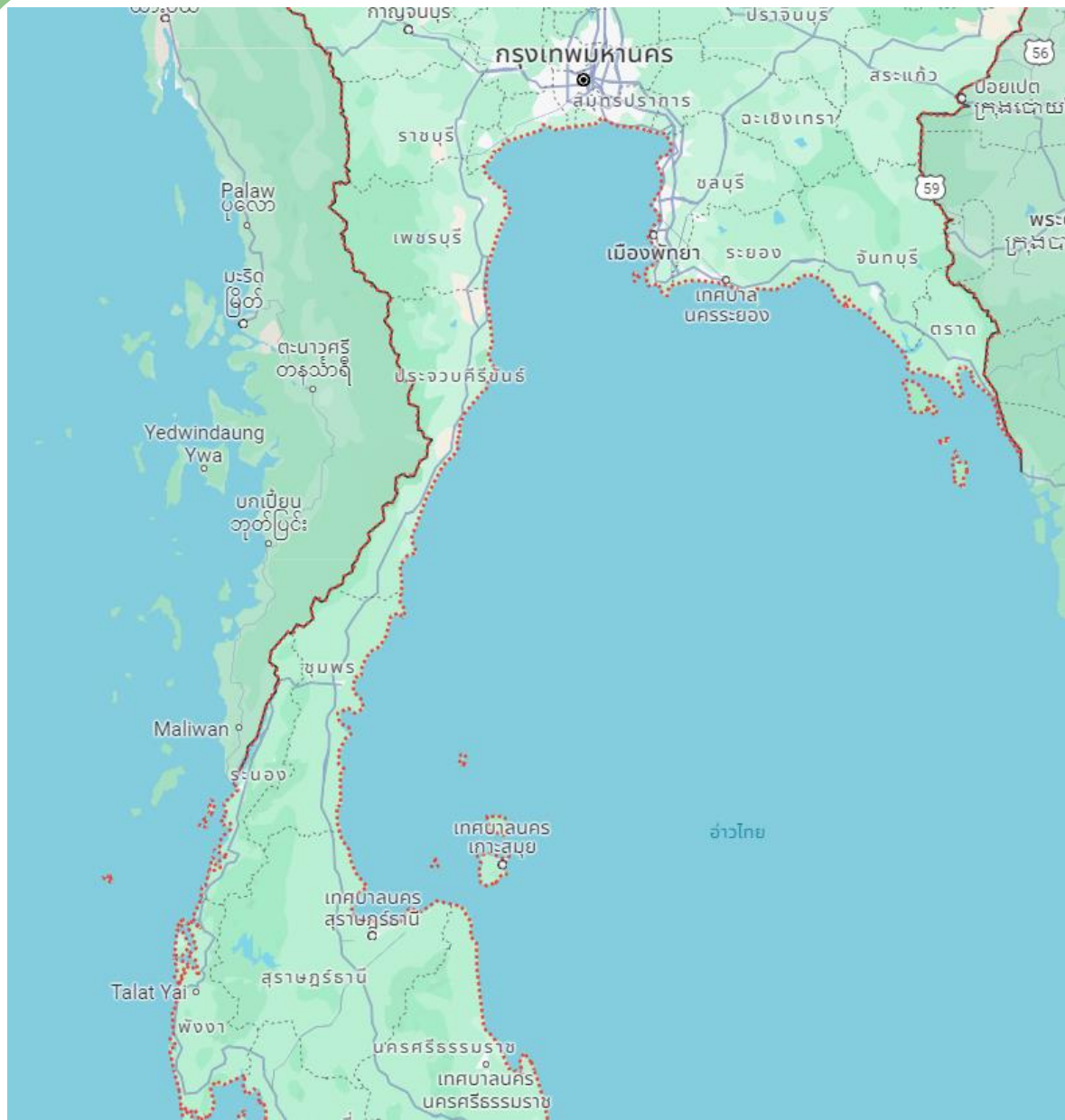
จังหวัดที่อยู่ใต้สุดของประเทศไทย

ตอบ. **จังหวัดยะลา**

๔. จงบอกชื่อจังหวัดที่ตั้งอยู่ชายฝั่งทะเล ๕ จังหวัด

ตอบ.....๑) จังหวัดประจวบคีรีขันธ์ ๒) จังหวัดชุมพร

.....๓) จังหวัดชลบุรี ๔) จังหวัดตราด ๕) จังหวัดพังงา



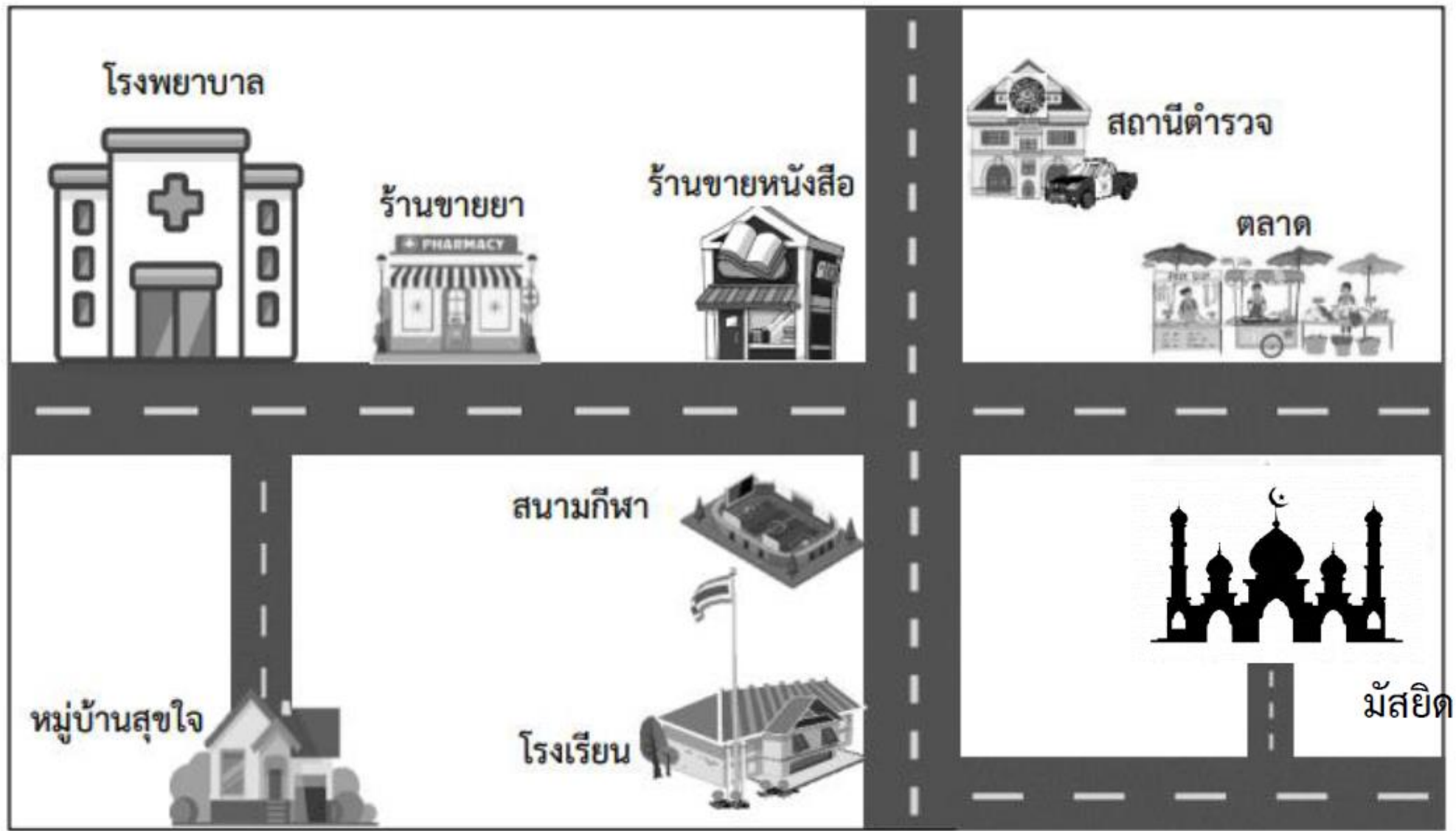
จังหวัดระยอง
จังหวัดสมุทรปราการ
จังหวัดเพชรบุรี
จังหวัดสุราษฎร์ธานี
จังหวัดนครศรีธรรมราช
จังหวัดสงขลา
เป็นต้น

<https://www.google.com/maps/place/ประเทศไทย/@14.2987578,101.7425746,6.38z/data=!4m6!3m5!1s0x304d8df747424db1:0x9ed72c880757e802!8m2!3d15.870032!4d100.992541!16zL20vMDdmMXg?entry=ttu>

ตอนที่ ๒ ให้นักเรียน
เขียนแผนที่จาก
โรงเรียนไปบ้านของ
นักเรียน



ตอนที่ ๓ ให้นักเรียนพิจารณาแผนที่ต่อไปนี้ แล้วตอบคำถาม



ตอนที่ ๓ ให้นักเรียนพิจารณาแผนที่ต่อไปนี้ แล้วตอบคำถาม



✘ ปรียาอยู่หมู่บ้านสุขใจ

๒) สมศรีอยู่สถานีตำรวจ

๓) เจนภพอยู่โรงพยาบาล

๔) นิสายู่ร้านขายหนังสือ

คำถาม จากแผนที่ เพื่อน ๆ นัดเจอกันที่มัสยิด เพื่อทำกิจกรรมจิตอาสาเวลาเที่ยงตรง ถ้าต้องเดินไปตามถนน คิดว่าใครต้องใช้เวลาเดินทางนานที่สุด

เจนภพ

นिसา
ไกลที่สุด

สมศรี




ปรียา
ไกลที่สุด

- ✗ ปรียาอยู่หมู่บ้านสุขใจ
๒) สมศรีอยู่สถานีตำรวจ
๓) เจนภพอยู่โรงพยาบาล
๔) นิสายู่ร้านขายหนังสือ



แผนที่

มีประโยชน์อย่างไร



สิ่งที่ต้องเตรียมในชั่วโมงต่อไป



๑) ใบความรู้ที่ ๕ เรื่อง การอ่านข้อมูล

จากแผนภูมิ

๒) ใบงานที่ ๕ เรื่อง การอ่านข้อมูล

จากแผนภูมิ

บทเรียนครั้งต่อไป



เรื่อง การอ่านข้อมูลจากแผนภูมิ

สแกนเพื่อพูดคุย
กับครูกันได้เลยที่นี่



ดาวน์โหลดเอกสารเพิ่มเติมได้ที่ www.dltv.ac.th
รายวิชาภาษาไทย ชั้นประถมศึกษาปีที่ ๓



