

ใบกิจกรรม 4.2 เรื่อง การบอกระยะเวลาเป็นชั่วโมงและนาที

หน่วยการเรียนรู้ที่ 4 เรื่อง เวลา


แผนการจัดการเรียนรู้ที่ 5 เรื่อง การบอกระยะเวลาเป็นชั่วโมงและนาที (3)

รายวิชา คณิตศาสตร์ รหัสวิชา ค13101 ภาคเรียนที่ 1 ชั้นประถมศึกษาปีที่ 3

ใบกิจกรรม 4.2


เขียนคำตอบลงในช่องว่าง

- 1) จาก 8.00 น. ถึง 10.40 น. เป็นระยะเวลาเท่าไร



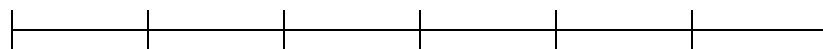
จาก 8.00 น. ถึง 10.40 น. เป็นเวลา.....ชั่วโมง.....นาที

- 2) จาก 16.00 น. ถึง 19.30 น. เป็นระยะเวลาเท่าไร




จาก 16.00 น. ถึง 19.30 น. เป็นเวลา.....ชั่วโมง.....นาที

- 3) จาก 6.20 น. ถึง 11.30 น. เป็นระยะเวลาเท่าไร



จาก 6.20 น. ถึง 11.30 น. เป็นเวลา.....ชั่วโมง.....นาที

- 4) จาก 16.30 น. ถึงเวลาใด คิดเป็นระยะเวลา 3 ชั่วโมง



จาก 16.30 น. ถึง.....คิดเป็นระยะเวลา 3 ชั่วโมง