



แบบฝึกหัด 2.5

1) วาดรูปและเติมคำตอบใน .....

1) แมลงเต่าทอง 3 ตัวกับแมลงปอ 5 ตัว มีแมลงทั้งหมด ..... ตัว



..... + ..... = .....

2) มีกระต่าย 4 ตัว กระโดดเข้ามาอีก 2 ตัว มีกระต่ายทั้งหมด ..... ตัว


..... + ..... = .....

3) ดอกกุหลาบแดง 5 ดอก กับดอกกุหลาบชมพู 3 ดอก มีดอกกุหลาบทั้งหมด ..... ดอก

..... + ..... = .....



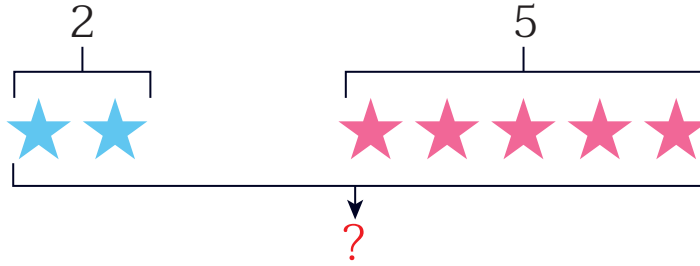
๒ หาผลบวกโดยการวาดรูป

โจทย์	ภาพ
1) $2 + 4 = \square$	
2) $5 + 1 = \square$	
3) $0 + 6 = \square$	
4) $1 + 7 = \square$	



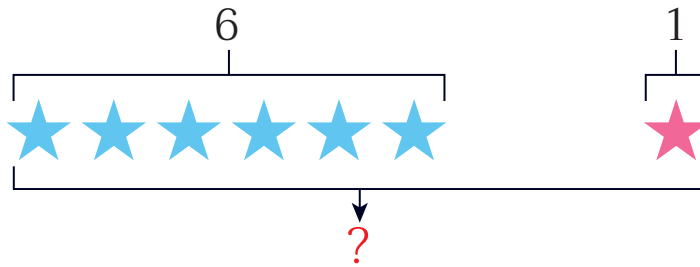
๓ เติมจำนวนใน

1)



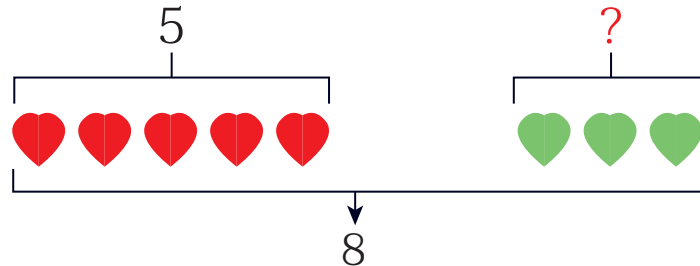
$2 + 5 = \square$

2)



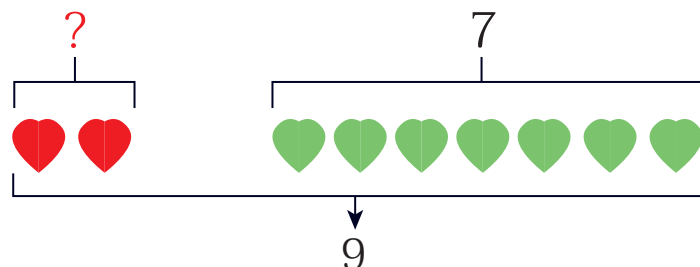
$6 + 1 = \square$

3)



$5 + \square = 8$

4)



$\square + 7 = 9$