

ใบงานที่ ๔ เรื่อง ทฤษฎีดนตรีเบื้องต้น

หน่วยการเรียนรู้ที่ ๑ เรื่อง ตัวโน้ตดนตรีมหาสนุก ๒


แผนการจัดการเรียนรู้ที่ ๔ เรื่อง บันไดเสียงไมเนอร์ (๑)

รายวิชา ศิลปะ(ดนตรีสากล) รหัสวิชา ศ ๒๒๑๐๔ ภาคเรียนที่ ๒ ชั้นมัธยมศึกษาปีที่ ๒


คำชี้แจง จงตอบคำถามต่อไปนี้

ตอนที่ ๑ ภาคทฤษฎี


๑. จงเขียนบันไดเสียง A Natural minor scale ลงบนบรรทัด 5 เส้นให้ถูกต้อง




๒. จงเขียนบันไดเสียง D Harmonic minor scale ลงบนบรรทัด 5 เส้นให้ถูกต้อง



๓. จงเขียนบันไดเสียง G Melodic minor scale ลงบนบรรทัด 5 เส้นให้ถูกต้อง




๔. จงเขียนบันไดเสียง E Harmonic minor scale ลงบนบรรทัด 5 เส้นให้ถูกต้อง



๕. จงเขียนบันไดเสียง B Melodic minor scale ลงบนบรรทัด 5 เส้นให้ถูกต้อง




๕. จงตอบคำถามต่อไปนี้



- ๕.๑) บันไดเสียง D Harmonic minor scale มีเครื่องหมายแฟลต (Flat) จำนวนทั้งหมด _____
- ๕.๒) บันไดเสียง G Natural minor scale มีเครื่องหมายแฟลต (Flat) จำนวนทั้งหมด _____
- ๕.๓) บันไดเสียง E Melodic minor scale มีเครื่องหมายชาร์ป (Sharp) จำนวนทั้งหมด _____
- ๕.๔) บันไดเสียง B Natural minor scale มีเครื่องหมายชาร์ป (Sharp) จำนวนทั้งหมด _____

ตอนที่ 2 ภาคปฏิบัติ

๑. จงนับจังหวะพร้อมกับปรบมือตามค่าน้ตในรอบแรก และร้องโน้ตพร้อมกับปรบมือในรอบที่สอง

คำชี้แจง หนึ่งห้องในเครื่องหมายประจำจังหวะ $\frac{2}{4}$ และ $\frac{3}{4}$ จะมีโน้ตตัวขาว  โน้ตตัวดำ  และโน้ตเข้บ้ตหนึ่งชั้น 

๑.๑) ให้นักเรียนจับคู่อ้องโน้ตเพลงพร้อมกับปรบมือตามโน้ต (Key D minor)



๑.๒) ให้นักเรียนจับคู่อ้องโน้ตเพลงพร้อมกับปรบมือตามโน้ต (Key E minor)



