




ใบงานที่ ๑ เรื่อง ทฤษฎีดนตรีเบื้องต้น
หน่วยการเรียนรู้ที่ ๑ เรื่อง ตัวโน้ตดนตรีมหาสนุก ๒
แผนการจัดการเรียนรู้ที่ ๑ เรื่อง ทฤษฎีดนตรีเบื้องต้น
รายวิชา ศิลปะ(ดนตรีสากล) รหัสวิชา ศ ๒๒๑๐๔ ภาคเรียนที่ ๒ ชั้นมัธยมศึกษาปีที่ ๒




คำชี้แจง จงตอบคำถามต่อไปนี้

ตอนที่ ๑ ภาคทฤษฎี




๑. จงเติมคําลงในช่องว่าง

	มีค่าเท่ากับ _____	จังหวะ		มีค่าเท่ากับ _____	จังหวะ
	มีค่าเท่ากับ _____	จังหวะ		มีค่าเท่ากับ _____	จังหวะ
	มีค่าเท่ากับ _____	จังหวะ		มีค่าเท่ากับ _____	จังหวะ
	หรือ 	มีค่าเท่ากับ _____	จังหวะ		
	หรือ 	มีค่าเท่ากับ _____	จังหวะ		
	หรือ 	มีค่าเท่ากับ _____	จังหวะ		

๒. จงบอกชื่อตัวโน้ตเชบิต 1 ชั้นเป็นชื่ออังกฤษและอเมริกัน

ตัวโน้ต	ตัวหยุด	ชื่อไทย	ชื่ออังกฤษ	ชื่ออเมริกัน
 หรือ 		เชบิตหนึ่งชั้น		

๓. จงบอกชื่อตัวโน้ตเชบิต 2 ชั้นเป็นชื่ออังกฤษและอเมริกัน

ตัวโน้ต	ตัวหยุด	ชื่อไทย	ชื่ออังกฤษ	ชื่ออเมริกัน
 หรือ 		เชบิตสองชั้น		

