



ใบกิจกรรม 1 : ภาพลึบจับสะท้อน

ชื่อ-สกุล..... ชั้น ม.2/..... เลขที่.....

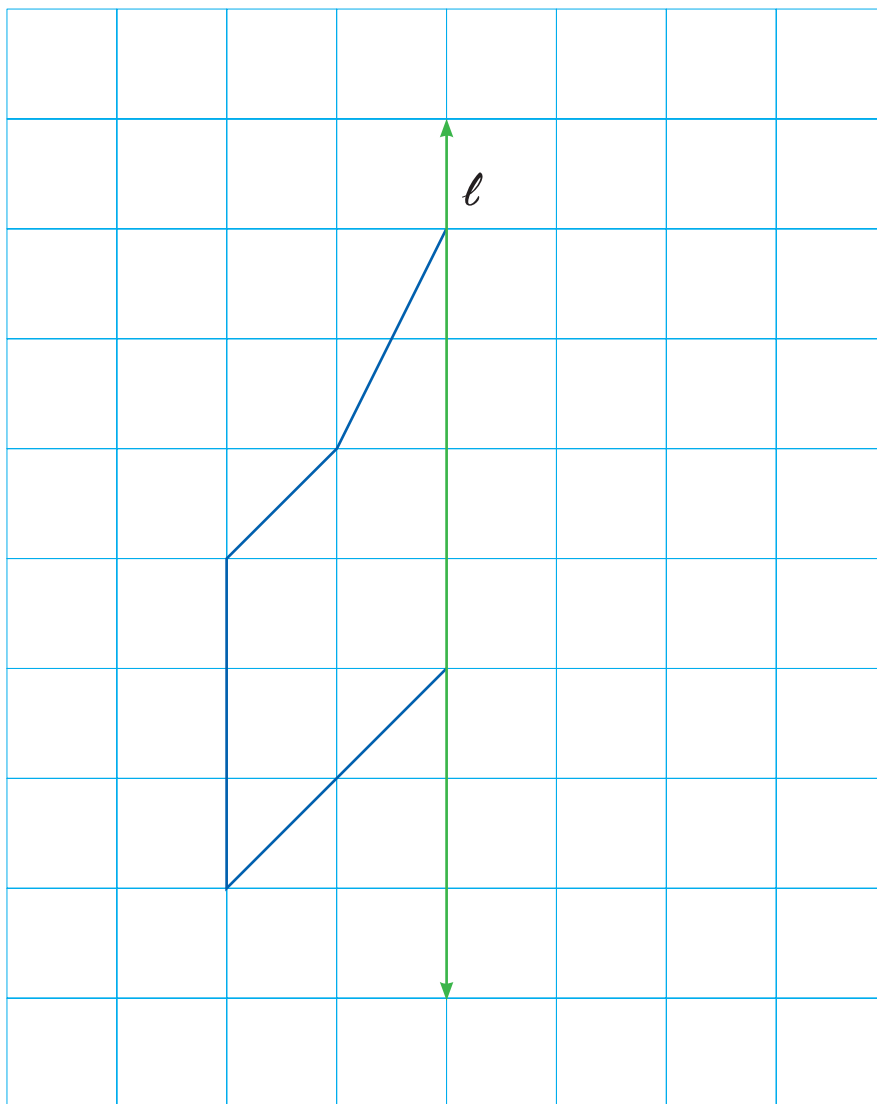
ชื่อ-สกุล..... ชั้น ม.2/..... เลขที่.....

ชื่อ-สกุล..... ชั้น ม.2/..... เลขที่.....

ชื่อ-สกุล..... ชั้น ม.2/..... เลขที่.....

คำชี้แจง ให้นักเรียนหาภาพที่ได้จากการสะท้อน เมื่อกำหนดรูปต้นแบบและเส้นสะท้อนมาให้ จากนั้น ตกแต่งภาพโดยการระบายสีเท่านั้น และไม่ตกแต่งส่วนอื่นเพิ่มเติม แล้วตั้งชื่อภาพที่ได้ให้สอดคล้องกับภาพที่ปรากฏ

ภาพปริศนา 1



ชื่อภาพ.....

$(a^m)^n$

 π 

=



=



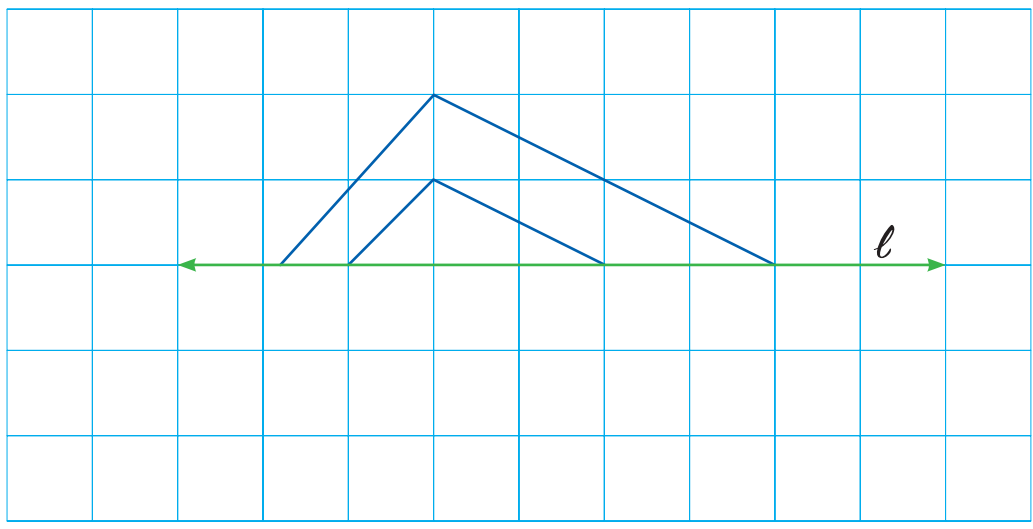
$A^2 - B^2$



หน่วยการเรียนรู้ที่ 8

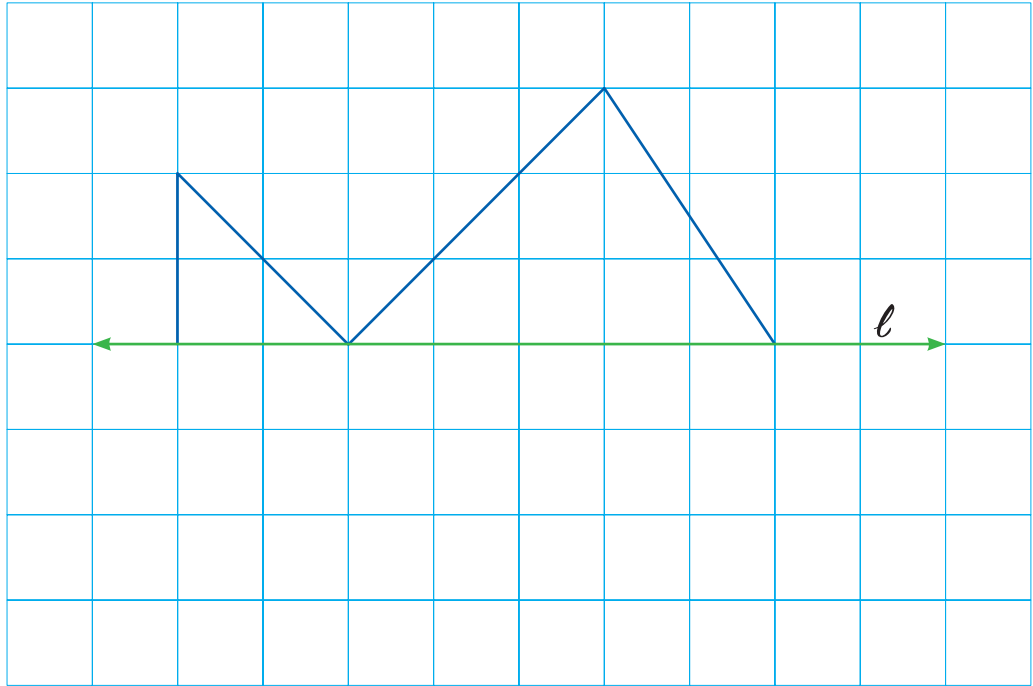
เส้นที่ไทยด้วยการแปลง

ภาพปริศนา 2



ชื่อภาพ

ภาพปริศนา 3



ชื่อภาพ