

## แบบฝึกหัด 3.3

1 เขียน ✓ ใน  ถ้าเป็นรูปที่มีแกนสมมาตรและลากเส้นประแสดงแกนสมมาตร แล้วเขียนจำนวนแกนสมมาตร

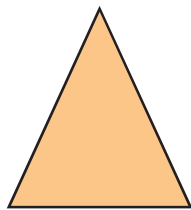
1)




รูปที่มีแกนสมมาตร .....  
มีแกนสมมาตร ..... แกน

รูปที่ไม่มีแกนสมมาตร

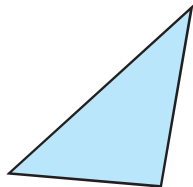
2)




รูปที่มีแกนสมมาตร .....  
มีแกนสมมาตร ..... แกน

รูปที่ไม่มีแกนสมมาตร

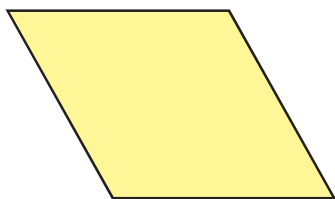
3)




รูปที่มีแกนสมมาตร .....  
มีแกนสมมาตร ..... แกน

รูปที่ไม่มีแกนสมมาตร

4)

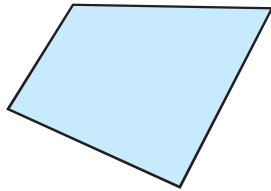



รูปที่มีแกนสมมาตร .....  
มีแกนสมมาตร ..... แกน

รูปที่ไม่มีแกนสมมาตร



5)




รูปที่มีแกนสมมาตร

มีแกนสมมาตร ..... แกน

รูปที่ไม่มีแกนสมมาตร

6)

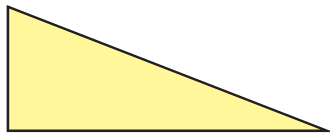



รูปที่มีแกนสมมาตร

มีแกนสมมาตร ..... แกน

รูปที่ไม่มีแกนสมมาตร

7)

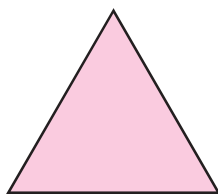



รูปที่มีแกนสมมาตร

มีแกนสมมาตร ..... แกน

รูปที่ไม่มีแกนสมมาตร

8)




รูปที่มีแกนสมมาตร

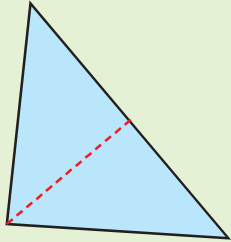
มีแกนสมมาตร ..... แกน

รูปที่ไม่มีแกนสมมาตร



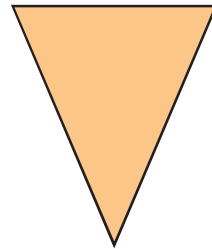
2 ลากเส้นประแสดงแกนสมมาตรให้ครบทุกเส้น พร้อมเขียนจำนวนแกนสมมาตรทั้งหมดของรูป

ตัวอย่าง



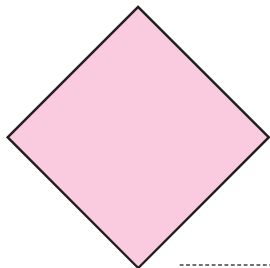
จำนวนแกนสมมาตร ..... 1 ..... แกน

1)



จำนวนแกนสมมาตร ..... แกน

2)



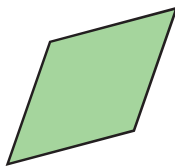
จำนวนแกนสมมาตร ..... แกน

3)



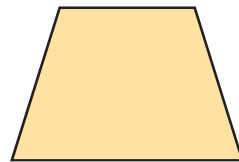
จำนวนแกนสมมาตร ..... แกน

4)



จำนวนแกนสมมาตร ..... แกน

5)



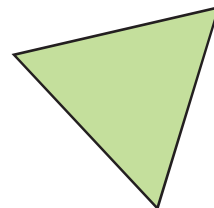
จำนวนแกนสมมาตร ..... แกน

6)



จำนวนแกนสมมาตร ..... แกน

7)



จำนวนแกนสมมาตร ..... แกน