


## แบบฝึกหัด 2.10


## 1) หาผลลบ

1)  $324 - 110 = \square$




ดังนั้น  $324 - 110 = \dots\dots\dots$

2)  $218 - 117 = \square$




ดังนั้น  $218 - 117 = \dots\dots\dots$

3)  $473 - 152 = \square$



ดังนั้น  $473 - 152 = \dots\dots\dots$

4)  $266 - 204 = \square$



ดังนั้น  $266 - 204 = \dots\dots\dots$

## 2) หาผลลบ

$$1) 259 - 23 = \square$$

วิธีทำ	หลักร้อย	หลักสิบ	หลักหน่วย	
	2	5	9	
		2	3	-

$$\text{ดังนั้น } 259 - 23 = \text{.....}$$

$$2) 695 - 232 = \square$$

วิธีทำ	หลักร้อย	หลักสิบ	หลักหน่วย	
	6	9	5	
		2	3	-

$$\text{ดังนั้น } 695 - 232 = \text{.....}$$

$$3) 387 - 164 = \square$$

วิธีทำ	หลักร้อย	หลักสิบ	หลักหน่วย	
	3	8	7	
		1	6	-

$$\text{ดังนั้น } 387 - 164 = \text{.....}$$

4)  $398 - 208 = \square$

วิธีทำ

-		
-----		
=====		

ตอบ -----

5)  $576 - 173 = \square$

วิธีทำ

-		
-----		
=====		

ตอบ -----

6)  $855 - 45 = \square$

วิธีทำ

-		
-----		
=====		

ตอบ -----

7)  $647 - 316 = \square$

วิธีทำ

-		
-----		
=====		

ตอบ -----

8)  $669 - 138 = \square$

วิธีทำ

-		
-----		
=====		

ตอบ -----

9)  $592 - 250 = \square$

วิธีทำ

-		
-----		
=====		

ตอบ -----