



## ใบกิจกรรม 9 : แนวโน้มก็บอกได้

ชื่อ-สกุล ..... ชั้น ม.1/..... เลขที่ .....

ชื่อ-สกุล ..... ชั้น ม.1/..... เลขที่ .....

**คำชี้แจง** ให้นักเรียนโยงเส้นเพื่อจับคู่กราฟแสดงความสัมพันธ์ระหว่างปริมาณสองปริมาณที่สอดคล้องกับสถานการณ์ที่กำหนดให้

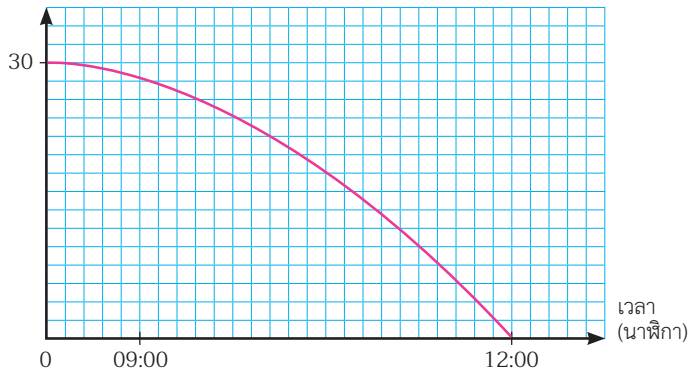
1.

**สถานการณ์ที่ 1**

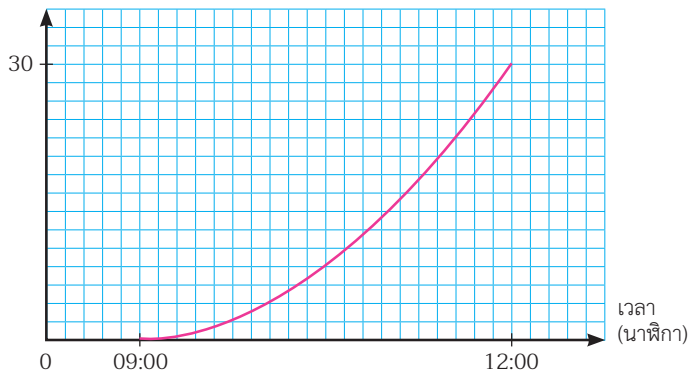
หมวยเป็นเจ้าของร้านกาแฟ หมวยบันทึกจำนวนลูกค้าที่เข้ามาใช้บริการในช่วงเวลาหนึ่ง พบว่ามีลูกค้าเข้ามาใช้บริการเพิ่มขึ้นเรื่อย ๆ



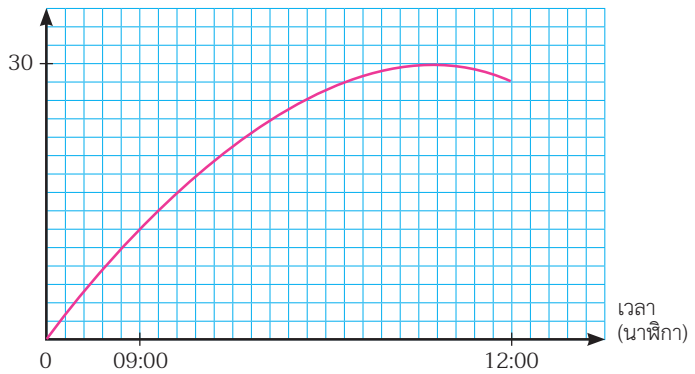
จำนวนลูกค้าที่เข้ามาใช้บริการ (คน)



จำนวนลูกค้าที่เข้ามาใช้บริการ (คน)



จำนวนลูกค้าที่เข้ามาใช้บริการ (คน)



หน่วยการเรียนรู้ที่ 9 คู่กันสัมพันธ์เชิงเส้น

2.

**สถานการณ์ที่ 2**  
 หมากซักรถจากจังหวัด  
 เชียงใหม่ไปจังหวัดลำปาง  
 โดยในระหว่างทางเขาไม่ได้แวะ  
 ที่สถานีใด

