




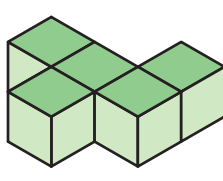
ใบกิจกรรม 5 : มองภาพแล้ววาดรูป


คำชี้แจง ให้นักเรียนเขียนภาพด้านหน้า ภาพด้านข้าง และภาพด้านบนของรูปเรขาคณิตสามมิติที่ประกอบขึ้นจากลูกบาศก์ในแต่ละข้อลงบนกระดาษจุด พร้อมทั้งเขียนตัวเลขแสดงจำนวนลูกบาศก์

1.




ภาพด้านบน





ภาพด้านหน้า



ภาพด้านข้าง

