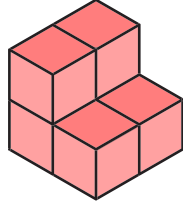


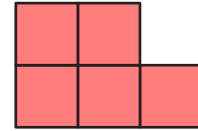
ตอนที่ 2

คำชี้แจง ให้นักเรียนจับคู่ภาพด้านหน้า ภาพด้านข้าง หรือภาพด้านบน กับรูปเรขาคณิตสามมิติที่ประกอบขึ้นจากลูกบาศก์ที่กำหนดให้ โดยนำตัวอักษรมาใส่ด้านหน้าข้อให้สมบูรณ์

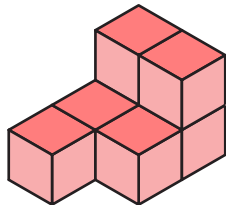
..... จ.
(ภาพด้านบน)



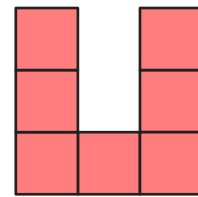
ก.



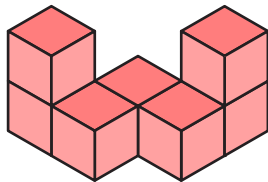
..... 1.
(ภาพด้านหน้า)



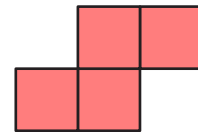
ข.



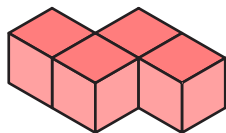
..... 2.
(ภาพด้านบน)




ค.



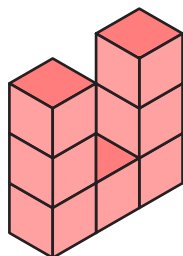
..... 3.
(ภาพด้านข้าง)



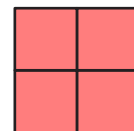
ง.



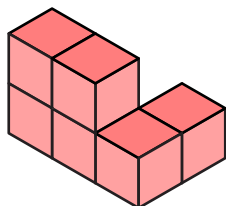
..... 4.
(ภาพด้านข้าง)



จ.



..... 5.
(ภาพด้านหน้า)



ฉ.

