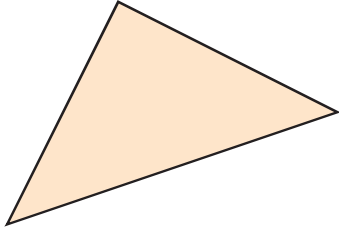


## แบบฝึกหัด 3.1

เขียนชนิดของรูปเรขาคณิตสองมิติ พร้อมเขียนจำนวนด้านและจำนวนมุม

1)

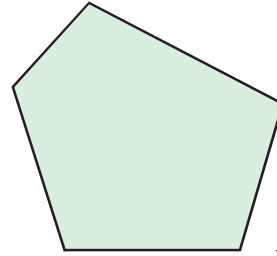


ชนิดของรูปเรขาคณิตสองมิติ .....

จำนวนด้าน ..... ด้าน

จำนวนมุม ..... มุม

2)




ชนิดของรูปเรขาคณิตสองมิติ .....

จำนวนด้าน ..... ด้าน

จำนวนมุม ..... มุม

3)

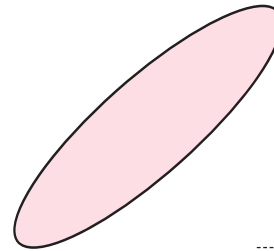


ชนิดของรูปเรขาคณิตสองมิติ .....

จำนวนด้าน ..... ด้าน

จำนวนมุม ..... มุม

4)

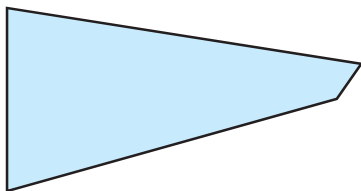


ชนิดของรูปเรขาคณิตสองมิติ .....

จำนวนด้าน ..... ด้าน

จำนวนมุม ..... มุม

5)

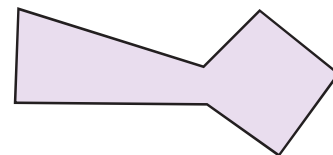


ชนิดของรูปเรขาคณิตสองมิติ .....

จำนวนด้าน ..... ด้าน

จำนวนมุม ..... มุม

6)

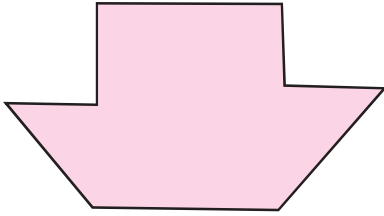


ชนิดของรูปเรขาคณิตสองมิติ .....

จำนวนด้าน ..... ด้าน

จำนวนมุม ..... มุม

7)




ชนิดของรูปเรขาคณิตสองมิติ .....

จำนวนด้าน ..... ด้าน

จำนวนมุม ..... มุม

8)




ชนิดของรูปเรขาคณิตสองมิติ .....

จำนวนด้าน ..... ด้าน

จำนวนมุม ..... มุม

9)

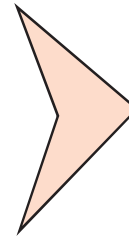


ชนิดของรูปเรขาคณิตสองมิติ .....

จำนวนด้าน ..... ด้าน

จำนวนมุม ..... มุม

10)




ชนิดของรูปเรขาคณิตสองมิติ .....

จำนวนด้าน ..... ด้าน

จำนวนมุม ..... มุม

11)

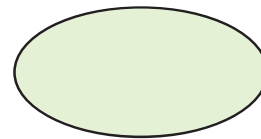


ชนิดของรูปเรขาคณิตสองมิติ .....

จำนวนด้าน ..... ด้าน

จำนวนมุม ..... มุม

12)



ชนิดของรูปเรขาคณิตสองมิติ .....

จำนวนด้าน ..... ด้าน

จำนวนมุม ..... มุม

