



แบบฝึกหัด 1.19

๑ นับและเขียนตัวเลขแสดงจำนวนในรูปกระจายใน

1)

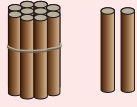
2)

3)



๒ เขียนตัวเลขแสดงจำนวนสิบกับหน่วยใน

**ตัวอย่าง**



สิบ กับ  หน่วย

1)



สิบ กับ  หน่วย


2)



สิบ กับ  หน่วย

๓ เขียนวงล้อมรอบรูปแสดงจำนวนในรูปกระจาย

1)  $18 = 10 + 8$

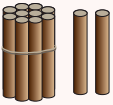

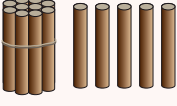



2)  $13 = 10 + 3$





4 เขียนตัวเลขแสดงจำนวนตามที่กำหนดให้ในตาราง

จำนวน	แสดงจำนวนสิบ กับ หน่วย	เขียนในรูปกระจาย
14	<input type="text"/> สิบ <input type="text"/> หน่วย	<input type="text"/>
17	<input type="text"/> สิบ <input type="text"/> หน่วย	<input type="text"/>
20	<input type="text"/> สิบ <input type="text"/> หน่วย	<input type="text"/>
<input type="text"/>	1 สิบ 1 หน่วย	<input type="text"/>
<input type="text"/>	1 สิบ 8 หน่วย	<input type="text"/>
<input type="text"/>	<input type="text"/> สิบ <input type="text"/> หน่วย	10 + 3
	<input type="text"/> สิบ <input type="text"/> หน่วย	<input type="text"/>
	<input type="text"/> สิบ <input type="text"/> หน่วย	<input type="text"/>
	<input type="text"/> สิบ <input type="text"/> หน่วย	<input type="text"/>



5 โยงเส้นจับคู่จำนวนที่สัมพันธ์กัน

