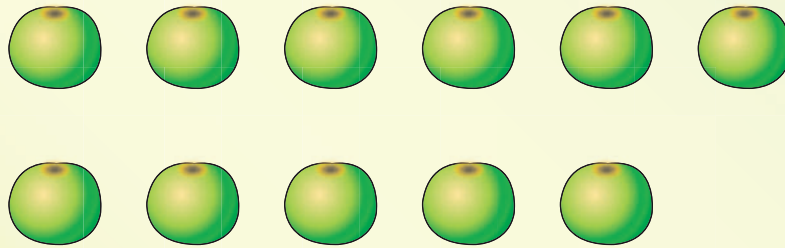


แบบฝึกหัด 1.16


1) นับจำนวนผลไม้ในแต่ละข้อ เติมคำตอบ

1)




นับจำนวนแอปเปิลเขียวได้ ผล

2)



นับจำนวนมะละกอได้ ผล ถ้าเพิ่มอีก 1 ผลจะเป็น ผล

3)



นับจำนวนสับปะรดได้ ผล ถ้าเพิ่มอีก 1 ผลจะเป็น ผล


๒ ระบายสีในรูปตามจำนวนที่กำหนด

1)

จำนวน




ภาพ




2)

จำนวน





ภาพ



3)

ภาพ


จำนวน



4)

ภาพ

จำนวน





๓ เขียน X บน ○ แสดงจำนวนที่กำหนด

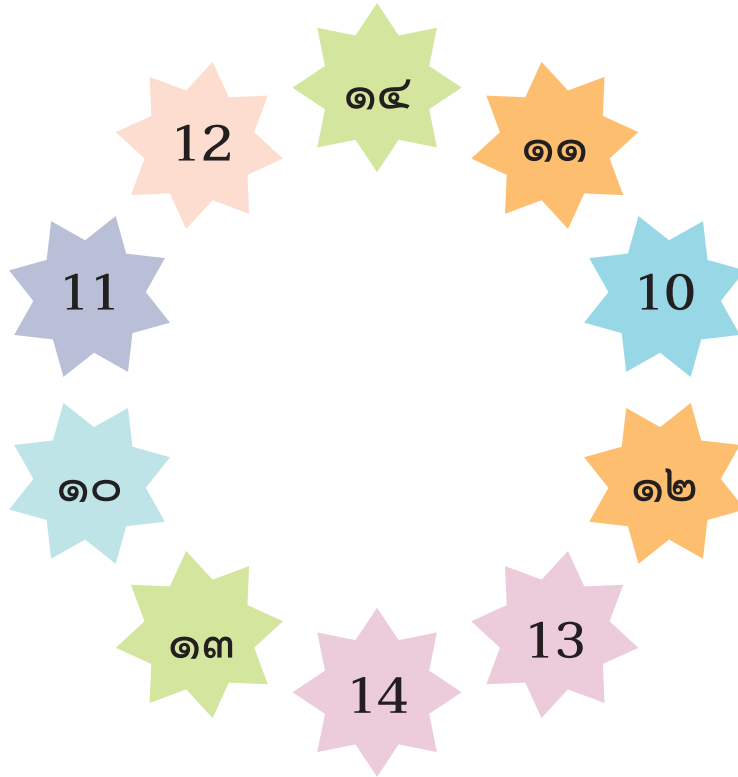
1) **๑๖**

2) **๑๓**

3) **๑๗**

4) **๒๐**

๔ โยงเส้นจับคู่ระหว่างตัวเลขที่แสดงจำนวนเดียวกัน



๕ เติมตัวเลขแสดงจำนวนใน จากการนับเพิ่มทีละ 1

1)	<input type="text"/>	<input type="text"/>	<input type="text"/>	12
2)	<input type="text"/>	15	<input type="text"/>	<input type="text"/>
3)	<input type="text"/>	<input type="text"/>	19	<input type="text"/>