



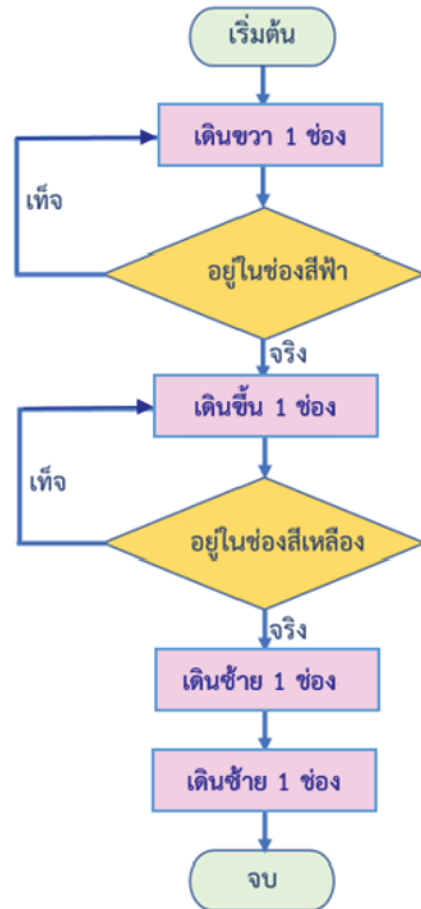


ใบบงาน 05 เรื่อง น้อยหน้าอยากกินขนม
 หน่วยการเรียนรู้ที่ 1 เรื่อง การแก้ปัญหา
 แผนการจัดการเรียนรู้ที่ 5 เรื่อง การตรวจสอบเงื่อนไข
 รายวิชาวิทยาศาสตร์และเทคโนโลยี เทคโนโลยี รหัสวิชา ว16101 ภาคเรียนที่ 1 ชั้น

คำชี้แจง จากตารางด้านล่าง นอยหน้าอยู่ที่ช่อง 7B ในนอยหน้าเดินตามผังงานที่กำหนดให้

	A	B	C	D	E	F	G
1							
2							
3							
4							
5							
6							
7							



1. สิ่งที่น้อยหน้าได้กินคือ

2. ถ้านอยหน้าอยากกินเค้ก (2E) จะต้องปรับผังงานการเดินทางอย่างไร



.....

.....

.....

.....

3. เขียนผังงานเพื่อให้หุ่นยนต์ได้กินไอศกรีม (2A) จากตารางต่อไปนี้

	A	B	C	D	E	F	G	H	I
1									
2									
3									
4									
5									
6									
7									

(หุ่นยนต์ไม่สามารถเดินผ่านช่องสีดำได้)