

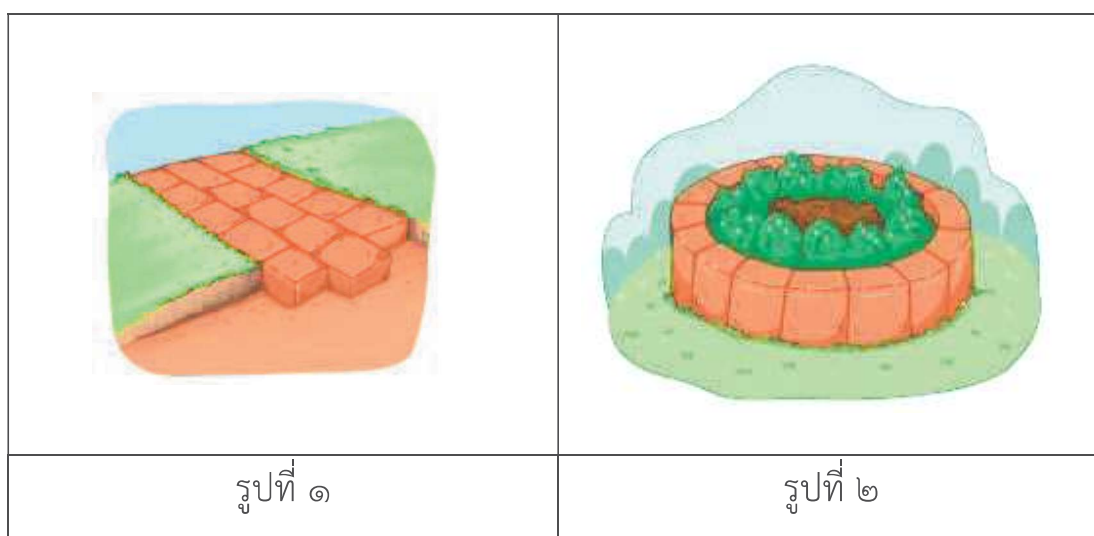
แบบฝึกหัด เรื่อง ความสัมพันธ์ของชิ้นใหม่กับชิ้นเดิม

ตอบคำถามต่อไปนี้ให้ถูกต้อง

๑. ข้อใดเป็นการแยกชิ้นส่วนย่อยของวัตถุ แล้วนำมาประกอบเป็นวัตถุชิ้นใหม่ พร้อมบอก

เหตุผล

ก. นำอิฐที่ใช้ทำทางเดินมาทำเป็นที่กั้นดินรอบโคนต้นไม้



เป็นการแยกชิ้นส่วนย่อยของวัตถุ ไม่เป็นการแยกชิ้นส่วนย่อยของวัตถุ

เพราะ.....

.....

.....

ข. การนำกระดาษหนังสือพิมพ์ ๑ แผ่น มาพับเป็นถุงกระดาษ ๑ ถุง

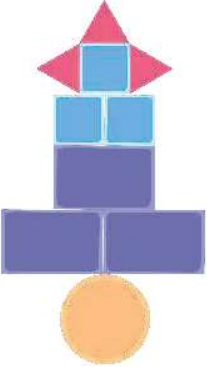
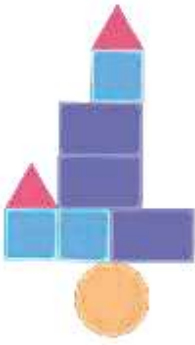
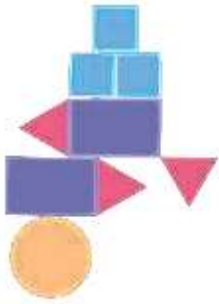
เป็นการแยกชิ้นส่วนย่อยของวัตถุ ไม่เป็นการแยกชิ้นส่วนย่อยของวัตถุ

เพราะ.....

.....

.....

๒. ตัวต่อรูป ก มีลักษณะดังรูป และเมื่อแยกชิ้นส่วนตัวต่อใน รูป ก ออกและนำมาต่อให้เป็นตัวต่อรูป ข และแยกชิ้นส่วนอีกครั้งแล้วนำมาต่อให้เป็นตัวต่อรูป ค ซึ่งมีลักษณะ ดังรูป ชิ้นส่วนที่หายไปในรูปแบบ ข และ รูป ค คือชิ้นส่วนใด

		
ตัวต่อรูป ก	ตัวต่อรูป ข	ตัวต่อรูป ค

ชิ้นส่วนที่หายไปในตัวต่อรูป ข คือ

.....

.....

ชิ้นส่วนที่หายไปในตัวต่อรูป ค คือ

.....

.....