

แบบฝึกหัด 1.4

1) วงล้อมรอบภาพแสดงการนับที่ละ 10 และเขียนตัวเลขแสดงจำนวน

1)



รถยนต์ของเล่น คัน

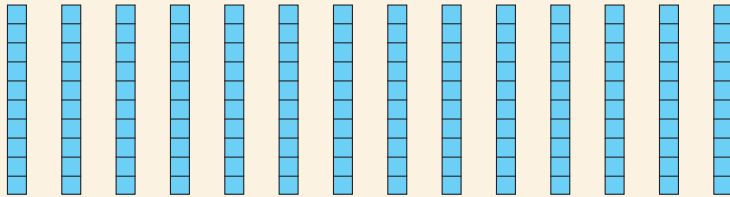
2)



เพนกวิน ตัว


2) นับและเขียนตัวเลขแสดงจำนวน

1)



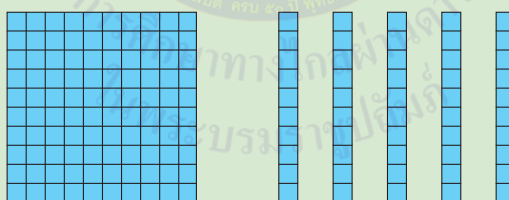
.....

2)



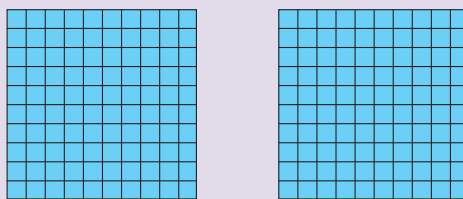
.....

3)



.....

4)



.....
