

# รายวิชาคณิตศาสตร์

รหัสวิชา ค12101 ชั้นประถมศึกษาปีที่ 2

## การนับทีละ 2

ครูผู้สอน ครูพีระพงษ์ เย็นทรวง



# การนับทีละ 2



กิจกรรม

นับและบอก





## ขั้นตอนการทำกิจกรรม

ให้นักเรียน  
แต่ละกลุ่ม



1. รับถุงที่บรรจุตัวนับ

2. นับตัวนับ

3. จดจำนวนลงกระดาน





เราสามารถบอกจำนวนของสิ่งต่าง ๆ



โดยการนับ

นับทีละ 1



นับทีละ 10





เราสามารถบอกจำนวนของสิ่งต่าง ๆ

นับทีละ 1

โดยการนับ

นับทีละ 10

นับแบบอื่น ๆ





# จุดประสงค์การเรียนรู้



นับและบอกจำนวนไม่เกิน 100 โดยการนับทีละ 2


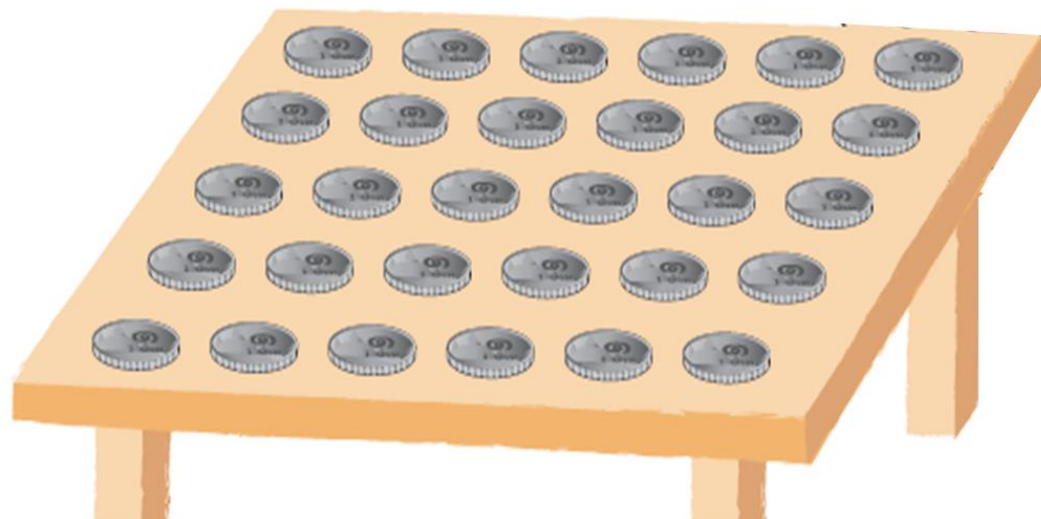


สื่อสารและสื่อความหมายทางคณิตศาสตร์





## วิธีการนับทีละ 2



จัดวางซ้อนกันเป็นกอง  
กองละ 2 อัน







จากการนับตัวนับ  
ทีละ 2 พบว่า



มีตัวนับทั้งหมด 30 อัน

# กิจกรรม

## ช่วยนับหน่อย





## ขั้นตอนการทำกิจกรรม

ให้นักเรียน  
แต่ละกลุ่ม



1. รับถุงที่บรรจุตัวนับ

2. นับตัวนับ

3. จดจำนวนลงกระดาน

4. นำเสนอวิธีการนับ




## ข้อสังเกตจากกิจกรรม


### “ช่วยนับหน่อย”


การนับสิ่งต่าง ๆ โดยนับทีละ 2 จะได้ผลการนับ  
2 ลักษณะ คือ

- 1) นับทีละ 2 ได้พอดี เช่น ตัวนับ 24 อัน
- 2) นับทีละ 2 แล้วนับเพิ่มอีก 1  
เช่น ตัวนับ 13 อัน

# จากภาพที่กำหนดให้ มีรูปดาวทั้งหมดกี่ดวง








จากการนับรูปดาวทีละ 2


พบว่า มีรูปดาวทั้งหมด 20 ดวง



ให้นักเรียนช่วยกัน







นับไข่ไก่









ว่ามีจำนวนกี่ฟอง















จากการนับไข่ไก่ทีละ 2

พบว่า มีไข่ไก่จำนวน 36 ฟอง





# สรุป





เราสามารถบอกจำนวนของสิ่งต่าง ๆ



# แบบฝึกหัด 1.2

สามารถดาวน์โหลดได้ที่ [www.dltv.ac.th](http://www.dltv.ac.th)





# กิจกรรมของปลายทาง

## คำชี้แจงกิจกรรมนักเรียน

1. อ่านคำสั่งของแบบฝึกหัด 1.2
2. ทำแบบฝึกหัด 1.2
3. ตรวจสอบคำตอบ

## คำชี้แจงบทบาทครูปลายทาง

1. แจกแบบฝึกหัด 1.2
2. อธิบายคำสั่งของแบบฝึกหัด 1.2
3. ตรวจสอบความเข้าใจของผู้เรียน





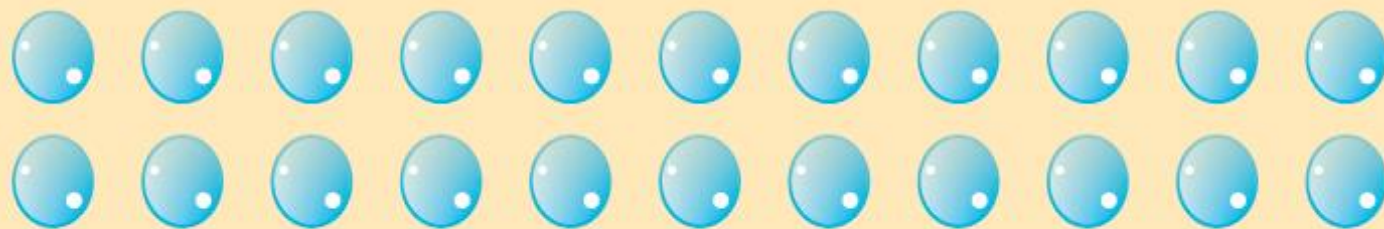
1 วงล้อมรอบภาพแสดงการนับทีละ 2 และเขียนตัวเลขแสดงจำนวน

1)




แก้วตามีตุ๊กตา \_\_\_\_\_ ตัว

2)



ใบบัวมีลูกแก้ว ..... ลูก




2 วงล้อมรอบภาพแสดงการนับทีละ 2 หรือทีละ 10 และเขียนตัวเลขแสดงจำนวน

1)



ขนมทองหยิบ \_\_\_\_\_ ชิ้น

2)



ขนมทองหยอด \_\_\_\_\_ ชิ้น



# บทเรียนครั้งต่อไป

## เรื่อง การนับทีละ 5

### สิ่งที่ต้องเตรียม

1. เหรียญ

2. แบบฝึกหัด 1.3

สามารถดาวน์โหลดได้ที่ [www.dltv.ac.th](http://www.dltv.ac.th)

