



แบบฝึกหัด 1.2

1 นับและระบายสี ○ ให้เท่ากับจำนวนของสิ่งต่างๆ



○	○	○	○	○
---	---	---	---	---



○	○	○	○	○
---	---	---	---	---



○	○	○	○	○
---	---	---	---	---



○	○	○	○	○
---	---	---	---	---




○	○	○	○	○
---	---	---	---	---



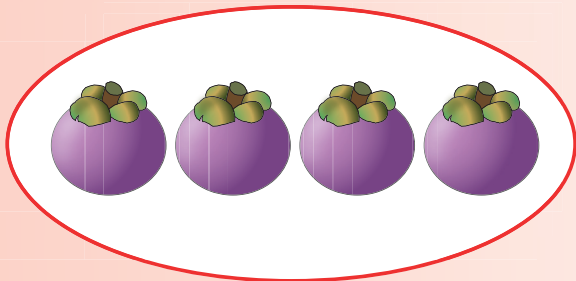
○	○	○	○	○
---	---	---	---	---



๒ นับและระบายสี ○ ให้เท่ากับจำนวนของสิ่งต่างๆ




○	○	○	○	○
---	---	---	---	---




○	○	○	○	○
---	---	---	---	---




○	○	○	○	○
---	---	---	---	---




○	○	○	○	○
---	---	---	---	---




○	○	○	○	○
---	---	---	---	---



3 นับและระบายสี ○ ให้เท่ากับจำนวนของสิ่งต่างๆ




○ ○ ○ ○ ○



○ ○ ○ ○ ○



○ ○ ○ ○ ○



○ ○ ○ ○ ○



○ ○ ○ ○ ○



○ ○ ○ ○ ○



8 เขียนรูปที่แสดงจำนวน หนึ่ง แล้วระบายสีหรือแรเงา

9 เขียนรูปที่แสดงจำนวน สอง แล้วระบายสีหรือแรเงา

10 เขียนรูปที่แสดงจำนวน สาม แล้วระบายสีหรือแรเงา