

รายวิชา คณิตศาสตร์

รหัสวิชา ค11101

ชั้นประถมศึกษาปีที่ 1

เรื่อง การนับและแสดงจำนวน

1 ถึง 5 และ 0 (1)


ครูผู้สอน ครูจิรวุฒิ ภัคดี






การนับและแสดงจำนวน

1 ถึง 5 และ 0 (1)





นักเรียนคิดว่าความรู้ที่ได้รับในวันนี้
จะสามารถนำไปใช้ทำอะไรได้บ้าง





จุดประสงค์การเรียนรู้

นับ และแสดงจำนวนนับ 1 ถึง 5 และ 0





ข้อตกลงในการเรียน

สองตา



มีสติ



เรียนรู้อย่างฉลาด



สองหูฟัง



ไม่เข้าใจให้ถาม



สมองคิด



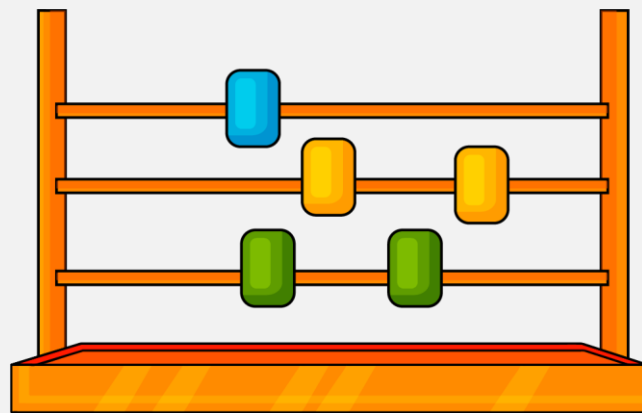
กลับบ้านทบทวน



เฮ้ เฮ้ เฮ้




การนับและแสดงจำนวน 1 ถึง 5 และ 0

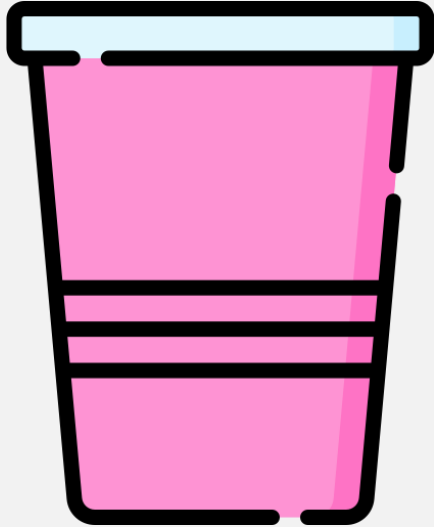


สิ่งของต่าง ๆ






มีไม้ไอศกรีมอยู่กี่อัน





ไม่มีไม้ไอศกรีมอยู่ถือว่า
มีจำนวนศูนย์ หรือ ศูนย์

นับและบอกจำนวนของสิ่งต่าง ๆ ในบัตรภาพ




1



จำนวน “หนึ่ง” ของสิ่งต่าง ๆ
ไม่ขึ้นอยู่กับชนิด ขนาด รูปร่าง

จำนวนนับ จำนวนแรก คือ **หนึ่ง**

1 คือ สัญลักษณ์เขียนแทนจำนวนหนึ่ง



ตัวเลขหนึ่ง







ตัวเลขสอง





ตัวเลขสาม





ตัวเลขสี่





ตัวเลขห้า



คำชี้แจงกิจกรรมนักเรียน









- ให้นักเรียนทำแบบฝึกหัด 1.1

คำชี้แจงบทบาทครูปลายทาง



1. แจกแบบฝึกหัด 1.1 ให้นักเรียน
2. ครูอธิบายคำชี้แจงแต่ละข้อ
3. ครูตรวจสอบความถูกต้องและให้ความช่วยเหลือตามความเหมาะสม

1 นับและเขียนวงล้อมรอบรูปที่แสดงจำนวน หนึ่ง



ใบงานที่ 1.1


เรื่อง การนับและแสดงจำนวน
1 ถึง 5 และ 0 (1)



(สามารถดาวน์โหลดได้ที่ www.dltv.ac.th)



2 นับและเขียนวงล้อมรอบรูปที่แสดงจำนวน สอง



ใบงานที่ 1.1


เรื่อง การนับและแสดงจำนวน
1 ถึง 5 และ 0 (1)



(สามารถดาวน์โหลดได้ที่ www.dltv.ac.th)



3 นับและเขียนวงล้อมรอบรูปที่แสดงจำนวน สาม



ใบงานที่ 1.1

เรื่อง การนับและแสดงจำนวน
1 ถึง 5 และ 0 (1)



(สามารถดาวน์โหลดได้ที่ www.dltv.ac.th)



4 นับและเขียนวงล้อมรอบรูปที่แสดงจำนวน สี่



ใบงานที่ 1.1


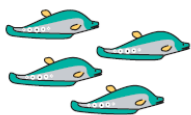

เรื่อง การนับและแสดงจำนวน
1 ถึง 5 และ 0 (1)



(สามารถดาวน์โหลดได้ที่ www.dltv.ac.th)



5 นับและเขียนวงล้อมรอบรูปที่แสดงจำนวน ห้า



ใบงานที่ 1.1

เรื่อง การนับและแสดงจำนวน
1 ถึง 5 และ 0 (1)



(สามารถดาวน์โหลดได้ที่ www.dltv.ac.th)



6 เขียน ✓ ลงในช่องที่แสดงจำนวน ศูนย์



7 เลือกรูปที่แสดงจำนวน ศูนย์ แล้วเขียน ✗ ทับ ก ข หรือ ค



ก



ข



ค



ก



ข



ค



ก



ข



ค



ใบงานที่ 1.1

เรื่อง การนับและแสดงจำนวน
1 ถึง 5 และ 0 (1)



(สามารถดาวน์โหลดได้ที่ www.dltv.ac.th)





สรุป



เราสามารถบอกจำนวนของสิ่งต่าง ๆ ได้จากการนับ

เช่น หลอดดูด 2 หลอด ไม้ไอศกรีม 5 อัน



จำนวนไม่ขึ้นอยู่กับชนิด ขนาด และรูปร่างของสิ่งต่าง ๆ

เช่น ช้าง 1 เชือก มด 1 ตัว

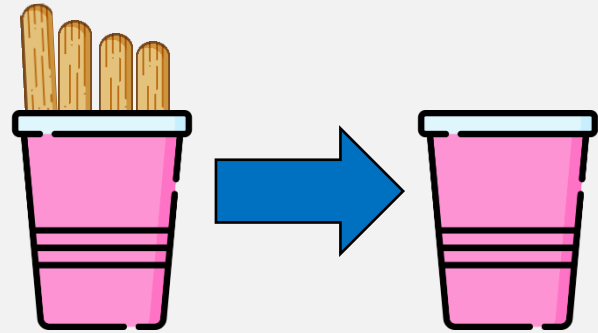




หนึ่ง สอง สาม สี่ ห้า เป็นจำนวนนับที่เริ่มต้นจาก
หนึ่ง และนับเพิ่มขึ้นทีละหนึ่งตามลำดับ



ถ้าไม่มีของจะถือว่าเป็นจำนวนศูนย์





บทเรียนครั้งต่อไป

เรื่อง การนับและแสดงจำนวน

1 ถึง 5 และ 0 (2)

