

## แบบฝึกหัด 1.1


**คำชี้แจง** หาตัวประกอบทั้งหมดของจำนวนนับที่กำหนดให้

- 1) ตัวประกอบทั้งหมดของ 13 ได้แก่ .....
- 2) ตัวประกอบทั้งหมดของ 16 ได้แก่ .....
- 3) ตัวประกอบทั้งหมดของ 21 ได้แก่ .....
- 4) ตัวประกอบทั้งหมดของ 25 ได้แก่ .....
- 5) ตัวประกอบทั้งหมดของ 36 ได้แก่ .....
- 6) ตัวประกอบทั้งหมดของ 41 ได้แก่ .....
- 7) ตัวประกอบทั้งหมดของ 49 ได้แก่ .....
- 8) ตัวประกอบทั้งหมดของ 60 ได้แก่ .....
- 9) ตัวประกอบทั้งหมดของ 75 ได้แก่ .....
- 10) ตัวประกอบทั้งหมดของ 84 ได้แก่ .....
- 11) ตัวประกอบทั้งหมดของ 97 ได้แก่ .....
- 12) ตัวประกอบทั้งหมดของ 100 ได้แก่ .....




**คำชี้แจง** ให้นักเรียนวาดจำนวนกลีบดอกไม้เท่ากับจำนวนตัวประกอบทั้งหมดของจำนวนนับที่กำหนดให้ แล้วเขียนตัวประกอบทั้งหมดของจำนวนนับนั้นลงในกลีบดอกไม้


ตัวอย่าง 18




1) 14




2) 17




3) 24



4) 29



5) 32



6) 33

7) 52

8) 53

9) 81

