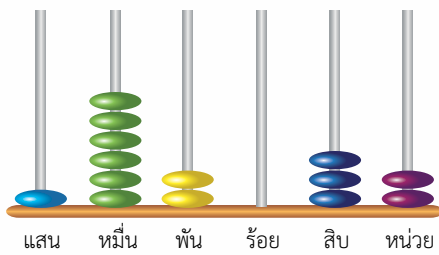


แบบฝึกหัด 1.1

1. เขียนตัวเลขฮินดูอารบิก ตัวเลขไทย และตัวหนังสือแสดงจำนวน

1)

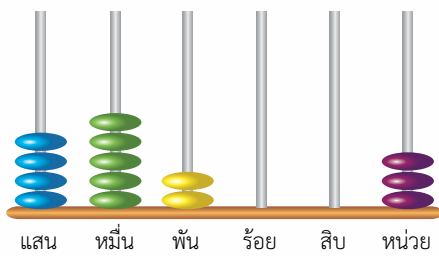


ตัวเลขฮินดูอารบิก.....

ตัวเลขไทย.....

ตัวหนังสือ.....

2)

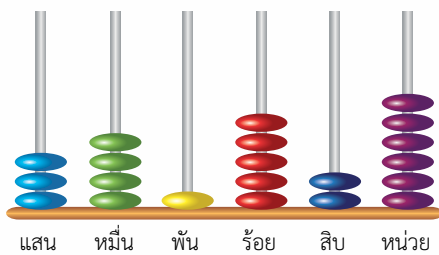


ตัวเลขฮินดูอารบิก.....

ตัวเลขไทย.....

ตัวหนังสือ.....

3)

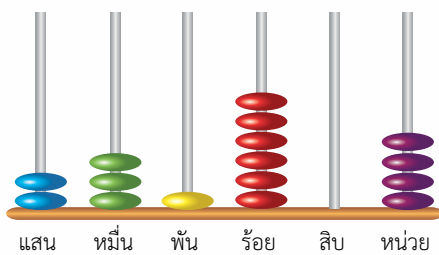


ตัวเลขฮินดูอารบิก.....

ตัวเลขไทย.....

ตัวหนังสือ.....

4)



ตัวเลขฮินดูอารบิก.....

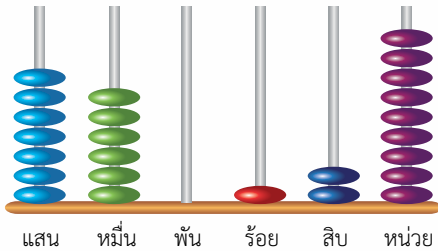
ตัวเลขไทย.....

ตัวหนังสือ.....



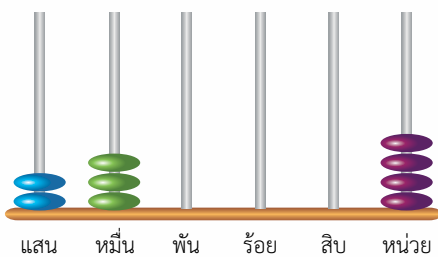
## 2. ตอบคำถามต่อไปนี้

1)



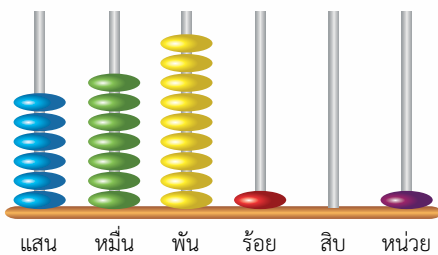
หลักลูกคิดแสดงจำนวนใด.....  
 ถ้าใส่ลูกคิดในหลักหน่วย 1 ลูก หลักลูกคิดจะ  
 แสดงจำนวนใด.....

2)



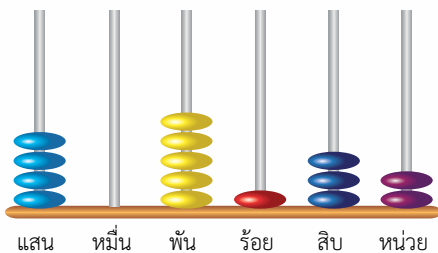
หลักลูกคิดแสดงจำนวนใด.....  
 ถ้าใส่ลูกคิดในหลักร้อย 1 ลูก หลักลูกคิดจะแสดง  
 จำนวนใด.....

3)



หลักลูกคิดแสดงจำนวนใด.....  
 ถ้าใส่ลูกคิดในหลักพัน 1 ลูก หลักลูกคิดจะแสดง  
 จำนวนใด.....

4)



หลักลูกคิดแสดงจำนวนใด.....  
 ถ้าใส่ลูกคิดในหลักสิบ 1 ลูก หลักลูกคิดจะแสดง  
 จำนวนใด.....