

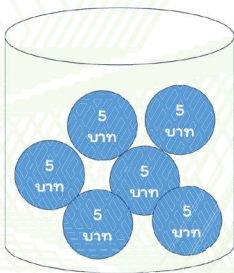
ชื่อ-สกุล ชั้น เลขที่

วันที่ เดือน พ.ศ.

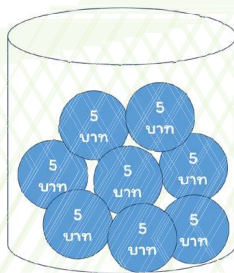
ใบงาน ๑ : กระปุกออมสิน

คำชี้แจง ให้นักเรียนพิจารณาสถานการณ์ที่กำหนดให้ แล้วตอบคำถามต่อไปนี้
สถานการณ์

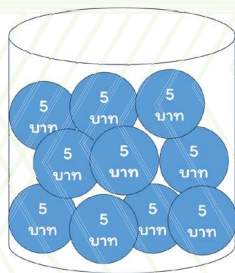
ทุก ๆ วัน เบสจะนำเงินค่าขนมส่วนหนึ่งมาหยอดใส่กระปุกออมสิน โดยจำนวนเท่า ๆ กันอย่างต่อเนื่องทุกวัน แต่พบว่ามียู่วันหนึ่ง ที่เบสหยอดเงินใส่กระปุกน้อยกว่าทุกวัน ให้นักเรียนค้นหาว่าเป็นวันที่เท่าไร และวันนั้นเบสหยอดเงินใส่กระปุกกี่บาท



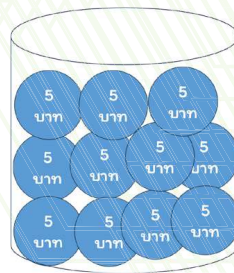
วันที่ ๑



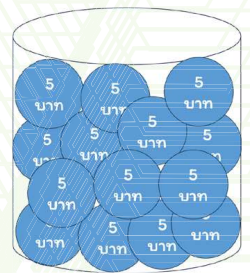
วันที่ ๒



วันที่ ๓



วันที่ ๔



วันที่ ๕

วันที่เบสแบ่งเงินมาหยอดใส่กระปุกออมสินน้อยกว่าทุกวัน คือ.....
จำนวน.....บาท