



บัตริยกรรมวงล้อสัญลักษณ์

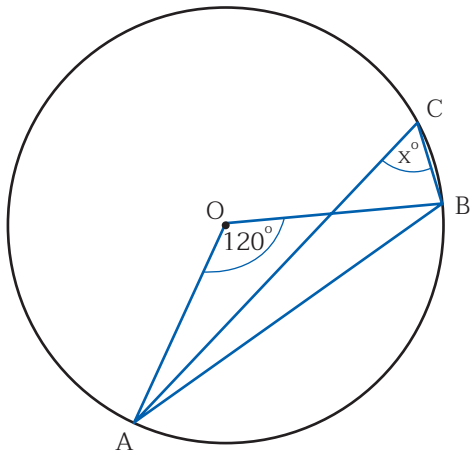
สำหรับแผนการจัดการเรียนรู้ที่ 2 ชั่วโมงที่ 6

สัญลักษณ์  
 $\pi$

คำตอบ

30

ปัญหา : จากวงกลม O ที่กำหนดให้ จงหาค่า  $x$




---

---

---

---

---

---

---

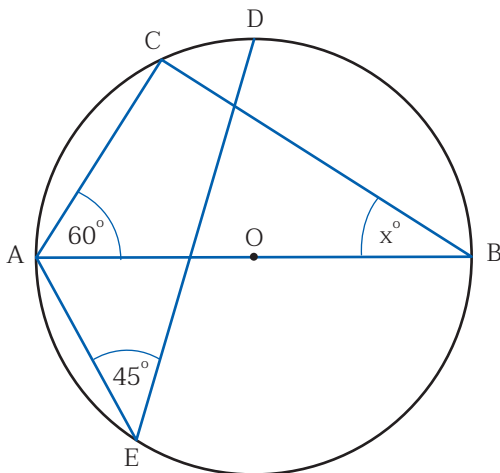
---

สัญลักษณ์  
 $\triangle$

คำตอบ

35

ปัญหา : จากวงกลม O ที่กำหนดให้ จงหาค่า  $x$




---

---

---

---

---

---

---

---

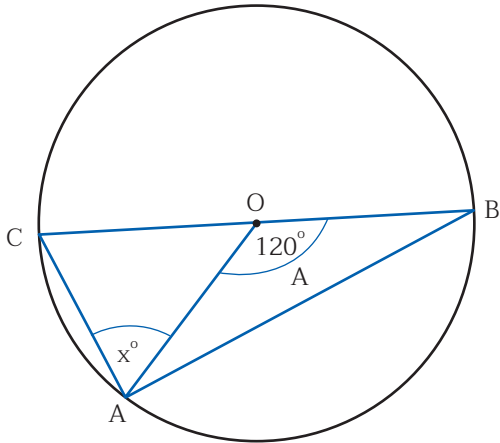
สัญลักษณ์



คำตอบ

40

ปัญหา : จากวงกลม O ที่กำหนดให้ จงหาค่า x




---

---

---

---

---

---

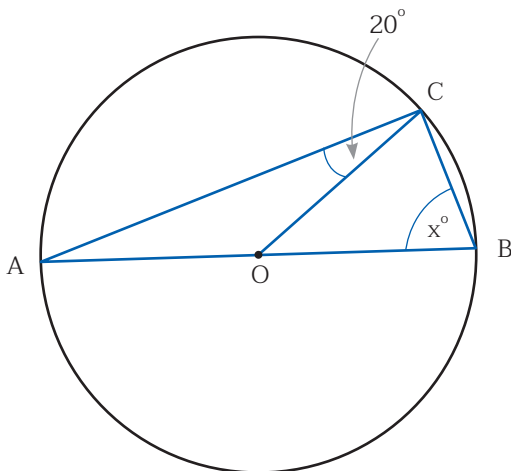
สัญลักษณ์



คำตอบ

65

ปัญหา : จากวงกลม O ที่กำหนดให้ จงหาค่า x




---

---

---

---

---

---

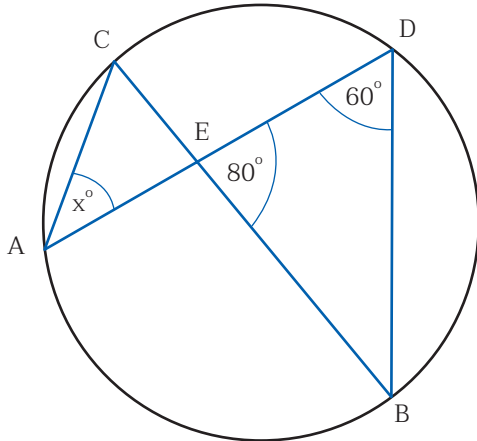
สัญลักษณ์



คำตอบ

60

ปัญหา : จากรูป จงหาค่า  $x$




---

---

---

---

---

---

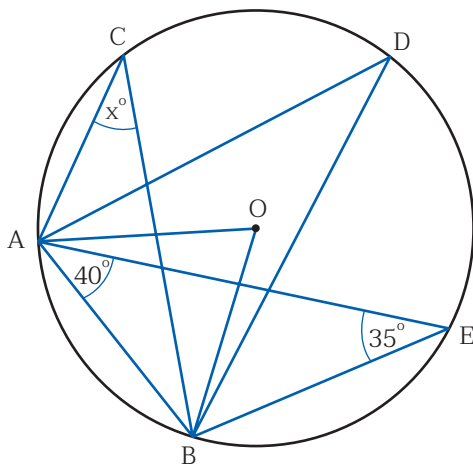
สัญลักษณ์



คำตอบ

70

ปัญหา : จากวงกลม  $O$  ที่กำหนดให้ จงหาค่า  $x$




---

---

---

---

---

---