



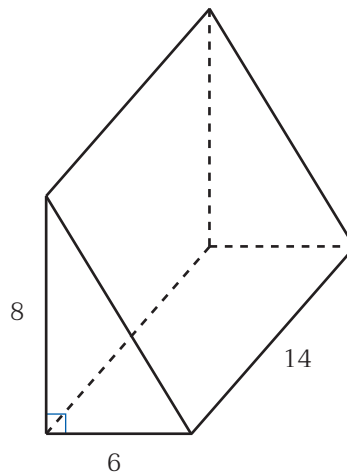
แบบฝึกหัด 4 : ปริมาตรของปริซึม

สูตรการหาปริมาตรของปริซึม

$$\text{ปริมาตรของปริซึม} = \text{พื้นที่ฐาน} \times \text{ความสูง}$$

คำชี้แจง ให้นักเรียนแสดงวิธีทำและหาปริมาตรของปริซึมที่กำหนดให้ต่อไปนี้ (ความยาวที่กำหนดให้มีหน่วยเป็นเซนติเมตร)

1. จงหาปริมาตรของปริซึมต่อไปนี้



วิธีทำ

.....

.....


.....

.....

.....

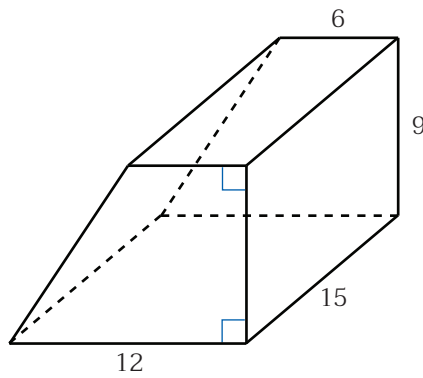
.....

.....



หน่วยการเรียนรู้ที่ 3 ปริซึมลอกกลาย สร้างรายได้จากกระดาษ

2. จงหาปริมาตรของปริซึมต่อไปนี้



วิธีทำ

.....

.....

.....

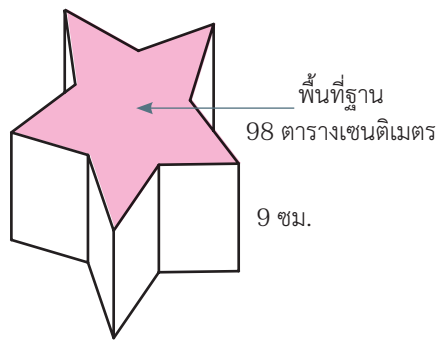
.....

.....

.....

.....

3. จงหาปริมาตรของปริซึมรูปต่อไปนี้



วิธีทำ

.....

.....

.....