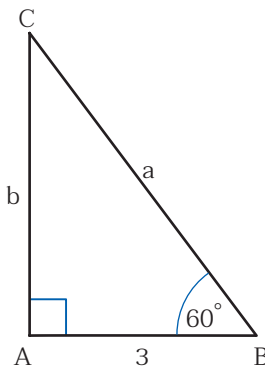

 **แบบฝึกหัด 3 : ตามหาความยาวของด้าน**

ชื่อ-สกุล..... ชั้น ม.3/..... เลขที่.....  
 ชื่อ-สกุล..... ชั้น ม.3/..... เลขที่.....

**คำชี้แจง** ให้นักเรียนหาความยาวของด้านจากรูปสามเหลี่ยมมุมฉากที่กำหนดให้ต่อไปนี้ โดยใช้อัตราส่วนตรีโกณมิติ

- กำหนดให้  $\triangle ABC$  เป็นรูปสามเหลี่ยมมุมฉาก ที่มีมุม  $A$  เป็นมุมฉาก จงหาค่าของ  $a$  และ  $b$




 ค่าของ  $a$

.....

.....

.....

.....

 ค่าของ  $b$

.....

.....

.....

.....

