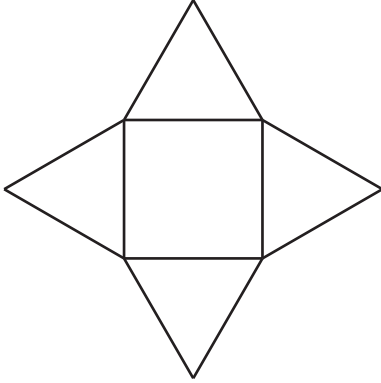
 **แบบฝึกหัด 2 : รูปคลี่ของพีระมิด**

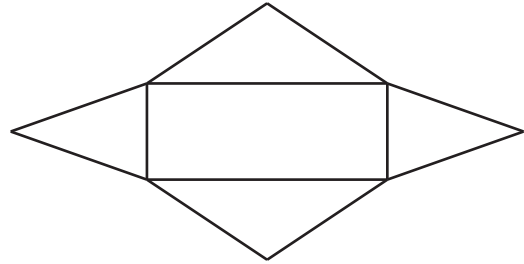
**คำชี้แจง** ให้นักเรียนพิจารณารูปคลี่ของพีระมิดที่กำหนดให้ต่อไปนี้ แล้วระบุชื่อของพีระมิดลงในช่องว่างให้สมบูรณ์

1.



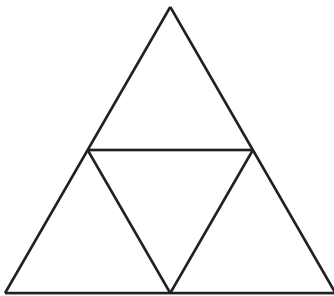
พีระมิด..... 

2.



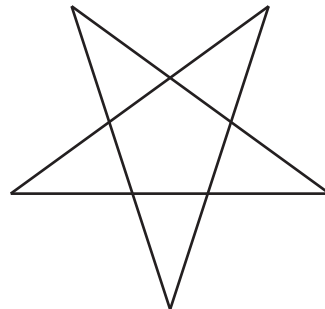
พีระมิด..... 

3.




พีระมิด..... 

4.




พีระมิด..... 

5.



พีระมิด..... 

6.



พีระมิด..... 