


ใบงานที่ ๓ เรื่อง ทฤษฎีดนตรีเบื้องต้น
หน่วยการเรียนรู้ที่ ๑ เรื่อง ตัวโน้ตดนตรีมีหาสนุก ๒
แผนการจัดการเรียนรู้ที่ ๓ เรื่อง บันไดเสียงเมเจอร์ (๒)
รายวิชา ศิลปะ(ดนตรีสากล) รหัสวิชา ศ ๒๒๑๐๔ ภาคเรียนที่ ๒ ชั้นมัธยมศึกษาปีที่ ๒


คำชี้แจง จงตอบคำถามต่อไปนี้

ตอนที่ ๑ ภาคทฤษฎี


๑. จงเขียนบันไดเสียง E flat Major scale ลงบนบรรทัด 5 เส้นให้ถูกต้อง




๒. จงเขียนบันไดเสียง A flat Major scale ลงบนบรรทัด 5 เส้นให้ถูกต้อง



๓. จงเขียนบันไดเสียง A Major scale ลงบนบรรทัด 5 เส้นให้ถูกต้อง



๔. จงเขียนบันไดเสียง E Major scale ลงบนบรรทัด 5 เส้นให้ถูกต้อง



๕. จงตอบคำถามต่อไปนี้

๕.๑) บันไดเสียง E flat Major scale มีเครื่องหมายแฟลต (Flat) จำนวนทั้งหมด _____




๕.๒) บันไดเสียง A flat Major scale มีเครื่องหมายแฟลต (Flat) จำนวนทั้งหมด _____

๕.๓) บันไดเสียง A Major scale มีเครื่องหมายชาร์ป (Sharp) จำนวนทั้งหมด _____

๕.๔) บันไดเสียง E Major scale มีเครื่องหมายชาร์ป (Sharp) จำนวนทั้งหมด _____

ตอนที่ 2 ภาคปฏิบัติ

๑. จงนับจังหวะพร้อมกับปรบมือตามค่าน้ตในรอบแรก และร้องน้ตพร้อมกับปรบมือในรอบที่สอง

ค่าน้ตแจง หนึ่งห้องในเครื่องหมายประจำจังหวะ $\frac{4}{4}$ จะมีน้ตตัวขาว  น้ตตัวดำ  และ
น้ตเข้บ้ตหนึ่งซ้ัน 

๑.๑) จงร้องน้ตเพลงพร้อมกับปรบมือตามน้ต (Key A Major)



๑.๒) ให้นักเรียนจับคู่อ้ตเพลงพร้อมกับปรบมือตามน้ต (Key Ab Major)



