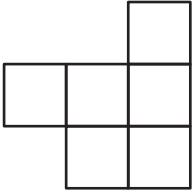
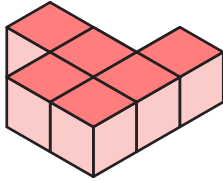







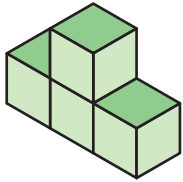
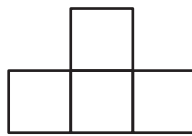

แบบฝึกหัด 5 : ตัวเลขแสดงจำนวนลูกบาศก์

คำชี้แจง ให้นักเรียนเขียนตัวเลขแสดงจำนวนลูกบาศก์ลงในภาพด้านหน้า ภาพด้านข้าง และภาพด้านบนของรูปเรขาคณิตสามมิติที่ประกอบขึ้นจากลูกบาศก์ที่กำหนดให้

1.

 <p>ภาพด้านบน</p>	
 <p>ภาพด้านหน้า</p>	 <p>ภาพด้านข้าง</p>

2.

 <p>ภาพด้านบน</p>	
 <p>ภาพด้านหน้า</p>	 <p>ภาพด้านข้าง</p>

