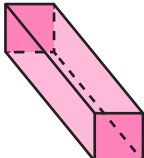
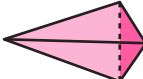
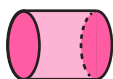



แบบฝึกหัด 1 : หน้าตัดที่ได้จากการตัดรูปเรขาคณิตสามมิติ

คำชี้แจง ให้นักเรียนช่วยกันวิเคราะห์และเขียนภาพหน้าตัดที่เกิดขึ้นจากการตัดรูปเรขาคณิตสามมิติที่กำหนดตามแนวทางต่าง ๆ ที่กำหนดให้

รูปเรขาคณิตสามมิติ	ภาพหน้าตัดที่ได้จากการตัดรูปเรขาคณิตสามมิติตามแนวทางต่าง ๆ		
	แนวตั้งฉากกับฐาน	แนวขนานกับฐาน	แนวเฉียงที่ไม่ตั้งฉากและไม่ขนานกับฐาน
 ปริซึมสี่เหลี่ยมจัตุรัส			
 พีระมิดฐานสามเหลี่ยม			
 ทรงกระบอก			
 กรวย			