

รายวิชา สังคมศึกษา

รหัสวิชา ส๑๑๑๐๑


ชั้นประถมศึกษาปีที่ ๑

เรื่อง ความสัมพันธ์ของ
ตำแหน่ง ระยะ ทิศ (๒)

ครูผู้สอน ครูอริษา แก้วไทรทองวน

ครูสุดาร์ตน์ จันทะแจ่ม





ความสัมพันธ์ของตำแหน่ง ระยะ ทิศ (๒)



จุดประสงค์การเรียนรู้

สังเกตและบอกตำแหน่ง ระยะ ทิศ
ของสิ่งต่าง ๆ รอบตัวได้





ทิศตะวันตก

อยู่ด้านซ้ายมือ

ทิศเหนือ

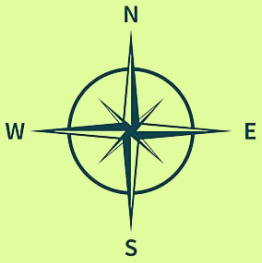
อยู่ด้านหน้า

ทิศใต้

อยู่ด้านหลัง

ทิศตะวันออก

อยู่ด้านขวามือ



บ้าน



สวนสาธารณะ




โรงพยาบาล



โรงเรียน




วัด



ทิศเหนือ

ตลาด





บ้าน



สวนสาธารณะ




โรงพยาบาล



โรงเรียน




วัด



ตลาด



สวนสาธารณะ



บ้าน



สวนสาธารณะ



โรงพยาบาล



โรงเรียน



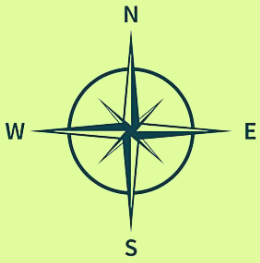
วัด



ตลาด



ทิศตะวันตก



บ้าน



สวนสาธารณะ




โรงพยาบาล



โรงเรียน



วัด



รถยนต์คันสีแดง

ตลาด





ตำแหน่ง

เป็นการบอกที่ตั้ง
หรือที่อยู่ของสิ่งต่าง ๆ ว่าอยู่ที่ใดในพื้นที่



ด้านหลังของหมู่บ้านเป็นภูเขา

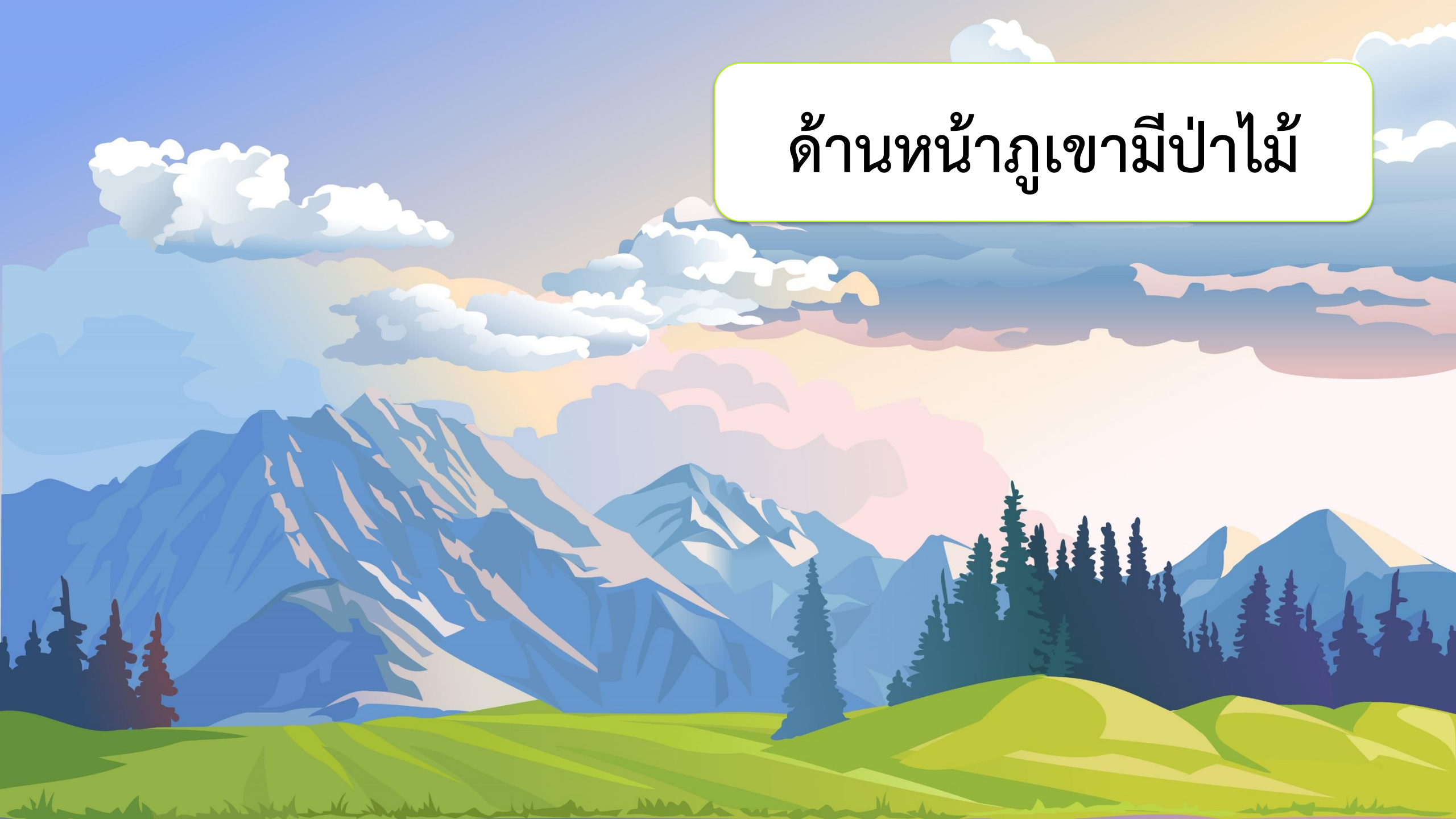
วัดตั้งอยู่ใกล้กับแม่น้ำ



เจดีย์ตั้งอยู่ติดกับวัด



ด้านหน้าภูเขามีสป่าไม้





ระยะ

ความยาวตามเส้นทางการเคลื่อนที่จาก
ตำแหน่งที่เริ่มต้นจนถึงตำแหน่งที่สิ้นสุด
เช่น ระยะใกล้ ระยะไกล ระยะยาว ระยะสั้น


บ้านครูโบ



บ้านครูแนน



บ้านครูแก้ว



บ้านของครูโบอยู่ใกล้กับบ้านของครูแนน
แต่อยู่ไกลจากบ้านของครูแก้ว



ทิศ

การบอกทิศทาง มีประโยชน์ คือ ช่วยทำให้
เรารู้ว่าสถานที่ หรือสิ่งที่เราพูดถึงตั้งอยู่ทางด้านไหน
ของสถานที่ หรือสิ่งที่เรารู้จัก



คำถามชวนคิด

นักเรียนคนใดนั่งอยู่
ใกล้คุณครูมากที่สุด



คำถามชวนคิด

นักเรียนคนใดนั่งอยู่ไกล
จากคุณครูมากที่สุด

ความสัมพันธ์ของตำแหน่ง ระยะ และทิศ

ตำแหน่ง ระยะ และทิศ ของสิ่งต่าง ๆ จะทำให้เรารู้ว่าสิ่งนั้นตั้งอยู่ที่ใด ความสัมพันธ์ของตำแหน่ง ระยะ ทิศ ของสิ่งต่าง ๆ ที่เป็นสิ่งแวดล้อมรอบตัวเรา มีผลต่อการดำเนินชีวิตของคนเราด้วย

ความสัมพันธ์ของตำแหน่ง ระยะ และทิศ

เช่น การสร้างที่อยู่อาศัย ไม่นิยมสร้างบ้านให้
หน้าบ้านอยู่ทางทิศตะวันตก เพราะจะได้รับ
แสงแดดมากในช่วงบ่าย ทำให้ร้อนอบอ้าว

ความสัมพันธ์ของตำแหน่ง ระยะ และทิศ

ชุมชนส่วนใหญ่ตั้งอยู่บริเวณที่ราบ
เพราะสามารถเดินทางได้สะดวก



ความสัมพันธ์ของตำแหน่ง ระยะ และทิศ

ชุมชนส่วนใหญ่จะอยู่ใกล้แหล่งน้ำ
เพื่อสะดวกในการนำน้ำมาใช้



หากันจนเจอ



วัดอยู่ทางทิศใดของโรงเรียน



ทิศเหนือ



ทิศใต้



ทิศตะวันออก



ทิศตะวันตก



หากันจนเจอ



สนามเด็กเล่น



โรงพยาบาล



ตลาด



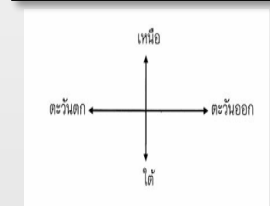
หมู่บ้าน



โรงเรียน



บ้าน



วัด



ไปรษณีย์

บ้านอยู่ทางทิศใดของไปรษณีย์



ทิศเหนือ



ทิศใต้



ทิศตะวันออก



ทิศตะวันตก



หากันจนเจอ



โรงเรียนอยู่ทางทิศใดของบ้าน




ทิศเหนือ



ทิศใต้



ทิศตะวันออก



ทิศตะวันตก



หากันจนเจอ



สนามเด็กเล่น



โรงพยาบาล



ตลาด



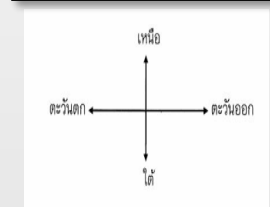
หมู่บ้าน



โรงเรียน



บ้าน



วัด



ไปรษณีย์


โรงพยาบาลอยู่ทางทิศใด
ของสนามเด็กเล่น



ทิศเหนือ



ทิศใต้



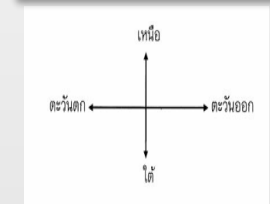
ทิศตะวันออก



ทิศตะวันตก



หากันจนเจอ



หมู่บ้านอยู่ทางทิศใดของ
สนามเด็กเล่น



ทิศเหนือ



ทิศใต้



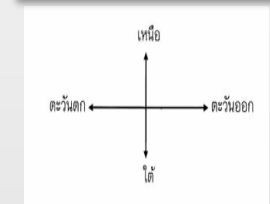
ทิศตะวันออก



ทิศตะวันตก



หากันจนเจอ



วัดอยู่ทางทิศใด
ของไปรษณีย์



ทิศเหนือ



ทิศใต้



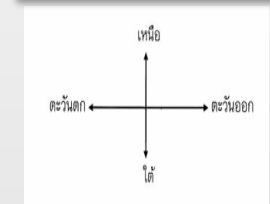
ทิศตะวันออก



ทิศตะวันตก




หากันจนเจอ



บ้านอยู่ทางทิศใด
ของตลาด



ทิศเหนือ



ทิศใต้



ทิศตะวันออก



ทิศตะวันตก



ประโยชน์ของการเรียนรู้ตำแหน่งที่ตั้งและระยะ



ทำให้ทราบตำแหน่งที่ตั้ง
ของสิ่งต่าง ๆ



ประโยชน์ของการเรียนรู้ตำแหน่งที่ตั้งและระยะ

ทำให้ทราบระยะใกล้-ไกล
ของสิ่งต่าง ๆ





ประโยชน์ของการเรียนรู้ตำแหน่งที่ตั้งและระยะ

ทำให้ทราบระยะเวลาที่ใช้
ในการเดินทาง





ประโยชน์ของการเรียนรู้ตำแหน่งที่ตั้งและระยะ

บอกตำแหน่งที่ตั้งของสิ่งต่าง ๆ
ได้อย่างถูกต้อง

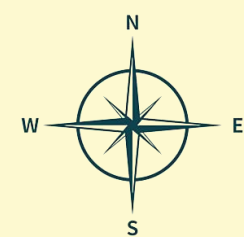


กิจกรรม

สังเกตภาพ

และตอบคำถาม






โรงเรียน



บ้านฟ้าใส

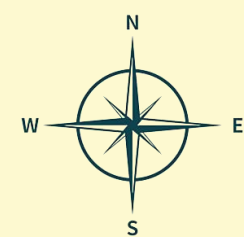


บ้านน้ำหวาน



๑. เสาธงตั้งอยู่ที่ใด

♥ ที่โรงเรียน ♥ ที่บ้าน



โรงเรียน



บ้านฟ้าใส

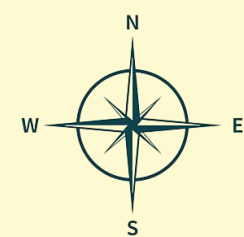


บ้านน้ำหวาน



๒. จากภาพ บ้านใครอยู่ใกล้โรงเรียนมากที่สุด

♥ บ้านฟ้าใส ♥ บ้านน้ำหวาน



โรงเรียน



บ้านฟ้าใส



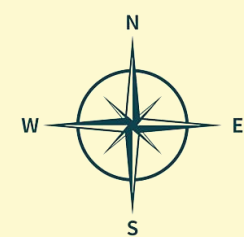
บ้านน้ำหวาน



๓. ถ้าฟ้าใสและน้ำหวานออกจากบ้านเพื่อไปโรงเรียนในเวลาเดียวกัน และใช้ความเร็วในการเดินทางเท่ากัน ใครจะถึงโรงเรียนก่อน

♥ ฟ้าใส

♡ น้ำหวาน



โรงเรียน



บ้านฟ้าใส

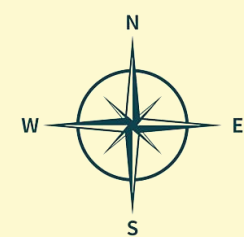


บ้านน้ำหวาน



๔. ถ้าฟ้าใสและน้ำหวานกลับจากโรงเรียนพร้อมกัน
ใครจะถึงบ้านช้าที่สุด

♡ ฟ้าใส ♡ น้ำหวาน



โรงเรียน



บ้านฟ้าใส




บ้านน้ำหวาน



๕. โรงเรียนอยู่ทางทิศใดของบ้าน

	ทิศเหนือ		ทิศใต้
	ทิศตะวันออก		ทิศตะวันตก



สิ่งต่าง ๆ มีตำแหน่งที่ตั้งและตำแหน่งที่อยู่
ทั้งสิ้น และระยะ คือ ความห่างของตำแหน่ง
ที่ตั้งของสิ่งต่าง ๆ โดยสิ่งต่าง ๆ รอบตัวมี
ตำแหน่งที่ตั้งและระยะที่แตกต่างกัน



ใบงานที่ ๕ เรื่อง ห้องนอนของหนู
หน่วยการเรียนรู้ที่ ๑๐ เรื่อง รอบตัวน่ารู้
แผนการจัดการเรียนรู้ที่ ๕ เรื่อง ความสัมพันธ์ของตำแหน่ง ระยะ ทิศ ๒
รายวิชาสังคมศึกษา รหัสวิชา ส๑๑๑๐๑ ภาคเรียนที่ ๒ ชั้นประถมศึกษาปีที่ ๑

คำชี้แจง ให้นักเรียนวาดภาพแสดงตำแหน่ง ระยะ ทิศของสิ่งต่าง ๆ ตามที่กำหนดใน
ห้องนอนของหนู

๑. ห้องนอนมีหน้าต่างอยู่ทางทิศเหนือและมีประตูอยู่ตรงข้าม
๒. เมื่อเข้ามาในห้องนอน มีเตียงนอนชิดผนังด้านซ้ายของห้อง
๓. บนเตียงมีแมวอยู่ ๑ ตัว
๔. ในห้องนอนมีโต๊ะซึ่งชิดผนังด้านขวาของห้อง
๕. บนโต๊ะมีหนังสือและคอมพิวเตอร์วางอยู่




ชื่อ.....นามสกุล.....ชั้น.....เลขที่.....

ใบงานที่ ๕

เรื่อง ห้องนอนของหนู



(สามารถดาวน์โหลดได้ที่ www.dltv.ac.th)



คำชี้แจงกิจกรรมนักเรียน

นักเรียนทำใบงานที่ ๕
เรื่อง ห้องนอนของหนู



คำชี้แจงบทบาทครูปลายทาง


๑. แจกใบงานที่ ๕ เรื่อง ห้องนอนของหนู
๒. อธิบายคำชี้แจงให้นักเรียนฟัง
๓. เดินดูนักเรียนเพื่อสอบถามความเข้าใจและให้ความช่วยเหลือตามความเหมาะสม



ใบงานที่ ๕

เรื่อง ห้องนอนของหนู

คำชี้แจง ให้นักเรียนวาดภาพแสดงตำแหน่ง ระยะะ ทิศ
ของสิ่งต่าง ๆ ตามที่กำหนดในห้องนอนของหนู



๑. ห้องนอนมีหน้าต่างอยู่ทางทิศเหนือและมีประตูอยู่ตรงข้าม
๒. เมื่อเข้ามาในห้องนอน มีเตียงนอนชิดผนังด้านซ้ายของห้อง
๓. บนเตียงมีแมวอยู่ ๑ ตัว
๔. ในห้องนอนมีโต๊ะซึ่งชิดผนังด้านขวาของห้อง
๕. บนโต๊ะมีหนังสือและคอมพิวเตอร์วางอยู่






เฉลย ใบงานที่ ๕

เรื่อง ห้องนอนของหนู


๑. ห้องนอนมีหน้าต่างอยู่ทางทิศเหนือและมีประตูอยู่ตรงข้าม
๒. เมื่อเข้ามาในห้องนอน มีเตียงนอนชิดผนังด้านซ้ายของห้อง
๓. บนเตียงมีแมวอยู่ ๑ ตัว
๔. ในห้องนอนมีโต๊ะซึ่งชิดผนังด้านขวาของห้อง
๕. บนโต๊ะมีหนังสือและโคมไฟวางอยู่





ความสัมพันธ์ของตำแหน่ง ระยะ ทิศ

สิ่งต่าง ๆ รอบตัวเราล้วนมีตำแหน่ง ระยะ และ
ทิศ ด้วยกันทั้งสิ้น ทุกสิ่งล้วนสัมพันธ์กัน การรู้
ตำแหน่ง ระยะ ทิศของสิ่งต่าง ๆ จะช่วยให้ไปถึง
จุดหมายได้ถูกต้องและรวดเร็ว





บทเรียนครั้งต่อไป

เรื่อง

แผนผังในห้องเรียน



สิ่งที่ต้องเตรียม

ใบงานที่ ๖

เรื่อง ห้องเรียนของฉัน

(สามารถดาวน์โหลดได้ที่ www.dltv.ac.th)