

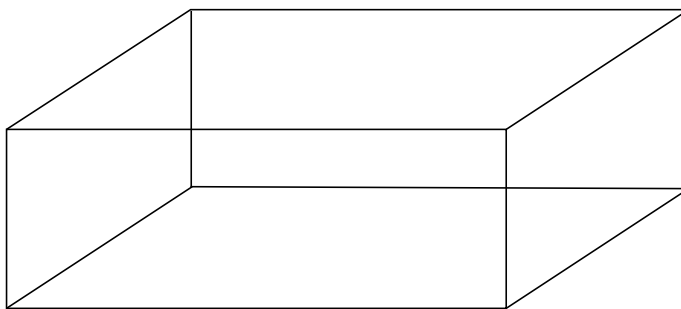


## ใบกิจกรรม 6.2



พิจารณาภาพแสดงปริซึมที่กำหนดให้แล้วเติมคำตอบ

1.



1.1) ภาพแสดงปริซึมชนิดใด

.....

1.2) มีหน้าตัดกี่หน้า หน้าตัดเป็นรูปเรขาคณิตสองมิติชนิดใด


.....

1.3) มีหน้าข้างกี่หน้า หน้าข้างเป็นรูปเรขาคณิตสองมิติชนิดใด

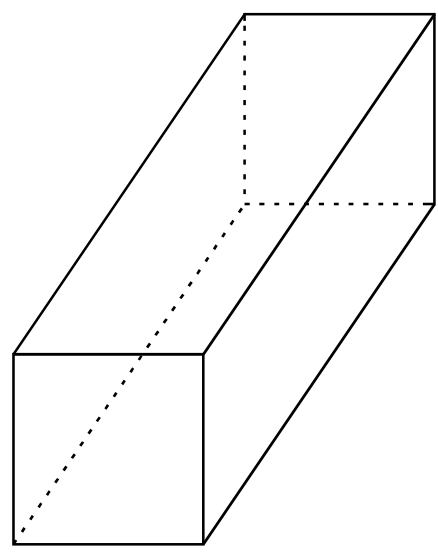
.....

1.4) จำนวนหน้าข้างที่เท่ากันทุกประการ

.....



2.



2.1) ภาพแสดงปริซึมชนิดใด

.....

2.2) มีหน้าตัดกี่หน้า หน้าตัดเป็นรูปเรขาคณิตสองมิติชนิดใด

.....

2.3) มีหน้าข้างกี่หน้า หน้าข้างเป็นรูปเรขาคณิตสองมิติชนิดใด

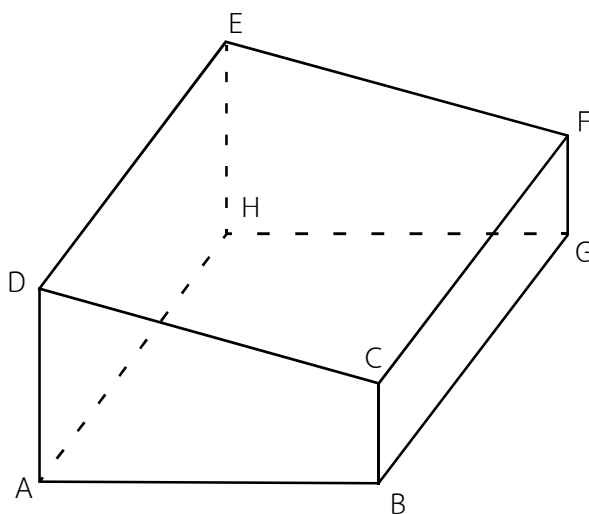
.....

2.4) จำนวนหน้าข้างที่เท่ากันทุกประการ

.....



3.



3.1) รูปเรขาคณิตสามมิตินี้แสดงรูปปริซึมชนิดใด

.....

3.2) มีหน้าตัดกี่หน้า หน้าตัดเป็นรูปเรขาคณิตสองมิติชนิดใด

.....


3.3) มีหน้าข้างกี่หน้า หน้าข้างเป็นรูปเรขาคณิตสองมิติชนิดใด

.....

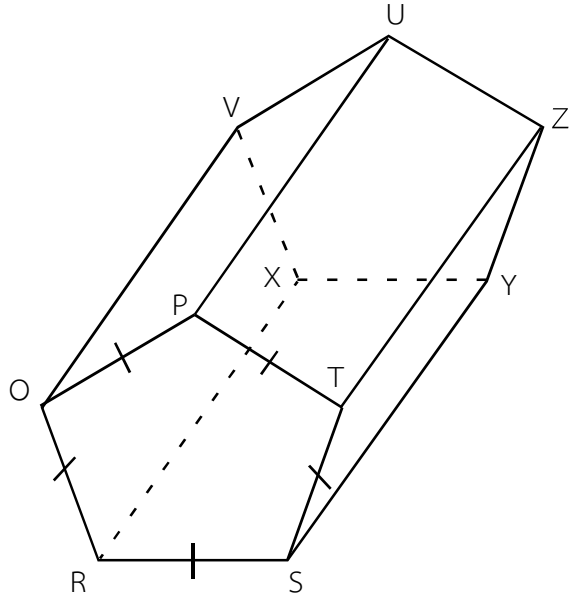
3.4) จำนวนหน้าข้างที่เท่ากันทุกประการ

.....

.....



4.



- 4.1) รูปเรขาคณิตสามมิตินี้แสดงรูปปริซึมชนิดใด  
.....
- 4.2) มีหน้าตัดกี่หน้า หน้าตัดเป็นรูปเรขาคณิตสองมิติชนิดใด  
.....
- 4.3) มีหน้าข้างกี่หน้า หน้าข้างเป็นรูปเรขาคณิตสองมิติชนิดใด  
.....
- 4.4) จำนวนหน้าข้างที่เท่ากันทุกประการ  
.....