

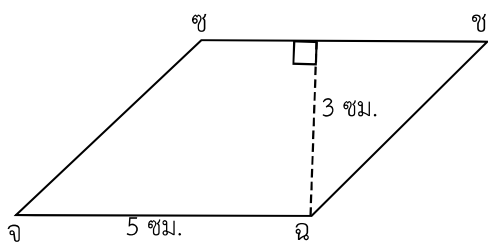


# แบบฝึกหัด 5.23



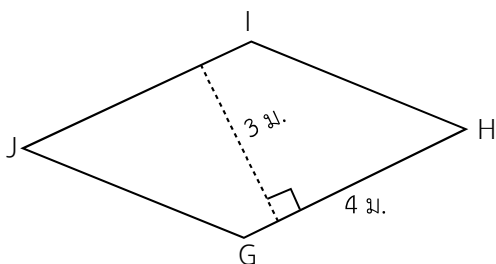
1. แสดงการหาพื้นที่ของรูปสี่เหลี่ยมด้านขนานและรูปสี่เหลี่ยมขนมเปียกปูน

1)



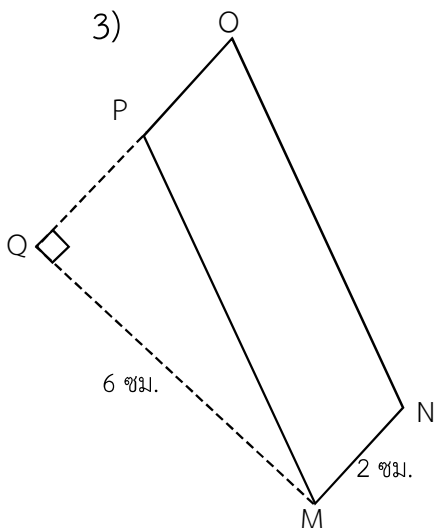
.....  
.....  
.....  
.....

2)



.....  
.....  
.....  
.....

3)

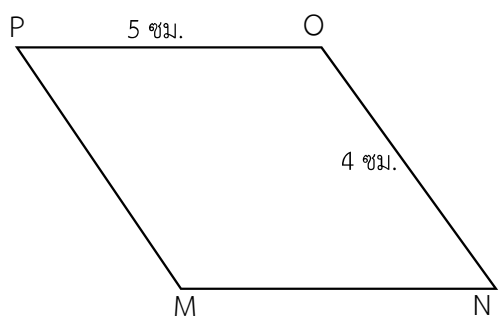


.....  
.....  
.....  
.....



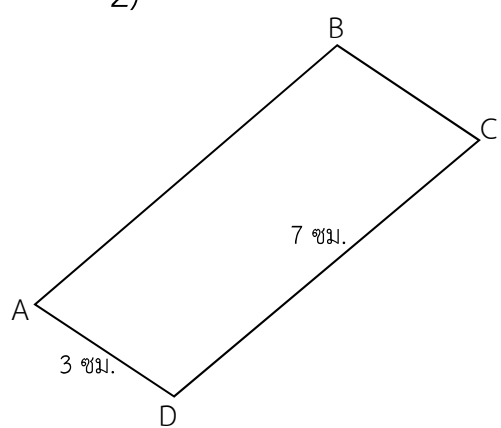
2. กำหนดฐานวัดความยาวของฐานและส่วนสูง แล้วแสดงวิธีหาพื้นที่ของรูปสี่เหลี่ยมด้านขนาน และรูปสี่เหลี่ยมขนมเปียกปูน

1)



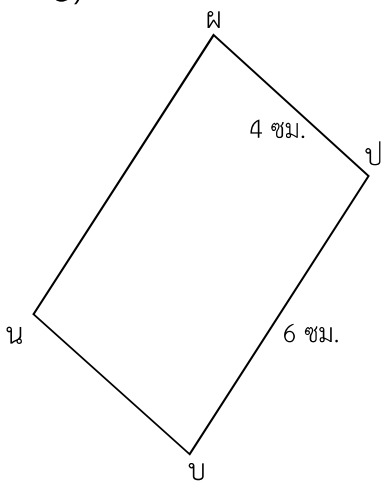
.....  
.....  
.....  
.....  
.....

2)



.....  
.....  
.....  
.....

3)



.....  
.....  
.....  
.....