



แบบฝึกหัด 5.12



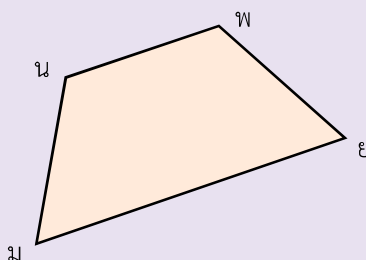
1. ลากเส้นทแยงมุม พร้อมบอกชื่อเส้นทแยงมุม

1)



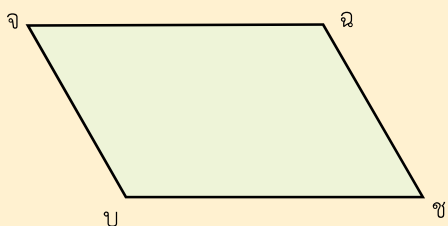
.....

2)



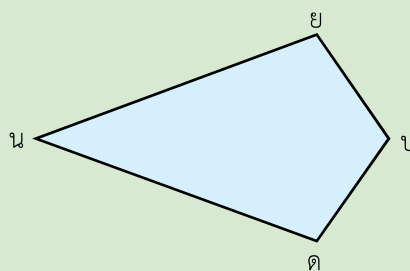
.....

3)



.....






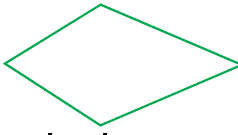
4)



.....




2. เขียน ✓ ในช่องว่างที่มีลักษณะสอดคล้องกับเส้นทแยงมุมของรูปสี่เหลี่ยมที่กำหนดให้


ชนิดของรูปสี่เหลี่ยม	เส้นทแยงมุมยาวเท่ากัน	เส้นทแยงมุมแบ่งครึ่งซึ่งกันและกัน	เส้นทแยงมุมตัดกันเป็นมุมฉาก
 รูปสี่เหลี่ยมจัตุรัส			
 รูปสี่เหลี่ยมผืนผ้า			
 รูปสี่เหลี่ยมขนมเปียกปูน			
 รูปสี่เหลี่ยมด้านขนาน			
 รูปสี่เหลี่ยมคางหมู			
 รูปสี่เหลี่ยมรูปว่าว			




3. ใช้รูปที่กำหนดให้ เติมคำตอบ



ก



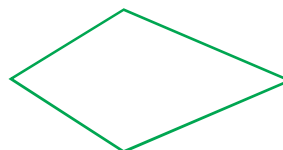
ข



ค



ง



จ

1) รูปสี่เหลี่ยมรูปใดมีเส้นทแยงมุมยาวเท่ากัน

ตอบ

2) รูปสี่เหลี่ยมรูปใดมีเส้นทแยงแบ่งครึ่งซึ่งกันและกัน

ตอบ

3) เส้นทแยงมุมของรูปสี่เหลี่ยมรูปใดตัดกันเป็นมุมฉาก

ตอบ