

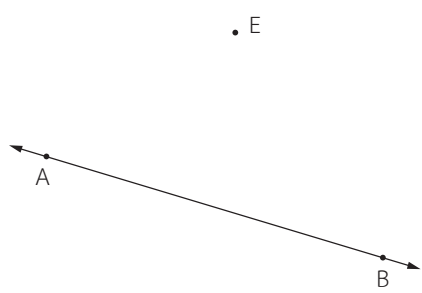


# แบบฝึกหัด 5.10

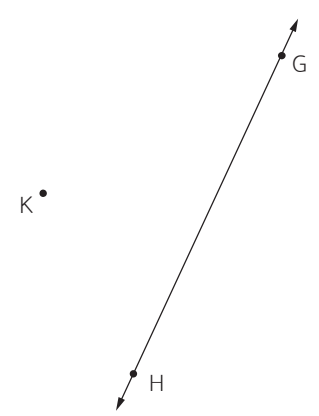


สร้างเส้นตรงตามข้อกำหนด โดยใช้สมบัติของเส้นขนานเกี่ยวกับมุมแย้ง

- 1. สร้าง  $\overleftrightarrow{CD}$  ให้ผ่านจุด E และขนานกับ  $\overleftrightarrow{AB}$



- 2. สร้าง  $\overleftrightarrow{DE}$  ให้ผ่านจุด K และขนานกับ  $\overleftrightarrow{GH}$






3. สร้าง  $\overleftrightarrow{DE}$  ให้ผ่านจุด L และขนานกับ  $\overleftrightarrow{MN}$

L.



4. สร้าง  $\overleftrightarrow{MN}$  ให้ผ่านจุด R และขนานกับ  $\overleftrightarrow{PQ}$



• R