

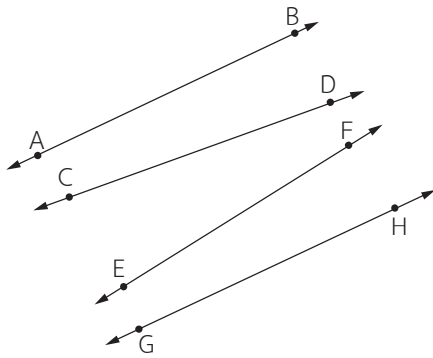


แบบฝึกหัด 5.2



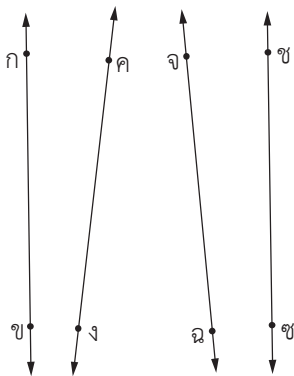
เส้นตรงหรือส่วนของเส้นตรงคู่ใดขนานกันเพราะเหตุใดแล้วเขียนสัญลักษณ์แสดงการขนาน

1.



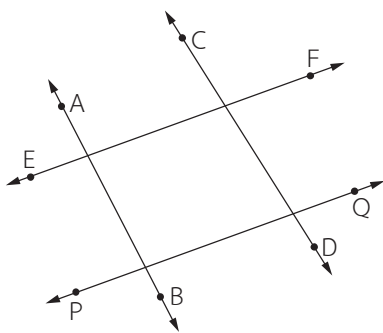
.....
.....

2.



.....
.....

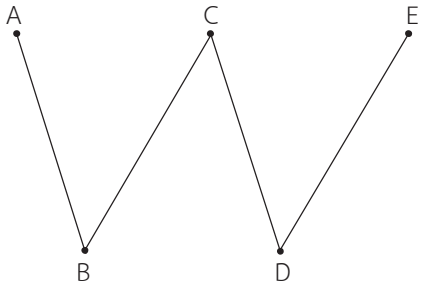
3.



.....
.....

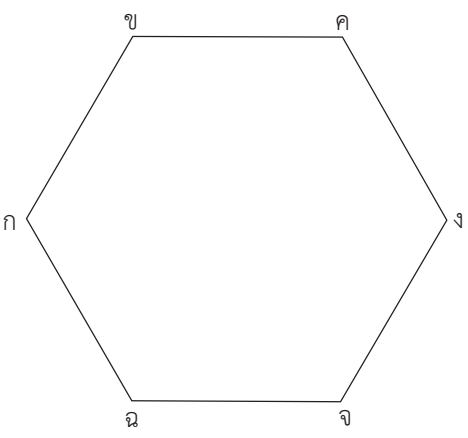


4.



.....
.....
.....

5.



.....
.....
.....
.....