








ใบงานที่ ๘ เรื่อง อ่านและเขียนแผนภูมิตามหัวข้อที่กำหนด
 หน่วยการเรียนรู้ที่ ๑๕ เรื่อง ศาสตร์ศิลป์การลา
 แผนการจัดการเรียนรู้ที่ ๘ เรื่อง การอ่านข้อมูลจากแผนภูมิ
 รายวิชาภาษาไทย รหัสวิชา ท๑๓๑๐๑ ภาคเรียนที่ ๒ ชั้นประถมศึกษาปีที่ ๓

คำชี้แจง ให้อ่านข้อมูลจากแผนภูมิรูปภาพที่กำหนดให้แล้วตอบคำถาม
 แผนภูมิรูปภาพแสดงจำนวนสับปะรดที่ขายในแต่ละวัน

วันอาทิตย์	
วันจันทร์	
วันอังคาร	
วันพุธ	
วันพฤหัสบดี	
วันศุกร์	
วันเสาร์	

กำหนดให้รูป ๑ รูป แทนจำนวนสับปะรด ๕ ผล

๑. วันใดขายสับปะรดได้มากที่สุด

ตอบ

๒. วันใดขายสับปะรดได้น้อยที่สุด

ตอบ

๓. วันใดขายสับปะรดได้เท่ากัน

ตอบ

๔. วันเสาร์ขายสับปะรดได้กี่ผล

ตอบ

๕. วันที่ขายสับปะรดได้มากเป็นอันดับสอง ขายได้กี่ผล

ตอบ

๖. สับปะรดที่ขายในวันจันทร์และวันอังคารรวมกันได้กี่ผล

ตอบ

๗. วันเสาร์ขายสับปะรดได้มากกว่าวันอังคารกี่ผล

ตอบ

๘. วันอังคารขายสับปะรดได้น้อยกว่าวันพุธกี่ผล

ตอบ

๙. วันที่ขายสับปะรดได้มากที่สุด ขายได้มากกว่าวันที่ขายสับปะรดได้น้อยที่สุด
กี่ผล

ตอบ

๑๐. รวมแล้วใน ๑ สัปดาห์ ขายสับปะรดได้กี่ผล

ตอบ

ชื่อ สกุล ชั้น เลขที่