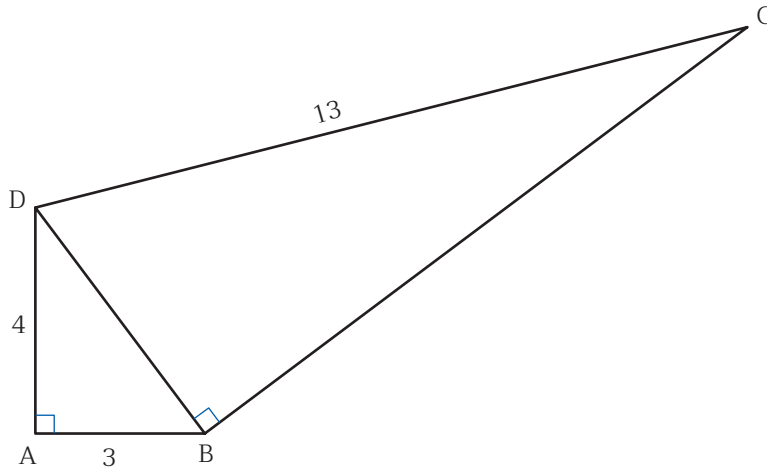




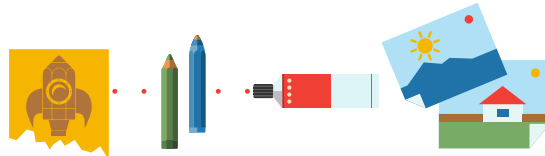
แบบฝึกหัด 2 : ทฤษฎีบทพีทาโกรัส (2)

คำชี้แจง ให้นักเรียนแสดงวิธีการแก้ปัญหาที่กำหนดให้ต่อไปนี้

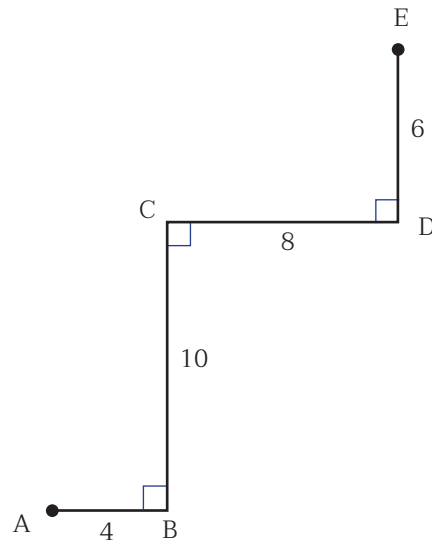
1. จากรูปที่กำหนดให้ จงหา BC



วิธีทำ



2. จากรูปที่กำหนดให้ จงหาระยะ AE



วิธีทำ

.....

.....

.....

.....

.....

.....

.....

.....



