

# ใบกิจกรรมที่ 4.1

## เส้นกริด 1

สมาชิกกลุ่มที่ .....

1. .... 2. ....  
3. .... 4. ....

คำชี้แจง ครูกำหนดจุด  $x, y$  ที่ละจุด ดังนี้

$x=1, y=1$

$x=2, y=1$

$x=1, y=2$

$x=2, y=2$

$x=3, y=1$

$x=4, y=1$

$x=3, y=2$

$x=4, y=2$


$x=1, y=3$

$x=2, y=3$

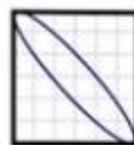
$x=1, y=4$

$x=2, y=4$

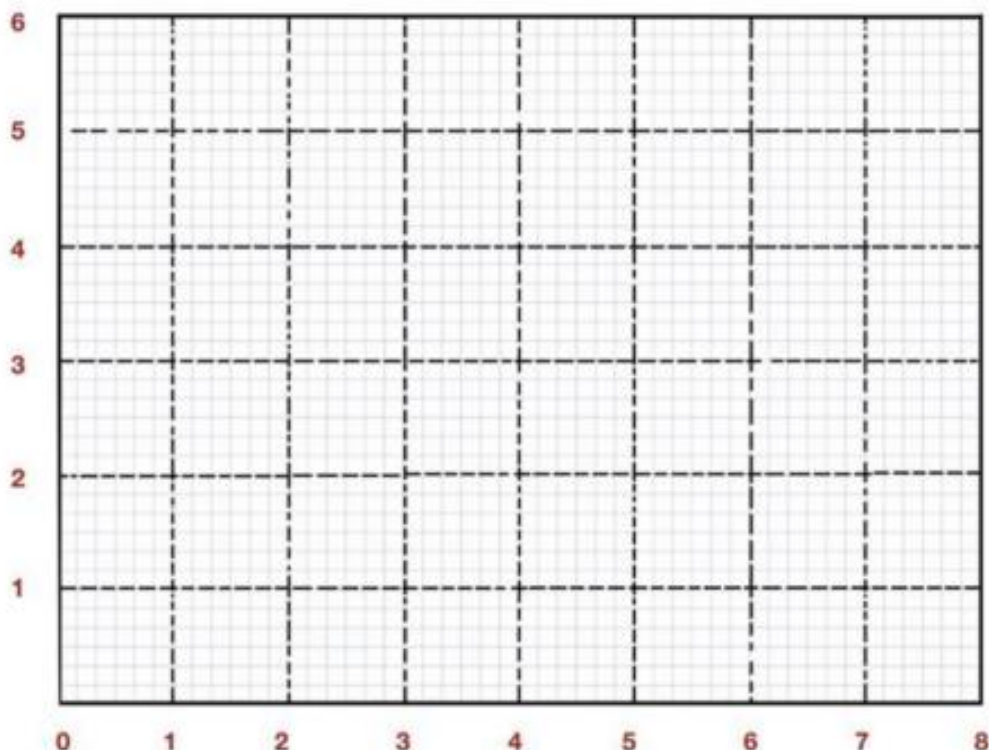
ให้นักเรียนทำการตรวจสอบเงื่อนไขโดยนำค่า  $x$  และ  $y$  มาแต่ละคู่มาบวกกัน แล้วตรวจสอบให้ได้ว่า เป็นเลขคู่ หรือเลขคี่ แล้วนักเรียนวาดภาพลงในเส้นกริดตามตำแหน่ง  $x, y$  ที่ครูกำหนด



เลขคู่



เลขคี่



# กลุ่ม.....

