
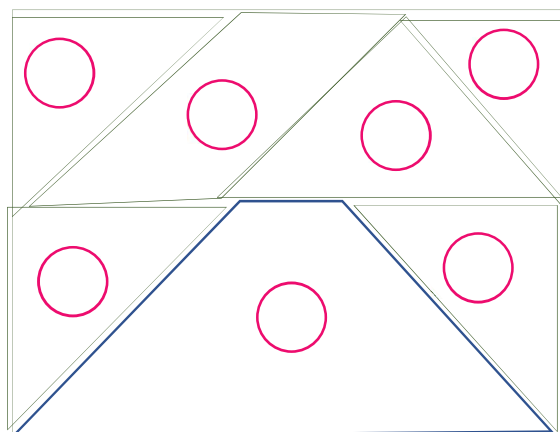


## ใบงาน ๐๖ : แบบฝึกหัด เรื่อง การแก้ปัญหาแบบมีเงื่อนไข

๑. เขียนหมายเลข ๑ - ๗ ที่เป็นชิ้นส่วนต่าง ๆ ลงในกรอบภาพ  
ด้านล่าง เพื่อประกอบเป็นภาพ



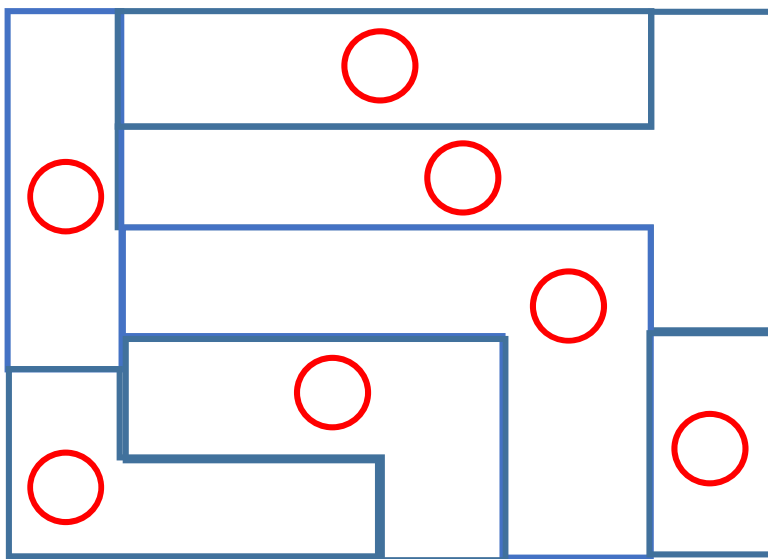
กรอบภาพ



๒. เติมหมายเลข ๑ - ๗ ลงใน  ที่อยู่บนกรอบภาพด้านล่างให้  
รูปภาพสัมพันธ์กัน



กรอบภาพ



ชื่อ-สกุล ..... ชั้น ..... เลขที่ .....  
วันที่ ..... เดือน ..... พ.ศ. ....

★ ★ ป. ๓ / ผ. ๓.๒-๐๖

๓. ใช้ดินสอขีดเส้นทางเดินไปจากจุดเริ่มต้นยังรูปสัตว์ที่ได้จากข้อ ๒

