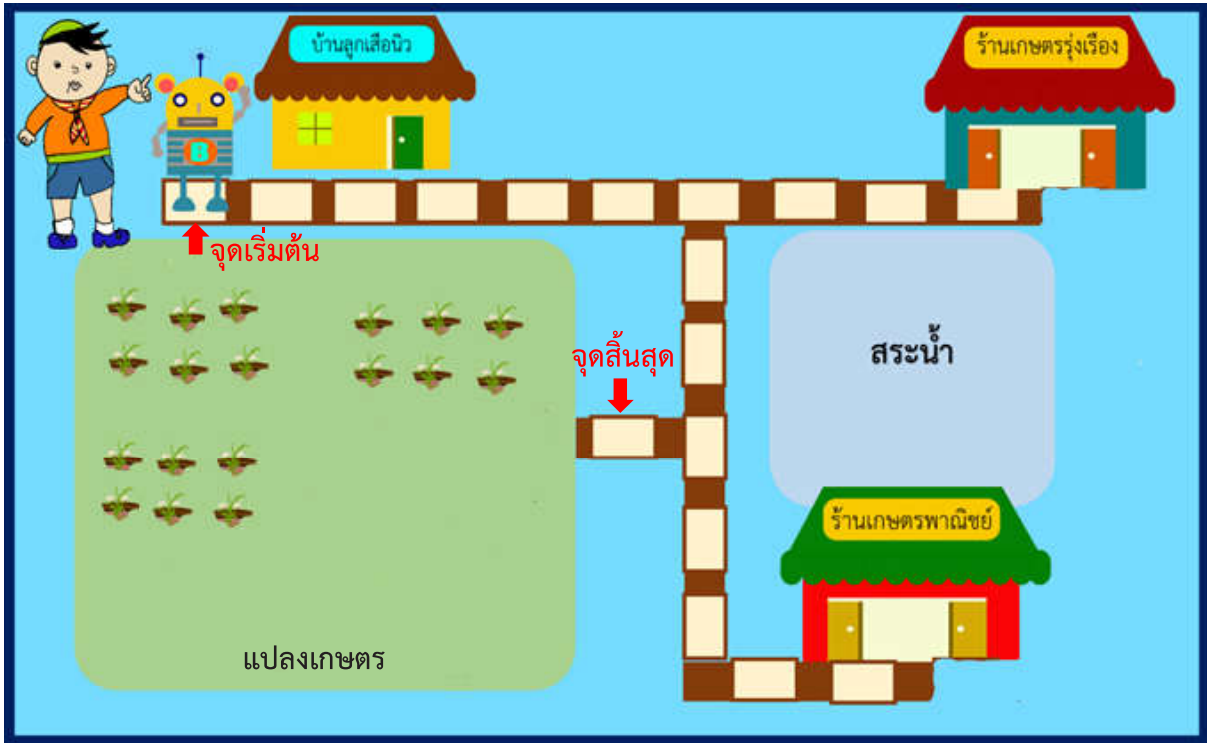





ชื่อ-สกุล ชั้น เลขที่
 วันที่ เดือน พ.ศ.

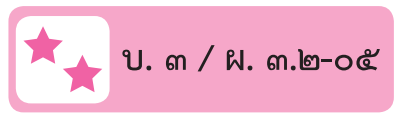
☆☆☆ บ. ๓ / ผ. ๓.๒-๐๕

ใบงาน ๐๕ : ซื่อเมล์ดพีช



| | | | | |
|------------|---|---|--|---|
| บัตรคำสั่ง |  |  |  |  |
| คำสั่ง | ลง | ซ้าย | ขวา | ขึ้น |
| ความหมาย | เดินลง ๑ ช่อง | เดินซ้าย ๑ ช่อง | เดินขวา ๑ ช่อง | เดินขึ้น ๑ ช่อง |

ชื่อ-สกุล ชั้น เลขที่
วันที่ เดือน พ.ศ.



สมมติว่านักเรียนเป็นลูกเสือนิว

๑. ให้ลูกเสือนิวเขียนคำสั่งให้หุ่นยนต์บีมอนไปซื้อเมล็ดพืชจากจุดเริ่มต้นไปยังร้านเกษตรรุ่งเรือง แล้วนำไปยังแปลงเกษตร ที่จุดสิ้นสุด คำสั่งที่ได้ คือ

.....
.....
.....
.....

จำนวนคำสั่งที่ใช้ทั้งหมด คำสั่ง

๒. ให้ลูกเสือนิวเขียนคำสั่งให้หุ่นยนต์บีมอนไปซื้อเมล็ดพืชจากจุดเริ่มต้นไปยังร้านเกษตรพาณิชย์ แล้วนำไปยังแปลงเกษตร ที่จุดสิ้นสุด คำสั่งที่ได้ คือ

.....
.....
.....
.....

จำนวนคำสั่งที่ใช้ทั้งหมด คำสั่ง

๓. ถ้าลูกเสือนิวต้องการใช้คำสั่งน้อยที่สุด ควรเลือกซื้อเมล็ดพืชจากร้าน

.....
.....
.....