


## ใบกิจกรรม 5.1

“เวลานี้เราทำอะไร”

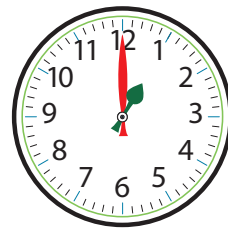
### 1. เขียนเข็มนาฬิกา บอกเวลา กิจกรรมที่ทำ และระยะเวลาที่ทำกิจกรรม

1)

เริ่มต้น



สิ้นสุด



แสดงเวลา \_\_\_\_\_ นาฬิกา \_\_\_\_\_ นาที

แสดงเวลา \_\_\_\_\_ นาฬิกา \_\_\_\_\_ นาที

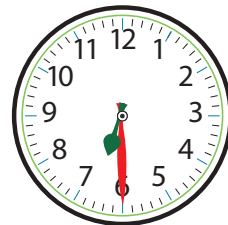
กิจกรรมที่ทำ \_\_\_\_\_ เป็นระยะเวลา \_\_\_\_\_

2)

เริ่มต้น



สิ้นสุด



แสดงเวลา \_\_\_\_\_ นาฬิกา \_\_\_\_\_ นาที

แสดงเวลา \_\_\_\_\_ นาฬิกา \_\_\_\_\_ นาที

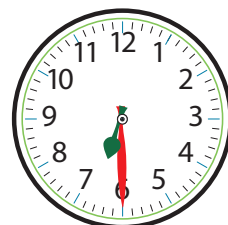
กิจกรรมที่ทำ \_\_\_\_\_ เป็นระยะเวลา \_\_\_\_\_

3)

เริ่มต้น



สิ้นสุด



แสดงเวลา \_\_\_\_\_ นาฬิกา \_\_\_\_\_ นาที

แสดงเวลา \_\_\_\_\_ นาฬิกา \_\_\_\_\_ นาที

กิจกรรมที่ทำ \_\_\_\_\_ เป็นระยะเวลา \_\_\_\_\_

2. จากกิจกรรมที่ทำในข้อ 1. เขียนเวลาและกิจกรรมที่ทำ เรียงตามลำดับ  
เวลาก่อนหลัง

เวลาเริ่มต้น	เวลาสิ้นสุด	กิจกรรมที่ทำ	ระยะเวลาทำ กิจกรรม
<b>ตัวอย่าง</b>			
9 นาฬิกา 0 นาที	11 นาฬิกา 0 นาที	ว่ายน้ำ	2 ชั่วโมง

เขียนคำตอบในช่องว่าง

- 1) กิจกรรมที่ใช้เวลาทำน้อยที่สุด \_\_\_\_\_
- 2) กิจกรรมที่ใช้เวลาทำมากที่สุด \_\_\_\_\_