

รายวิชาคณิตศาสตร์

รหัสวิชา ค12101

ชั้นประถมศึกษาปีที่ 2

เรื่อง ร่วมคิด ร่วมทำ
“เวลานี้เราทำอะไร”

ครูผู้สอน ครูพีระพงษ์ เย็นทรวง

ครูเสาวลักษณ์ พันธุ์มอญ





ร่วมคิด ร่วมทำ
“เวลานี้เราทำอะไร”





จุดประสงค์การเรียนรู้

1. เพื่อทบทวนสิ่งที่ได้เรียนรู้
2. นักเรียนสามารถให้เหตุผลได้
3. นักเรียนสามารถสื่อสารและสื่อความหมายทางคณิตศาสตร์

กิจกรรม 5.1

เรื่อง “เวลานี้เราทำอะไร”





ใบกิจกรรมที่ 5.1


(ดาวน์โหลดได้ที่ www.dltv.ac.th)

ใบกิจกรรม 5.1


“เวลานี้เราทำอะไร”

1. เขียนเข็มนาฬิกา บอกเวลา กิจกรรมที่ทำ และระยะเวลาที่ทำกิจกรรม

1) เริ่มต้น สิ้นสุด




แสดงเวลา _____ นาฬิกา _____ นาที




แสดงเวลา _____ นาฬิกา _____ นาที

กิจกรรมที่ทำ _____ เป็นระยะเวลา _____

2) เริ่มต้น สิ้นสุด




แสดงเวลา _____ นาฬิกา _____ นาที




แสดงเวลา _____ นาฬิกา _____ นาที

กิจกรรมที่ทำ _____ เป็นระยะเวลา _____

3) เริ่มต้น สิ้นสุด



แสดงเวลา _____ นาฬิกา _____ นาที



แสดงเวลา _____ นาฬิกา _____ นาที

กิจกรรมที่ทำ _____ เป็นระยะเวลา _____

2. จากกิจกรรมที่ทำในข้อ 1. เขียนเวลาและกิจกรรมที่ทำ เรียงตามลำดับเวลาก่อนหลัง

เวลาเริ่มต้น	เวลาสิ้นสุด	กิจกรรมที่ทำ	ระยะเวลาทำกิจกรรม
ตัวอย่าง 9 นาฬิกา 0 นาที	11 นาฬิกา 0 นาที	ว่ายน้ำ	2 ชั่วโมง

เขียนคำตอบในช่องว่าง

1) กิจกรรมที่ใช้เวลาน้อยที่สุด _____

2) กิจกรรมที่ใช้เวลาทำมากที่สุด _____

ให้นักเรียน

ปฏิบัติกิจกรรมและบันทึกผล




ในใบกิจกรรมที่ 5.1 ข้อที่ 1. **ดังนี้**








ข้อที่ 1)

- 1) ให้นักเรียนทุกคนอ่านเวลาพร้อมกัน โดยเวลาที่กำหนดเป็นเวลาใน
ช่วงเวลากลางวัน ดังนี้






- 2) ให้นักเรียนเลือกภาพนาฬิกา 1 ภาพ เขียนเข็มนาฬิกา และบอกเวลา เพื่อแสดงเวลาเริ่มต้นของกิจกรรม ในใบกิจกรรม 5.1 ข้อ 1)
- 3) ระบุกิจกรรมที่ทำในเวลาดังกล่าว พร้อมทั้งกำหนดเวลาสิ้นสุดกิจกรรม (นักเรียนกำหนดเอง)
- 4) เขียนเข็มนาฬิกา และบอกเวลา เพื่อแสดงเวลาสิ้นสุดกิจกรรม
- 5) เขียนระยะเวลาที่ทำกิจกรรม


ตัวอย่าง การบันทึกใบกิจกรรม ข้อที่ 1)

เริ่มต้น




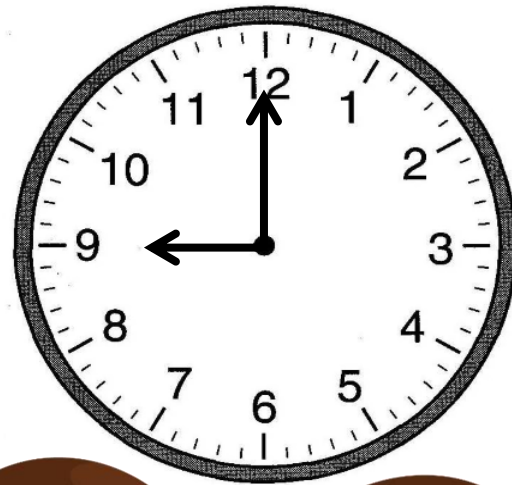

แสดงเวลา 9 นาฬิกา 0 นาที
กิจกรรมที่ทำ ว่ายนํ้า.

สิ้นสุด



แสดงเวลา 11 นาฬิกา 0 นาที
เป็นระยะเวลา 2 ชั่วโมง.

นักเรียนลงมือปฏิบัติ ในข้อที่ 1)





ข้อที่ 2)

20 : 30

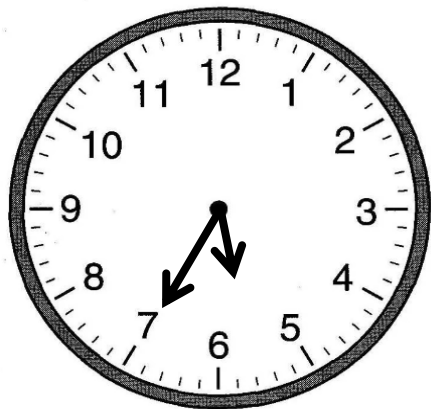
18 : 05

19 : 15

- 1) ให้นักเรียนเลือกภาพนาฬิกา 1 ภาพ เขียนเข็มนาฬิกา และบอกเวลา เพื่อแสดงเวลาสิ้นสุดของกิจกรรม ในใบกิจกรรม 5.1 ข้อ 2)
- 2) ระบุกิจกรรมที่ทำในเวลาดังกล่าว พร้อมทั้งกำหนดเวลาเริ่มต้นกิจกรรม (นักเรียนกำหนดเอง)
- 3) เขียนเข็มนาฬิกา และบอกเวลา เพื่อแสดงเวลาเริ่มต้นกิจกรรม
- 4) เขียนระยะเวลาที่ทำกิจกรรม

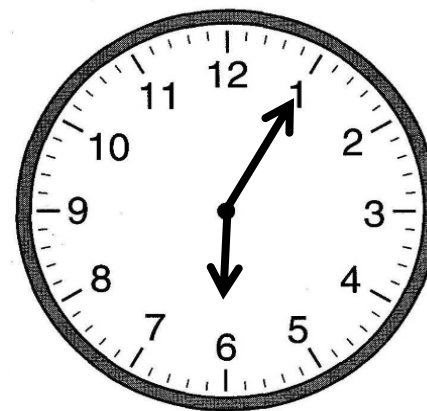
ตัวอย่าง การบันทึกใบกิจกรรม ข้อที่ 2)

เริ่มต้น



แสดงเวลา 17 นาฬิกา 35 นาที
กิจกรรมที่ทำ ทำการบ้าน .

สิ้นสุด



แสดงเวลา 18 นาฬิกา 5 นาที
เป็นระยะเวลา 30 นาที .


นักเรียนลงมือปฏิบัติ ในข้อที่ 2)

20 : 30

18 : 05

19 : 15





ข้อที่ 3)

นอน


ทำงานบ้าน

ดูข่าว

- 1) ให้นักเรียนเลือกป้ายแสดงกิจกรรมที่ทำ แล้วบันทึกลงในใบกิจกรรม 5.1 ข้อ 3)
- 2) นักเรียนกำหนดเวลาเริ่มต้นและสิ้นสุดของกิจกรรมเอง
- 3) เขียนเข็มนาฬิกา และบอกเวลา เพื่อแสดงเวลาเริ่มต้นและสิ้นสุดกิจกรรม
- 4) เขียนระยะเวลาที่ทำกิจกรรม

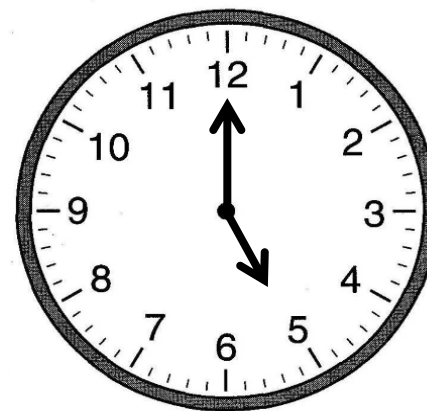
ตัวอย่าง การบันทึกใบกิจกรรม ข้อ 3)

เริ่มต้น



แสดงเวลา 20 นาฬิกา 0 นาที
กิจกรรมที่ทำ นอน.

สิ้นสุด



แสดงเวลา 5 นาฬิกา 0 นาที
เป็นระยะเวลา 9 ชั่วโมง.

นักเรียนลงมือปฏิบัติ ในข้อที่ 3)

นอน

ทำงานบ้าน

ดูข่าว



จากกิจกรรมที่ทำในข้อ 1) 2) และ 3) ให้นักเรียนเขียน
เวลาและกิจกรรมที่ทำเรียงตามลำดับเวลาจากกลางวัน
ไปกลางคืน ลงในตารางบันทึก ดังนี้





ตัวอย่างการบันทึก

เวลาเริ่มต้น	เวลาสิ้นสุด	กิจกรรมที่ทำ	ระยะเวลา ทำกิจกรรม
9 นาฬิกา	11 นาฬิกา	ว่ายน้ำ	2 ชั่วโมง
17 นาฬิกา 35 นาที	18 นาฬิกา 5 นาที	ทำการบ้าน	30 นาที
20 นาฬิกา	5 นาฬิกา	นอน	9 ชั่วโมง

เวลาเริ่มต้น	เวลาสิ้นสุด	กิจกรรมที่ทำ	ระยะเวลา ทำกิจกรรม
9 นาฬิกา	11 นาฬิกา	ว่ายน้ำ	2 ชั่วโมง
17 นาฬิกา 35 นาที	18 นาฬิกา 5 นาที	ทำการบ้าน	30 นาที
20 นาฬิกา	5 นาฬิกา	นอน	9 ชั่วโมง

ตอบคำถามต่อไปนี้

1. กิจกรรมใดใช้เวลาทำน้อยที่สุด ทำการบ้าน

2. กิจกรรมใดใช้เวลาทำมากที่สุด นอน





ให้นักเรียนลงมือปฏิบัติ

