

# รายวิชาคณิตศาสตร์

รหัสวิชา ค12101

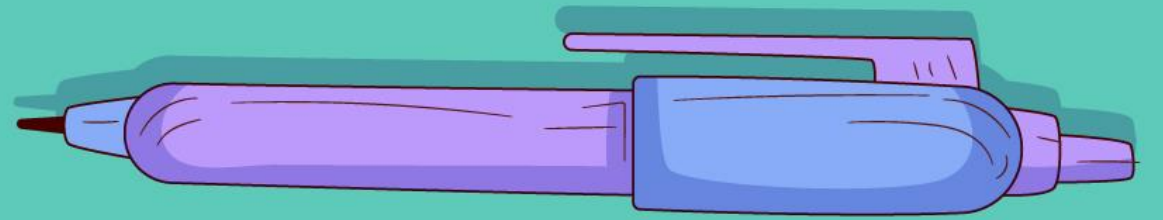
ชั้นประถมศึกษาปีที่ 2

เรื่อง การอ่านวัน เดือน ปี ที่เขียนแบบย่อ

ครูผู้สอน ครูพีระพงษ์ เย็นทรวง

ครูเสาวลักษณ์ พันธุ์มอญ





การอ่านวัน เดือน ปี

ที่เขียนแบบย่อ





## จุดประสงค์การเรียนรู้

1. นักเรียนสามารถอ่านวัน เดือน ปี ที่เขียนแบบย่อ
2. นักเรียนสามารถให้เหตุผลได้
3. นักเรียนสามารถสื่อสารและสื่อความหมายทางคณิตศาสตร์



# ให้นักเรียนช่วยกันเติมวันที่ให้สมบูรณ์

เดือนธันวาคม พ.ศ. 2564

อาทิตย์	จันทร์	อังคาร	พุธ	พฤหัสบดี	ศุกร์	เสาร์
			1	2	3	4
5	6	7	8	9	10 วันรัฐธรรมนูญ	11
12	13	14 ไปหัวหิน	15 ไปหัวหิน	16 ไปหัวหิน	17	18
19	20	21	22	23	24	25
26	27 ทำฟัน	28	29	30	31	

เดือนธันวาคม พ.ศ. 2564						
อาทิตย์	จันทร์	อังคาร	พุธ	พฤหัสบดี	ศุกร์	เสาร์
			1	2	3	4
5	6	7	8	9	10 วันรัฐธรรมนูญ	11
12	13	14 ไปหัวหิน	15 ไปหัวหิน	16 ไปหัวหิน	17	18
19	20	21	22	23	24	25
26	27 ทำฟัน	28	29	30	31	

เดือนที่ปรากฏในปฏิทินนี้คือเดือนอะไร ปี พ.ศ. อะไร



เดือนธันวาคม พ.ศ. 2564

เดือนธันวาคม พ.ศ. 2564						
อาทิตย์	จันทร์	อังคาร	พุธ	พฤหัสบดี	ศุกร์	เสาร์
			1	2	3	4
5	6	7	8	9	10 วันรัฐธรรมนูญ	11
12	13	14 ไปหัวหิน	15 ไปหัวหิน	16 ไปหัวหิน	17	18
19	20	21	22	23	24	25
26	27 ทำฟัน	28	29	30	31	

วันเสาร์แรกของเดือนนี้คือวันที่เท่าไร



วันที่ 4

เดือนธันวาคม พ.ศ. 2564						
อาทิตย์	จันทร์	อังคาร	พุธ	พฤหัสบดี	ศุกร์	เสาร์
			1	2	3	4
5	6	7	8	9	10 วันรัฐธรรมนูญ	11
12	13	14 ไปหัวหิน	15 ไปหัวหิน	16 ไปหัวหิน	17	18
19	20	21	22	23	24	25
26	27 ทำฟัน	28	29	30	31	

เดือนนี้มีวันศุกร์กี่วัน



5 วัน

เดือนธันวาคม พ.ศ. 2564						
อาทิตย์	จันทร์	อังคาร	พุธ	พฤหัสบดี	ศุกร์	เสาร์
			1	2	3	4
5	6	7	8	9	10 วันรัฐธรรมนูญ	11
12	13	14 ไปหัวหิน	15 ไปหัวหิน	16 ไปหัวหิน	17	18
19	20	21	22	23	24	25
26	27 ทำฟัน	28	29	30	31	

เจ้าของปฎิทินไปเที่ยวหัวหินกี่วัน วันอะไรและวันที่เท่าไรบ้าง

3 วัน คือ วันอังคารที่ 14 วันพุธที่ 15 วันพฤหัสบดีที่ 16



เดือนธันวาคม พ.ศ. 2564						
อาทิตย์	จันทร์	อังคาร	พุธ	พฤหัสบดี	ศุกร์	เสาร์
			1	2	3	4
5	6	7	8	9	10 วันรัฐธรรมนูญ	11
12	13	14 ไปหัวหิน	15 ไปหัวหิน	16 ไปหัวหิน	17	18
19	20	21	22	23	24	25
26	27 ทำฟัน	28	29	30	31	

เจ้าของปฏิทินต้องไปทำฟันวันอะไร วันที่เท่าไร เดือนอะไร



วันจันทร์ ที่ 27 ธันวาคม พ.ศ. 2564

เดือนธันวาคม พ.ศ. 2564						
อาทิตย์	จันทร์	อังคาร	พุธ	พฤหัสบดี	ศุกร์	เสาร์
			1	2	3	4
5	6	7	8	9	10 วันรัฐธรรมนูญ	11
12	13	14 ไปหัวหิน	15 ไปหัวหิน	16 ไปหัวหิน	17	18
19	20	21	22	23	24	25
26	27 ทำฟัน	28	29	30	31	1

วันแรกของเดือนถัดไปคือวันอะไร  
วันที่เท่าไร เดือนอะไร ปี พ.ศ. อะไร



วันเสาร์ที่ 1 เดือนมกราคม พ.ศ. 2565

เดือนธันวาคม พ.ศ. 2564						
อาทิตย์	จันทร์	อังคาร	พุธ	พฤหัสบดี	ศุกร์	เสาร์
		30	1	2	3	4
5	6	7	8	9	10 วันรัฐธรรมนูญ	11
12	13	14 ไปหัวหิน	15 ไปหัวหิน	16 ไปหัวหิน	17	18
19	20	21	22	23	24	25
26	27 ทำฟัน	28	29	30	31	

วันสุดท้ายของเดือนก่อนหน้าคือวันอะไร

วันที่เท่าไร เดือนอะไร ปี พ.ศ. อะไร



วันอังคาร ที่ 30 เดือนพฤศจิกายน พ.ศ. 2564

เดือนธันวาคม พ.ศ. 2564						
อาทิตย์	จันทร์	อังคาร	พุธ	พฤหัสบดี	ศุกร์	เสาร์
			1	2	3	4
5	6	7	8	9	10 วันรัฐธรรมนูญ	11
12	13	14 ไปหัวหิน	15 ไปหัวหิน	16 ไปหัวหิน	17	18
19	20	21	22	23	24	25
26	27 ทำฟัน	28	29	30	31	

ถ้าหมอเขียนใบนัดให้มาพบอีกครั้ง ดังนี้

30 ธ.ค. 64

คนไข้ต้องไปพบหมออีกครั้งในวันที่เท่าไร เดือนอะไร ปี พ.ศ. อะไร



## วิธีการอ่านวัน เดือน ปี ที่เขียนแบบย่อ

เช่น 30 ธ.ค. 64 หมายถึง วันที่ 30 เดือนธันวาคม พ.ศ. 2564

30/12/64 หมายถึง วันที่ 30 เดือนที่ 12 ปี พ.ศ. 2564

เดือนที่ 12 คือเดือนอะไร ธันวาคม

ดังนั้น 30/12/64 เป็น วันที่ 30 เดือนธันวาคม พ.ศ. 2564



การเขียน วัน เดือน ปี แบบย่อ ในลักษณะอื่น เช่น

30-12-64 หรือ 30.12.64 หรือ 30 12 64

หมายถึง วันที่ 30 เดือนธันวาคม พ.ศ. 2564

วันที่ 27 ธันวาคม พ.ศ. 2564


เขียนแสดงแบบย่อได้อย่างไร

27 ธ.ค. 64 หรือ 27/12/64

สถานการณ์เกี่ยวกับ  
การเขียนวันที่ เดือน ปี แบบย่อ







# สถานการณ์ที่ 1

ป่าแดง ( ข้าวแกง )

ปิดให้บริการ



5 มิ.ย. 64




ร้านป่าแดงหยุดวันที่เท่าไร  
เดือนอะไร ปี พ.ศ. อะไร



วันที่ 5 มิถุนายน พ.ศ. 2564






## สถานการณ์ที่ 2



ถ้าฟ้าไปซื้อของที่ร้านนี้  
ในวันที่ 29 พฤษภาคม พ.ศ. 2564  
ฟ้าจะได้รับส่วนลดหรือไม่

ได้ เพราะยังไม่ถึงวันสุดท้าย  
ของการลดราคา



## สถานการณ์ที่ 2




วันสุดท้ายของการลดราคา  
เป็นวันที่เท่าไร เดือนอะไร  
ปี พ.ศ. อะไร



วันที่ 31 พฤษภาคม พ.ศ. 2564






## สถานการณ์ที่ 2




ร้านนี้ลดราคาฉลอง  
เปิดสาขาใหม่เป็นเวลา 2 เดือน



2 เดือน







## สถานการณ์ที่ 2



ทราบได้อย่างไร

ลดราคาในเดือนเมษายน  
และเดือนพฤษภาคม






## สถานการณ์ที่ 3




ผลิต 29/05/64  
หมดอายุ 04/06/64



ขนมปังถุงนี้ผลิตเมื่อไร



วันที่ 29 พฤษภาคม พ.ศ. 2564



## สถานการณ์ที่ 3




ผลิต 29/05/64  
หมดอายุ 04/06/64

ขนมปังถุงนี้หมดอายุเมื่อไร



วันที่ 4 มิถุนายน พ.ศ. 2564



## สถานการณ์ที่ 3




ผลิต 29/05/64  
หมดอายุ 04/06/64

แม่ซื้อขนมปังถุงนี้  
เมื่อวันที่ 1 มิถุนายน พ.ศ. 2564  
แม่จะกินขนมปังถุงนี้ในวันที่เท่าไรได้บ้าง

วันที่ 1 วันที่ 2 วันที่ 3  
และวันที่ 4 มิถุนายน พ.ศ. 2564





## สถานการณ์ที่ 3



ผลิต 29/05/64  
หมดอายุ 04/06/64

ถ้าวันนี้เป็นวันที่ 6 มิถุนายน พ.ศ. 2564  
แก้วต่ายยังกินขนมปังถุงนี้ได้หรือไม่  
เพราะเหตุใด

**กินไม่ได้**  
เพราะ ขนมปังหมดอายุแล้ว



# แบบฝึกหัด 5.13





## กิจกรรมของปลายทางในวันนี้

### คำชี้แจงกิจกรรมนักเรียน

1. อ่านคำสั่งของแบบฝึกหัด 5.13
2. ทำแบบฝึกหัด 5.13
3. ตรวจสอบคำตอบ

### คำชี้แจงกิจกรรมครู

1. แจกแบบฝึกหัด 5.13
2. อธิบายคำสั่งของแบบฝึกหัด 5.13
3. ตรวจสอบความเข้าใจของผู้เรียน



# 1 พิจารณาภาพแล้วตอบคำถาม



1) ขนมสาเล่ผลิตเมื่อใด

ตอบ .....

2) ขนมสาเล่หมดอายุเมื่อใด

ตอบ .....

3) ขนมสาเล่รับประทานวันที่เท่าไรได้บ้าง

ตอบ .....

4) ถ้าซื้อขนมสาเล่วันที่ 19 ตุลาคม ขนมสาเล่รับประทานได้กี่วัน

ตอบ .....

2 พิจารณาการจัดกิจกรรมงานท่องเที่ยวไทย แล้วตอบคำถาม

งานท่องเที่ยวไทย  
ที่ไบเทคบางนา  
ระหว่างวันที่ 9 – 15 พฤศจิกายน 2562

1) จัดงานท่องเที่ยวไทยในวันที่เท่าไรบ้าง

ตอบ .....

2) วันที่ 3 ของการจัดงานมีรายการแสดงโขน ซึ่งตรงกับวันที่เท่าไร

ตอบ .....

งานท่องเที่ยวไทย  
ที่ไบเทคบางนา  
ระหว่างวันที่ 9 – 15 พฤศจิกายน 2562

3) วันสุดท้ายของการจัดงานมีการจับฉลากเพื่อชิงรางวัล ตรงกับวันที่เท่าไร

ตอบ .....

4) ก่อนวันจัดงาน 1 วัน แจกบัตรเข้าชมงานฟรี ซึ่งตรงกับวันที่เท่าไร

ตอบ .....

3

## พิจารณาวิธีการเพาะเมล็ดทานตะวันอ่อน แล้วตอบคำถาม

### การเพาะเมล็ดทานตะวัน

การเพาะเมล็ดทานตะวัน เริ่มวันที่ 18 ธันวาคม 2562

วันแรก แخذเมล็ดทานตะวันอ่อน

วันที่สอง เพาะเมล็ดทานตะวันอ่อนในกระบะ

วันที่สาม เมล็ดทานตะวันเริ่มมีรากโผล่ออกจากเมล็ด รดน้ำเข้าเย็น

วันที่ห้า ต้นทานตะวันอ่อนสูงประมาณ 3 – 5 เซนติเมตร

วันที่เจ็ด ต้นทานตะวันอ่อนสามารถเก็บเกี่ยวมากินได้

1) วันที่สามของการเพาะเมล็ดทานตะวันอ่อน ตรงกับวันที่เท่าไร

ตอบ .....

## การเพาะเมล็ดทานตะวัน

การเพาะเมล็ดทานตะวัน เริ่มวันที่ 18 ธันวาคม 2562

วันแรก แخذเมล็ดทานตะวันอ่อน

วันที่สอง เพาะเมล็ดทานตะวันอ่อนในกระบะ

วันที่สาม เมล็ดทานตะวันเริ่มมีรากโผล่ออกจากเมล็ด รดน้ำเข้าเย็น

วันที่ห้า ต้นทานตะวันอ่อนสูงประมาณ 3 – 5 เซนติเมตร

วันที่เจ็ด ต้นทานตะวันอ่อนสามารถเก็บเกี่ยวมากินได้

2) ต้นทานตะวันอ่อนสูงประมาณ 3 – 5 เซนติเมตร ตรงกับวันที่เท่าไร

ตอบ .....



## การเพาะเมล็ดทานตะวัน

การเพาะเมล็ดทานตะวัน เริ่มวันที่ 18 ธันวาคม 2562

วันแรก แخذเมล็ดทานตะวันอ่อน

วันที่สอง เพาะเมล็ดทานตะวันอ่อนในกระบะ

วันที่สาม เมล็ดทานตะวันเริ่มมีรากโผล่ออกจากเมล็ด รดน้ำเข้าเย็น

วันที่ห้า ต้นทานตะวันอ่อนสูงประมาณ 3 – 5 เซนติเมตร

วันที่เจ็ด ต้นทานตะวันอ่อนสามารถเก็บเกี่ยวมากินได้

3) ต้นทานตะวันอ่อนเริ่มกินได้วันที่เท่าไร

ตอบ .....



## สรุป

การอ่านวัน เดือน ปี ที่เขียนแบบย่อ โดยอ่านวันที่จากตัวเลขหนึ่ง หรือสองตัวแรก อ่านเดือนจากตัวเลขสองตัวถัดมาหรือจากอักษรย่อ ของเดือน และอ่านปีพุทธศักราชจากตัวเลขสองตัวสุดท้าย

เช่น 11/04/64 หมายถึง วันที่ 11 เมษายน พ.ศ. 2564  
5 มี.ค. 63 หมายถึง วันที่ 5 มีนาคม พ.ศ. 2563





## บทเรียนครั้งต่อไป

เรื่อง โจทย์ปัญหาเกี่ยวกับเวลา (วัน เดือน ปี)  
และโจทย์ปัญหาเกี่ยวกับการอ่านปฏิทิน (1)

สิ่งที่ต้องเตรียม

แบบฝึกหัด 5.14

สามารถดาวน์โหลดได้ที่ [www.dltv.ac.th](http://www.dltv.ac.th)

