

รายวิชาคณิตศาสตร์

รหัสวิชา ค12101

ชั้นประถมศึกษาปีที่ 2

เรื่อง การบอกเวลาเป็นนาฬิกาและนาที
ด้วยนาฬิกาแบบตัวเลข

ครูผู้สอน ครูพีระพงษ์ เย็นทรวง

ครูสาวลักษณ์ พันธุ์มอญ





**การบอกเวลาเป็นนาฬิกาและนาฬิกา
ด้วยนาฬิกาแบบตัวเลข**

จุดประสงค์การเรียนรู้

1. นักเรียนสามารถบอกเวลาเป็นนาฬิกาและนาทีด้วยนาฬิกาแบบตัวเลข
2. นักเรียนสามารถสื่อสารและสื่อความหมายทางคณิตศาสตร์







ทบทวน

ให้นักเรียนเติมคำบอกเวลาที่กำหนดให้
ในตารางแสดงภาพนาฬิกาให้ถูกต้อง



เวลา
กลางวัน

เวลา
กลางคืน

9 นาฬิกา 35 นาที

14 นาฬิกา

20 นาฬิกา

15 นาฬิกา 55 นาที

2 นาฬิกา

8 นาฬิกา

21 นาฬิกา 35 นาที

3 นาฬิกา 55 นาที

นาฬิกาแบบตัวเลข





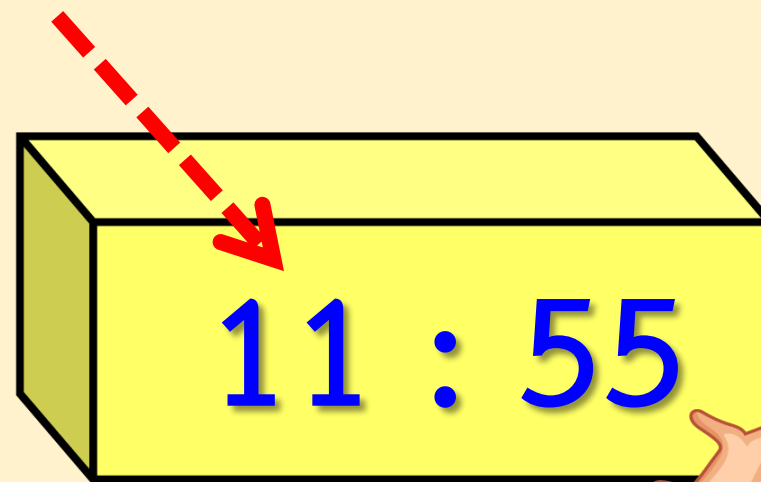
11 : 55

นาฬิกานี้แสดงเวลาใด



11 นาฬิกา 55 นาที

ตัวเลขหน้าเครื่องหมาย :
บอกเวลาเป็นนาฬิกา





ตัวเลขหลังเครื่องหมาย :
บอกเวลาเป็นนาที

11 : 55



15 : 10

นาฬิกานี้แสดงเวลาใด



15 นาฬิกา 10 นาที



2 : 15



นาฬิกานี้แสดงเวลาใด

2 นาฬิกา 15 นาที



18 : 40

นาฬิกานี้แสดงเวลาใด



18 นาฬิกา 40 นาที



10 : 25

นาฬิกานี้แสดงเวลาใด



10 นาฬิกา 25 นาที



23 : 00

นาฬิกานี้แสดงเวลาใด



23 นาฬิกา

กิจกรรม

ให้นักเรียนนำภาพนาฬิกาที่กำหนดให้มาใส่ใน
ตารางให้สัมพันธ์กับนาฬิกาแบบตัวเลข
และคำบอกเวลา



2 : 15

2 นาฬิกา 15 นาที

18 : 40

18 นาฬิกา 40 นาที

10 : 25

10 นาฬิกา 25 นาที

23 : 00

23 นาฬิกา



แบบฝึกหัด 5.7

สามารถดาวน์โหลดได้ที่ www.dltv.ac.th

MATH





กิจกรรมของปลายทางในวันนี้

คำชี้แจงกิจกรรมนักเรียน

1. อ่านคำสั่งของแบบฝึกหัด 5.7
2. ทำแบบฝึกหัด 5.7
3. ตรวจสอบคำตอบ

คำชี้แจงกิจกรรมครู

1. แจกแบบฝึกหัด 5.7
2. อธิบายคำสั่งของแบบฝึกหัด 5.7
3. ตรวจสอบความเข้าใจของผู้เรียน



1 โยงเส้นจับคู่เวลากับนาฬิกา

- | | | | | |
|----|---------|---|---|-------------------|
| 1) | 05 : 10 | • | • | 21 นาฬิกา 5 นาที |
| 2) | 10 : 25 | • | • | 0 นาฬิกา 35 นาที |
| 3) | 21 : 05 | • | • | 5 นาฬิกา 10 นาที |
| 4) | 00 : 35 | • | • | 10 นาฬิกา 25 นาที |

2 โยงเส้นจับคู่นาฬิกาที่แสดงเวลาเดียวกัน

1) 01 : 25 ● ●

2) 00 : 00 ● ●

3) 10 : 35 ● ●

4) 16 : 05 ● ●





สรุป

นาฬิกาแบบตัวเลขใช้เครื่องหมาย : คั่นระหว่าง
ตัวเลขที่บอกเวลาเป็นนาฬิกา กับตัวเลขที่บอกเวลาเป็นนาที
ตั้งขึ้น ตัวเลขหน้าเครื่องหมาย : บอกเวลาเป็นนาฬิกา
ตัวเลขหลังเครื่องหมาย : บอกเวลาเป็นนาที





บทเรียนครั้งต่อไป

เรื่อง การบอกระยะเวลาเป็นชั่วโมง

สิ่งที่ต้องเตรียม

แบบฝึกหัด 5.8

สามารถดาวน์โหลดได้ที่ www.dltv.ac.th

