


แบบฝึกหัด 5.3

1 โยงเส้นจับคู่ภาพนาฬิกากับเวลา (เวลากลางคืน)


1)		•	•	21 นาฬิกา
2)		•	•	3 นาฬิกา
3)		•	•	23 นาฬิกา
4)		•	•	22 นาฬิกา
5)		•	•	24 นาฬิกา

2) เติมเข็มนาฬิกาให้ตรงกับเวลาที่กำหนด (เวลากลางคืน)


1) 1 นาฬิกา 



2) 19 นาฬิกา 




3) 0 นาฬิกา 



4) 5 นาฬิกา 



5) 22 นาฬิกา 



3 บอกเวลาเป็นนาฬิกาทั้งเวลากลางวันและเวลากลางคืน



• กลางวัน • _____ นาฬิกา
 _____ นาฬิกา

• กลางคืน • _____ นาฬิกา
 _____ นาฬิกา



• กลางวัน • _____ นาฬิกา
 _____ นาฬิกา

• กลางคืน • _____ นาฬิกา
 _____ นาฬิกา



• กลางวัน • _____ นาฬิกา
 _____ นาฬิกา

• กลางคืน • _____ นาฬิกา
 _____ นาฬิกา



• กลางวัน • _____ นาฬิกา
 _____ นาฬิกา

• กลางคืน • _____ นาฬิกา
 _____ นาฬิกา