


แบบฝึกหัด 2.25

เขียนส่วนที่โจทย์ถามเพื่อสร้างเป็นโจทย์ปัญหา และเขียนประโยคสัญลักษณ์

1



โจทย์ปัญหาการบวก

โรงเรียนแห่งหนึ่งมีนักเรียนชาย 290 คน มีนักเรียนหญิง 299 คน

.....

.....

.....

ประโยคสัญลักษณ์

โจทย์ปัญหาการลบ

โรงเรียนแห่งหนึ่งมีนักเรียนชาย 290 คน มีนักเรียนหญิง 299 คน

.....

.....

.....

ประโยคสัญลักษณ์

2




เครื่องปิ้งขนมปัง
485 บาท



กระติกน้ำร้อน
724 บาท



เตารีด
259 บาท



หม้อหุงข้าว
899 บาท

โจทย์ปัญหาการบวก

แม่ซื้อเครื่องปิ้งขนมปังราคา 485 บาท และเตารีดราคา 259 บาท

.....

.....

ประโยคสัญลักษณ์

โจทย์ปัญหาการลบ

หม้อหุงข้าวราคา 899 บาท กระติกน้ำร้อนราคา 724 บาท

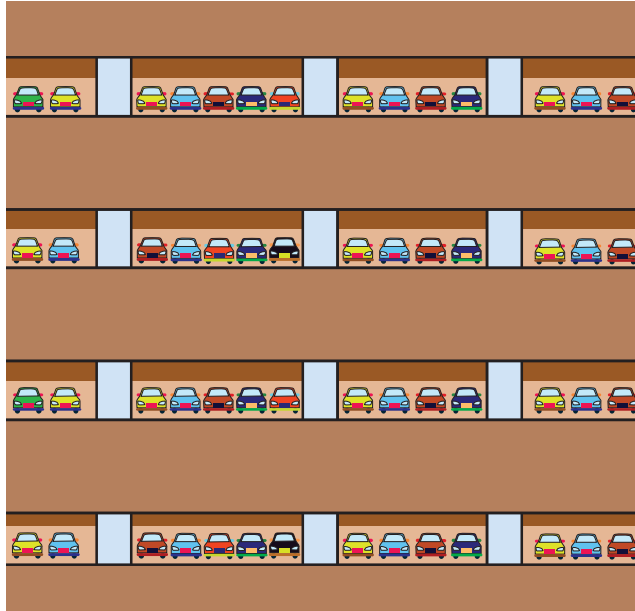
.....

.....

ประโยคสัญลักษณ์

3

ลานจอดรถ



ชั้นที่ 1 จอดรถได้ 235 คัน

ชั้นที่ 2 จอดรถได้ 288 คัน

ชั้นที่ 3 จอดรถได้ 312 คัน

ชั้นที่ 4 จอดรถได้ 215 คัน

โจทย์ปัญหาการบวก

ลานจอดรถชั้นที่ 1 จอดรถได้ 235 คัน ชั้นที่ 2 จอดรถได้ 288 คัน

.....

.....

.....

ประโยคสัญลักษณ์

.....

โจทย์ปัญหาการลบ

ลานจอดรถชั้นที่ 4 จอดรถได้ 215 คัน ชั้นที่ 3 จอดรถได้ 312 คัน

.....

.....

.....

ประโยคสัญลักษณ์

.....