



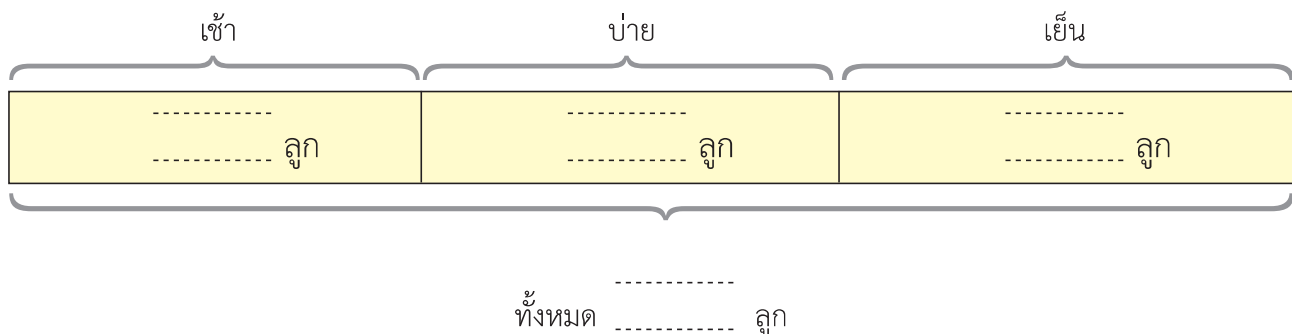
เฉลย

แบบฝึกหัด 2.23

เขียนคำตอบลงในช่องว่าง

- 1 ช่วงเช้าเป็ยกขายมะพร้าวอ่อนได้ 125 ลูก ช่วงบ่ายขายได้ 102 ลูก และช่วงเย็นขายได้ 150 ลูก เป็ยกขายมะพร้าวอ่อนได้ทั้งหมดกี่ลูก
- โจทย์ถาม เป็ยกขายมะพร้าวอ่อนได้ทั้งหมดกี่ลูก
- โจทย์บอก ช่วงเช้าเป็ยกขายมะพร้าวอ่อนได้ 125 ลูก ช่วงบ่ายขายได้ 102 ลูก และช่วงเย็นขายได้ 150 ลูก

แนวคิด



ประโยคสัญลักษณ์

.....

.....

.....

ตอบ เป็ยกขายมะพร้าวอ่อนได้ทั้งหมด ลูก

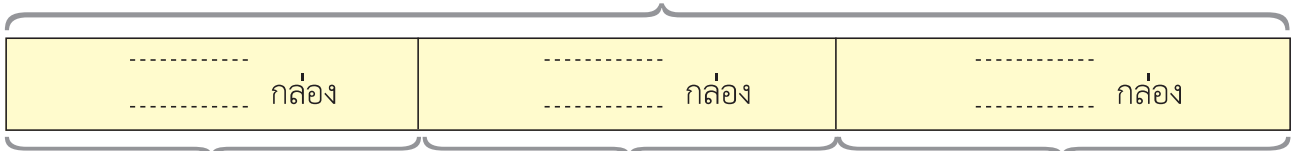
- ๒) มดมีน้ำผลไม้ 725 กล่อง เป็นรสอู่น 340 กล่อง เป็นรสส้ม 150 กล่อง ที่เหลือ
เป็นรสผลไม้รวม มดมีน้ำผลไม้รสผลไม้รวมกี่กล่อง

โจทย์ถาม มดมีน้ำผลไม้รสผลไม้รวมกี่กล่อง

โจทย์บอก มดมีน้ำผลไม้ 725 กล่อง เป็นรสอู่น 340 กล่อง เป็นรสส้ม
150 กล่อง

แนวคิด

น้ำผลไม้
..... กล่อง



รส

รส

รส

ประโยคสัญลักษณ์

.....
.....
.....

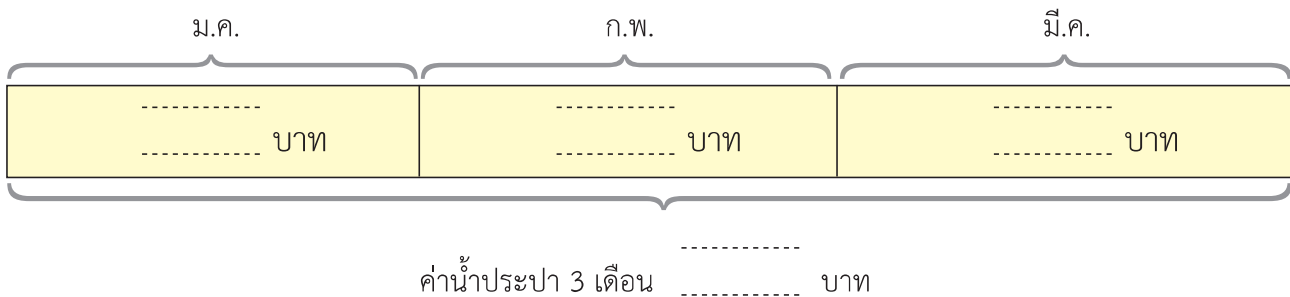
ตอบ มดมีน้ำผลไม้รสผลไม้รวม กล่อง

3 เข้มจ่ายค่าน้ำประปาเดือนมกราคม 234 บาท เดือนกุมภาพันธ์ 156 บาท และเดือนมีนาคม 218 บาท รวม 3 เดือนนี้ เข้มจ่ายค่าน้ำประปากี่บาท

โจทย์ถาม 3 เดือนนี้ เข้มจ่ายค่าน้ำประปากี่บาท

โจทย์บอก เข้มจ่ายค่าน้ำประปาเดือนมกราคม 234 บาท เดือนกุมภาพันธ์ 156 บาท และเดือนมีนาคม 218 บาท

แนวคิด



ประโยคสัญลักษณ์

.....

.....

.....

ตอบ รวม 3 เดือนนี้ เข้มจ่ายค่าน้ำประปา บาท

