

## แบบฝึกหัด 2.17

## 1 โยงเส้นจับคู่ จำนวนที่เป็นคำตอบ

1)  $970 - \square = 620$  • 630

2)  $\square + 250 = 680$  • 850

3)  $\square - 420 = 210$  • 390

4)  $310 + \square = 730$  • 810

5)  $\square - 730 = 120$  • 350

6)  $780 - \square = 590$  • 170

7)  $\square + 430 = 820$  • 430

8)  $\square - 390 = 420$  • 760

9)  $240 + \square = 410$  • 190

10)  $\square - 580 = 180$  • 420

## ๒) หาคำตอบโดยใช้ความสัมพันธ์ของการบวกและการลบ

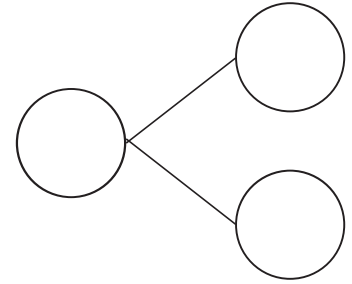
$$1) \quad \square + 480 = 900$$

ใช้ความสัมพันธ์ของการบวกและการลบ

.....

.....

.....



$$\text{ดังนั้น } 500 - \square = 360$$

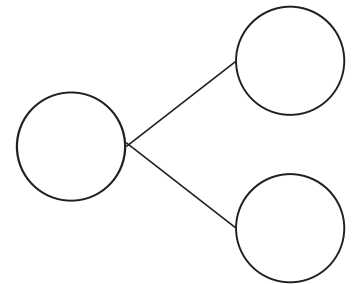
$$2) \quad 600 - \square = 330$$

ใช้ความสัมพันธ์ของการบวกและการลบ

.....

.....

.....



$$\text{ดังนั้น } 600 - \square = 330$$

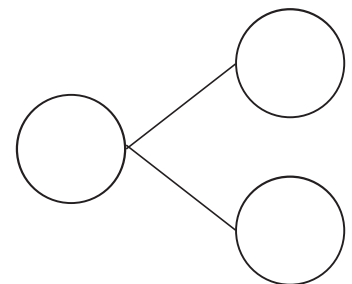
$$3) \quad 160 + \square = 597$$

ใช้ความสัมพันธ์ของการบวกและการลบ

.....

.....

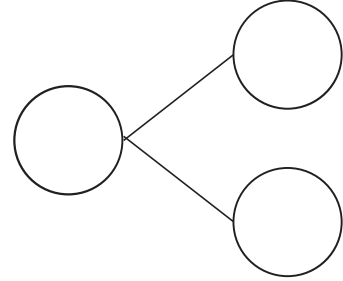
.....



$$\text{ดังนั้น } 160 + \square = 597$$

4)  - 498 = 30

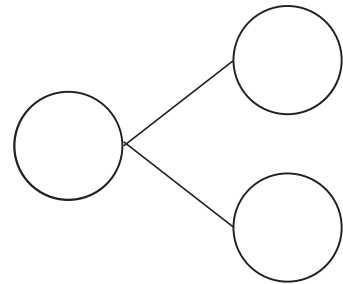
ใช้ความสัมพันธ์ของการบวกและการลบ



ดังนั้น  - 498 = 30

5) 695 -  = 332

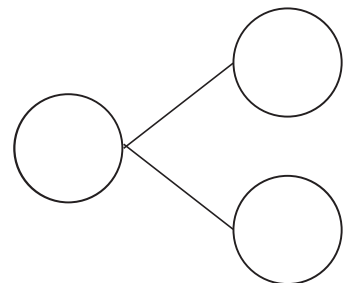
ใช้ความสัมพันธ์ของการบวกและการลบ



ดังนั้น 695 -  = 332

6)  + 510 = 999

ใช้ความสัมพันธ์ของการบวกและการลบ



ดังนั้น  + 510 = 999