

แบบฝึกหัด 2.16

1) เติมจำนวนลงใน

1) $300 + \text{[]} = 700$

2) $\text{[]} + 700 = 900$

3) $500 + \text{[]} = 800$

4) $900 - \text{[]} = 200$

5) $\text{[]} + 300 = 600$

6) $300 - \text{[]} = 0$

7) $800 - \text{[]} = 400$

8) $\text{[]} - 600 = 300$

9) $300 - \text{[]} = 100$

10) $\text{[]} + 400 = 500$

๒) หาคำตอบโดยใช้ความสัมพันธ์ของการบวกและการลบ

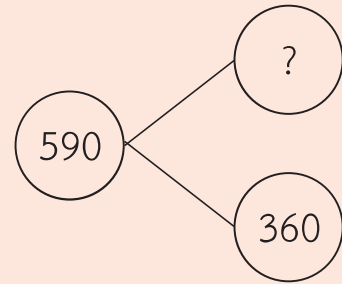
ตัวอย่าง $590 - \square = 360$

ใช้ความสัมพันธ์ของการบวกและการลบ

$590 - 360 = \square$

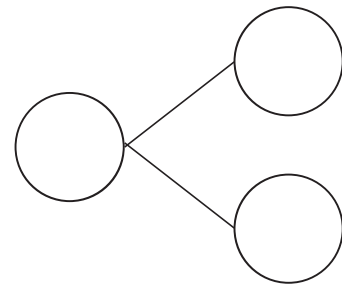
$590 - 360 = \mathbf{230}$

ดังนั้น $590 - \mathbf{230} = 360$



1) $\square + 310 = 490$

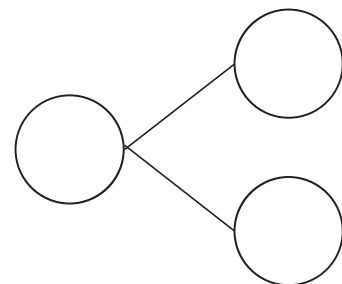
ใช้ความสัมพันธ์ของการบวกและการลบ



ดังนั้น $\square + 310 = 490$

2) $590 + \square = 940$

ใช้ความสัมพันธ์ของการบวกและการลบ



ดังนั้น $590 + \square = 940$

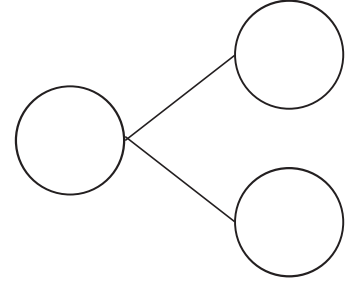
$$3) 730 - \square = 250$$

ใช้ความสัมพันธ์ของการบวกและการลบ

.....

.....

.....



ดังนั้น $730 - \square = 250$

.....

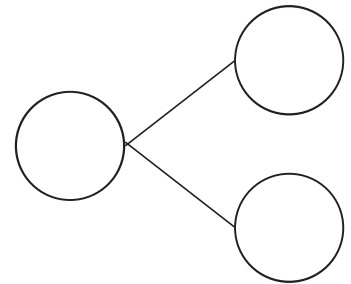
$$4) \square + 361 = 863$$

ใช้ความสัมพันธ์ของการบวกและการลบ

.....

.....

.....



ดังนั้น $\square + 361 = 863$

.....

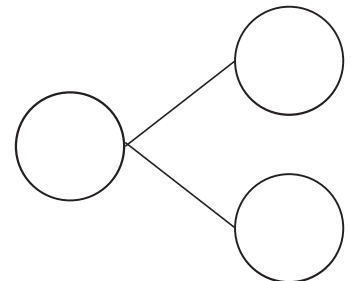
$$5) 736 - \square = 123$$

ใช้ความสัมพันธ์ของการบวกและการลบ

.....

.....

.....



ดังนั้น $736 - \square = 123$

.....